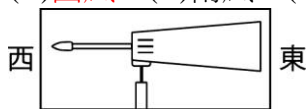


一、單選題：

1. (C)大炳為了慎重行使投票權，他認真閱讀有關選舉的相關報導，準備在投票時投下神聖的一票。請問：大炳的行為，是直接實踐下列哪一項公眾事務的表現？ (A)維護公共秩序 (B)關懷社會福利 (C)投入政治參與 (D)監督政府施政
2. (D)清廷經營臺灣，由南而北、由西而東，陸續設置地方行政單位。根據這個發展的次序，下列哪一個行政區是最晚設立的？ (A)淡水廳 (B)彰化縣 (C)諸羅縣 (D)噶瑪蘭廳
3. (A)「.....這個中國城市具有優良的港灣，腹地內的第一、二級產業發達，交通完善便捷，吸引許多日本人來此投資，將來可望成為東北亞的經貿和旅遊中心。」請問：文中所述的城市，最可能是下列哪一個？ (A)大連 (B)北京 (C)西安 (D)廣州
4. (C)近年來，中央健康保險局積極向民眾宣導「小病在小診所就診，大病到大醫院就醫」的觀念，並配合轉診措施的推展，以落實醫療分級制度。請問：上述做法最主要是希望達到下列何種目的？ (A)降低部分負擔 (B)強化社區保健 (C)善用醫療資源 (D)實施醫藥分業
5. (B)艾華和同學討論研究心理狀態的方法，他認為：夢可以作為認識人類潛意識的途徑之一。這個看法是源自下列何人的理論？ (A)愛因斯坦 (B)佛洛伊德 (C)居禮夫人 (D)史坦貝克
6. (B)民國 42 年，政府曾提出「以農業培養工業，以工業發展農業」的口號，它代表的意義為何？ (A)工業是農業的基礎 (B)農業是工業的基礎 (C)農業、工業關係密切 (D)農業、工業互不相關
7. (C)自由權的內容很多，其中最基本的權利是下列何者？ (A)行動自由 (B)集會自由 (C)人身自由 (D)言論自由
8. (D)人民可以向政府請求享受或維護其利益的權利是 (A)參政權 (B)自由權 (C)平等權 (D)受益權
9. (B)中國傳統文化中，講究「誠實信用」的原則，此原則屬於哪一種社會規範？ (A)輿論 (B)道德 (C)法律 (D)風俗習慣
10. (D)刑法中剝奪財產權的罰責是下列何種？ (A)死刑 (B)有期徒刑 (C)無期徒刑 (D)罰金
11. (C)今年的班際籃球賽，本班屈居第二，大夥都很不服氣。請問：下列哪一種做法是最高明的選擇？ (A)踢廁所的門或打破玻璃來洩憤 (B)開口辱罵對方，並找裁判理論，且懷疑裁判不公 (C)帶領班級繼續苦練，機會成熟時，邀請冠軍班級再度比賽 (D)和對方打一架
12. (D)對於民事訴訟和刑事訴訟的判決不服時，除法律有特別規定外，原則上最高可上訴到哪一機關？ (A)司法院 (B)地方法院 (C)高等法院 (D)最高法院
13. (B)在網路上流通的文字與圖片等資訊均受到哪一項法律保護？ (A)公平交易法 (B)著作權法 (C)勞動基準法 (D)意見保護法
14. (C)我們常在網路上約定俗成的行為規範，可將其稱之為 (A)網路法 (B)網路規定 (C)網路禮節 (D)網路限制
15. (B)少年常見違反道路交通管理處罰條例有：(甲)無照駕駛(乙)騎機車蛇行(丙)騎機車未戴安全帽(丁)騎機車吐檳榔汁 (A)甲乙丙丁 (B)甲乙丙 (C)甲乙丁 (D)甲丙丁
16. (B)酒後駕車如果超過測量的標準值，則將構成何罪？ (A)道路交通管理處罰條例 (B)公共危險罪 (C)社會秩序維護法 (D)妨害自由罪
17. (C)對於「法治政治」的敘述，正確的是 (A)法律是人民組成議會制定的，故議會本身不必遵守 (B)法律是用來監督政府施政的，故只要求政府遵守即可 (C)人民、議會、政府之活動皆必須在法律許可的範圍內 (D)是獨裁政體應具備的四要素之一
18. (B)統治者由人民自由選舉產生，並對人民和國會負責，且沒有世襲君主的是 (A)君主立憲國 (B)民主共和國 (C)君主獨裁國 (D)獨裁共和國

19. (B)立法機關又稱為國會，我國目前唯一的立法機關是哪一機構？ (A)國民大會 (B)立法院 (C)司法院 (D)行政院
20. (C)一般民主國家的行政首長皆擁有實權，如美國總統、英國首相，若其施政發生嚴重疏失，就應負起施政責任認錯道歉，或是請辭下臺，此即民主政府運作的何項原則？ (A)分權制衡原則 (B)多數統治原則 (C)權責相當與負責原則 (D)人民主權原則
21. (D)當中央與直轄市、縣(市)發生權限爭議時，應由立法院院會解決之，那當縣與鄉(鎮、市)間發生爭議時，則應由哪一單位會同中央各該主管機關解決？ (A)縣議會 (B)行政院 (C)警政署 (D)內政部
22. (B)在地方，若想要請求清除垃圾，此應屬於哪一個單位的權責？ (A)稅捐處 (B)環境保護局 (C)戶政事務所 (D)衛生局
23. (B)下列哪些是地方自治的行政機關？(甲)花蓮縣政府(乙)板橋市議會(丙)三峽鎮公所(丁)永和市民代表大會 (A)甲乙 (B)甲丙 (C)乙丁 (D)丙丁
24. (C)下列何者不是現今臺灣地區較具影響力的政黨？ (A)親民黨 (B)民主進步黨 (C)建國黨 (D)中國國民黨
25. (A)星期日小華和媽媽到火車站買車票時，看到車站前有许多人排隊簽名連署大功和小功參選總統、副總統。請問：他們這麼做的理由為何？ (A)大功和小功是無黨籍候選人 (B)提高知名度 (C)籌措經費 (D)辦活動以提升火車載客量
26. (A)中華民國各項公職人員或民意代表候選人的年齡限制，若按照年齡高低排列，何者順序正確？(甲)總統、副總統(乙)縣(市)長(丙)鄉鎮(市)長(丁)直轄市長 (A)甲丁乙丙 (B)甲乙丙丁 (C)丙丁乙甲 (D)甲乙丁丙
27. (A)阿鴻喜歡叩應到電視臺的談話節目發表自己的意見，還曾參加教師遊行及反核四靜坐抗議等活動。請問：這是屬於哪一種行為？ (A)政治參與 (B)妄想出名 (C)吃飽太閒 (D)製造社會不安
28. (D)民主社會中，最重視人民的權利，但個人除了維護自己的自由權利之外，更不要忘記別人的自由權利與公共的利益，這是指哪一項民主素養？ (A)保持溫和理性 (B)彼此尊重與包容 (C)服從多數，尊重少數 (D)懂得自治與自制
29. (D)下列哪一項是學習民主知識的方法？ (A)上網與網友聊天 (B)參與運動競賽 (C)假日到戶外踏青 (D)觀看大眾傳播媒體的報導與討論
30. (A)一個國家有好的法律和高效能的行政，能圓滿達成與實現，必須要國家與國民 (A)關心國事、積極參與 (B)服從多數，尊重少數 (C)和平與理性 (D)尊重與寬容
31. (B)小英現在想做的事排列順序為：睡覺、逛街、聽音樂、玩電腦，假如小英選擇睡覺則其機會成本為何？ (A)睡覺 (B)逛街 (C)聽音樂 (D)玩電腦
32. (B)對於機會成本的敘述，下列何者正確？ (A)接受朋友請客，不用花錢，所以，不用付出代價 (B)是指放棄選項中價值最高的部分 (C)當人們在決定選擇時會選擇機會成本最高的選項 (D)機會成本就等於生產成本
33. (A)透過人力、物力的投入以增加或創造產品的行為稱做什麼？ (A)生產行為 (B)消費行為 (C)選擇行為 (D)勞動行為
34. (D)一般來說，參與分工的人數愈多，愈會產生下列哪一項結果？(甲)分工合作可以更精細(乙)生產量因競爭的結果，會減少(丙)每個人所享用的產品數量可以增多(丁)每個人所享用的產品種類可以增多 (A)甲乙丙 (B)乙丙丁 (C)甲乙丁 (D)甲丙丁
35. (C)政府大量印製鈔票可能會有怎樣的後果？ (A)生活品質上升 (B)商品產量增加 (C)物價上漲 (D)購買量增加
36. (A)小志是國中生，喜歡逛街購物，最近在外婆來家裡住幾天，多了1,000元的零用錢，這一個月小志的消費可能會產生什麼情形？ (A)逛街的次數變多 (B)買文具的次數變多 (C)班費交的比較多 (D)在家的時間變長
37. (D)政府維持公平交易的處理方式為何？(甲)訂定公定價格(乙)協助提供買賣相關資訊(丙)監督交易過程(丁)成立公營事業(戊)仲裁交易的糾紛 (A)甲乙丙 (B)乙丁戊 (C)丙丁 (D)甲戊

38. (B)政府往往以何種方式矯正經濟活動所產生的「外部成本」？ (A)發行公債 (B)訂定法規 (C)投資外幣 (D)設立基金
39. (C)行政部門在進行施政報告時，誰有權力可以針對收支部分加以質詢？ (A)監察委員 (B)司法委員 (C)立法委員 (D)考試委員
40. (A)小虹到澎湖群島去玩時，最有可能看到哪一種特殊地形景觀？ (A)玄武岩方山 (B)鐘乳石 (C)風化窗 (D)峽灣
41. (B)下列哪一項不是人民對政府應有的態度？ (A)對施政應時時關心 (B)只支持有利於自己的政策 (C)理性批評施政 (D)對施政提出建設性的意見
42. (D)下列哪一項不是民主政治的特色？ (A)主權在民 (B)以法治為依歸 (C)服從多數人的意見 (D)以感情為基礎
43. (B)下列哪一項是我國地方的民意機關？ (A)立法院 (B)鄉民代表會 (C)社會局 (D)勞工處
44. (D)若想要計算某地的人口密度，就必須蒐集到下列哪些必要資料？ (A)性別、職業 (B)人數、性別 (C)年齡、性別 (D)人數、面積
45. (A)下列哪一項是影響臺灣南部冬乾夏雨的主要因素？ (A)地形和季風 (B)緯度和季風 (C)地形和洋流 (D)距海遠近和地形
46. (B)「西北風落不過田埂」是先民在缺乏精確的氣象儀器下所觀察到的經驗。若以目前的氣象知識，可知這種現象是受什麼影響？ (A)地形 (B)對流 (C)鋒面 (D)氣旋
47. (B)阿中開車沿高速公路南下時，天空總是陰陰沉沉的，尤其到苗栗三義一帶，經常雲霧瀰漫，過了三義到大安溪橋，馬上豁然開朗，如此陰陽兩界以何者為分界？ (A)中央山脈 (B)雪山山脈 (C)桃園台地 (D)玉山山脈
48. (A)下列關於臺灣原住民社會的敘述，何者正確？ (A)原住民分為平埔族和高山族 (B)皆屬母系社會，家產由女子繼承 (C)皆屬父系社會，家產由男子繼承 (D)各自發展成為類似國家的政治組織
49. (A)春節期間，小明全家到著名的「九族文化村」度假，此次旅遊讓他收獲甚多，因為他實地了解臺灣哪一族群的生活方式和習俗？ (A)高山族 (B)平埔族 (C)客家族 (D)閩南族
50. (A)臺灣雖然有著眾多的高山，但是這些高山卻非常一致的呈南北走向。請問：最可能的原因是什麼？ (A)板塊擠壓的方向 (B)河流堆積的位置 (C)季風吹拂的方向 (D)火山噴發的位置
51. (C)下列哪一島嶼或島群位於臺灣海峽上？ (A)綠島 (B)蘭嶼 (C)澎湖群島 (D)釣魚臺列嶼
52. (D)可以清楚的看到地面土地利用情形的地圖是 (A)等高線地形圖 (B)分層設色圖 (C)剖面圖 (D)衛星影像圖
53. (C)有關天氣的正確詞句是 (A)臺灣的「竹風蘭雨」著名 (B)昆明「四季如春」 (C)今天「風和日麗」 (D)地中海區「冬雨夏乾」
54. (D)「新竹米粉」的製作是善用當地氣候的何種特性？ (A)強烈的低氣壓 (B)旺盛的對流雨 (C)溫溼的西南風 (D)強勁的東北風
55. (B)附圖是某地方的氣象觀測儀。請問：由圖可知當時正吹著哪一個方向的風？ (A)東風 (B)西風 (C)南風 (D)北風



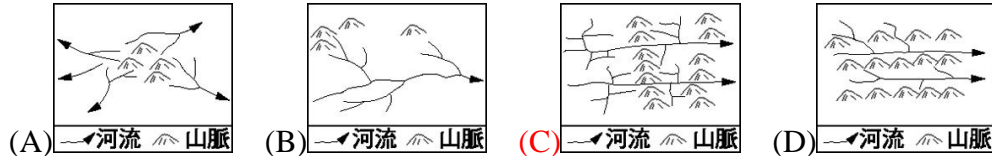
56. (C)臺灣冬季常發生乾旱的地區是 (A)宜蘭平原 (B)臺東縱谷 (C)西南部平原 (D)北部丘陵台地
57. (B)冬季時臺北陰冷潮溼，墾丁依舊豔陽高照，影響兩地氣候差異的主因是 (A)地形 (B)緯度 (C)季風 (D)洋流
58. (D)顏思齊到臺灣不久去世，由何人繼續領導其部眾？ (A)鄭成功 (B)郭懷一 (C)林爽文 (D)鄭芝龍

59. (A)明末為何荷蘭人由澎湖轉進臺灣時，明廷默認，但欲入侵澎湖時，雙方兩度不惜以武力相向呢？ (A)澎湖是中國的領土 (B)臺灣因原住民雜居，落後未開發 (C)位處大洋，政府控制不易 (D)明廷武力沒有絕對的把握
60. (C)下列諸地名配對，何者有誤？(A)蛤仔難 — 宜蘭 (B)大員 — 安平 (C)滬尾 — 雞籠 (D)笨港 — 北港
61. (B)荷以何地為其遠東基地，競逐海外利益對抗西班牙？ (A)澳門 (B)爪哇 (C)澎湖 (D)呂宋
62. (A)因原住民有語言，無文字，荷人為方便傳教及教化，而創「紅毛字」，請問：是利用何字拼音？ (A)羅馬字 (B)荷蘭文 (C)阿拉伯文 (D)英文
63. (C)西班牙占領北臺灣時，將傳教和教育結為一體，傳布什麼宗教，頗具成效？ (A)基督教 (B)伊斯蘭教 (C)天主教 (D)佛教
64. (C)下列哪一機構對臺灣糖業發展極具貢獻，可說是臺灣糖業公司的前身？ (A)英國東印度公司 (B)西班牙東印度公司 (C)荷蘭東印度公司 (D)日本東印度公司
65. (B)荷蘭人成立的東印度公司，負責遠東的活動，其經營方式為何？ (A)民間集資 (B)官民合營 (C)國家經營 (D)私人經營
66. (B)臺南縣的六甲、臺北市的三張犁，其地名的由來與下列哪一史實有關？ (A)原住民的耕作制度 (B)荷據時代的土地制度 (C)鄭成功時代的屯田政策 (D)中央政府遷臺後的土地改革措施
67. (A)在臺灣最早引進黃牛，並設立專門機構繁殖牛隻是在下列哪一時期？ (A)荷據時代 (B)鄭氏治臺時期 (C)日本殖民統治時期 (D)清領時期
68. (A)十七世紀荷蘭人占領臺灣期間，對漢人的壓迫統治，下列敘述何者錯誤？ (A)對漢人的行動，沒有任何限制 (B)嚴禁漢人私藏武器和自由集會 (C)強迫娶基督徒原住民女子為妻的漢人改信基督教 (D)嚴禁漢人與原住民私相交易，對漢人開徵各項苛捐雜稅
69. (D)民主政治最簡單的意義是什麼？(甲)公共事務由公眾決定(乙)自己管自己的事(丙)自掃門前雪(丁)天下人管天下事 (A)甲乙 (B)乙丙 (C)丙丁 (D)甲丁
70. (A)白雲是高雄市市民，她想參與市議員選舉。請問：他應該到何處辦理登記？ (A)高雄市選舉委員會 (B)高雄市政府 (C)內政部中央選舉委員會 (D)考試院
71. (C)依我國憲法規定，中華民國國民年滿幾歲，依法才有選舉權？ (A)18 (B)19 (C)20 (D)23
72. (B)買票、送禮等賄選行為是違法的，每個人都可以檢舉，因為賄選行為違反哪一種法律？ (A)《民法》 (B)《刑法》 (C)《中華民國憲法》 (D)《兩性工作平等法》
73. (B)我國五院中的哪一院，其委員均由人民選舉產生？ (A)行政院 (B)立法院 (C)司法院 (D)考試院
74. (B)總統副總統任期幾年？ (A)三年 (B)四年 (C)五年 (D)六年
75. (C)下列何者是民主國家中政黨的重要功能？ (A)贏得選舉以取得政權 (B)表達利益團體的意見 (C)匯集人民的利益，服務選民 (D)爭取黨自身的利益
76. (C)在野黨負責監督政府的施政，而監督的方式包括可透過哪一單位進行法案、預算審查？ (A)監察院 (B)司法院 (C)立法院 (D)行政院
77. (B)下列何種狀況會出現在監察院？ (A)掌理公務人員的退休事宜 (B)糾正行政機關的不當施政 (C)審查中央的年度預算 (D)統一解釋法律與命令
78. (C)有權對總統、副總統之彈劾案做表決的是哪些部門？(甲)行政院(乙)立法院(丙)國民大會(丁)監察院 (A)甲乙 (B)甲丁 (C)乙丙 (D)丙丁
79. (A)我國採用候選人的得票數比其他高，即屬當選；不一定要超過半數，這是哪一種當選制？ (A)相對多數 (B)絕對多數 (C)相對少數 (D)絕對少數
80. (C)我國最高的政權機關是 (A)立法院 (B)國民大會 (C)行政院 (D)總統府
81. (B)臺灣近年來所面臨的人口問題，下列何者為非？ (A)高齡化社會 (B)平均壽命不升反降 (C)生育率下降 (D)外籍新娘比例攀升

82. (D)影響一國國力和經濟力的是「人口素質」，人口素質能由哪些因素來觀察？ (A)人口職業與所得 (B)人口性別與多寡 (C)人口年齡與數量 (D)人口組成與教育
83. (D)人口金字塔可以幫助我們了解人口組成的何種特性？ (A)人口分布 (B)教育程度 (C)人口密度 (D)性別與年齡別
84. (A)東南亞國家大多是屬於哪一種產業國家？ (A)勞力密集 (B)技術密集 (C)資金密集 (D)污染密集
85. (C)在臺灣經濟發展過程中，國際貿易具有相當重要的地位。請問：臺灣主要的三大進口國家為下列何者？(甲)美國(乙)中國大陸(丙)日本(丁)香港 (A)甲乙丙 (B)乙丁 (C)甲丙丁 (D)甲丙
86. (A)整個臺灣以北部區域為人口大量移入地區，其最大的理由是什麼？ (A)北部區域居民的平均每人所得比其他區域高 (B)中央政府暫駐於北部地區 (C)北部區域自然環境優於其他區域 (D)北部區域運輸系統較發達
87. (C)臺灣的國家公園大多以豐富的自然景觀生態聞名於世，但下列哪一個國家公園的設置卻以保存富有歷史意義的人文景觀為主？ (A)墾丁國家公園 (B)太魯閣國家公園 (C)金門國家公園 (D)雪霸國家公園
88. (C)閩臺通訊社曾引述臺灣某一時期的流行語：盟軍轟炸「驚天動地」，臺灣光復「歡天喜地」，官吏貪瀆「花天酒地」，政治混亂「黑天暗地」，物價飛漲「呼天喚地」。這個流行語的時代背景是： (A)實施戒嚴法 (B)八二三炮戰 (C)光復初期 (D)退出聯合國
89. (A)中央政府遷臺以來，我國在外交上的處境日益艱難，尤其是下列哪一事件的發生，使臺灣的國際地位更形孤立，政府改採彈性外交政策？ (A)退出聯合國 (B)八二三炮戰 (C)二二八事件 (D)解除《戒嚴令》
90. (A)二二八事件是歷史的傷痛，對臺灣日後的發展與族群融合產生不良的影響。請問：我們應該對此事件有什麼省思？ (A)我們都是臺灣人，應該不分省籍與族群 (B)具有意義的節日，因為我們又多了一天國定假日 (C)臺灣人是二二八事件的受害者，我們應該把外省人趕離臺灣 (D)二二八事件已經是歷史，我們應該將此事淡忘
91. (A)民國七十六年是兩岸關係走入新紀元的一年，這一年臺灣政府除了解除戒嚴之外，更開放了下列哪幾項事務？(甲)開放大陸探親(乙)兩岸文化交流(丙)兩岸直接貿易(丁)推展一國兩治 (A)甲乙 (B)乙丙 (C)甲丁 (D)乙丁
92. (D)何者是規定國家基本組織、人民權利義務和其他國策的基本大法？ (A)行政訴訟法 (B)刑法 (C)民法 (D)憲法
93. (A)小玲被鄰居立華騙至臺中，將她軟禁並監聽她與外界的聯絡。請問：立華涉及並侵犯小玲的何種自由權？ (A)人身、祕密通訊自由 (B)遷徙、祕密通訊自由 (C)人身、遷徙自由 (D)意見、祕密通訊自由
94. (A)下列關於刑法目的的敘述，何者不正確？ (A)壓榨犯人 (B)教化犯人 (C)給犯人贖罪的機會 (D)維持社會秩序
95. (C)下列哪一項行為不屬於刑法的範圍？ (A)俊傑背叛國家，竊取機密情報給中共 (B)嘉民不配合警察的酒測還辱罵警察 (C)信強欠昭明一百萬都不還 (D)蓓莉家的菲傭趁她不在時偷錢
96. (A.B)大銘今年剛滿十九歲。請問：下列關於他的敘述哪一項是錯誤的？ (A)他要結婚需要得到父母的同意才具有法律效力 (B)他現在已經不適用少年事件處理法了 (C)他如果違反刑法必須負完全的刑事責任 (D)他如果違反民法必須負完全的民事責任
97. (A)下列各項行為中，何者不構成贓物罪？ (A)無意收買 (B)幫忙搬運 (C)收受 (D)寄藏
98. (B)彭小姐利用閒暇之餘，參與下列四種人民團體的活動，其中何者是屬於職業性團體？ (A)綠黨 (B)安平鄉農會 (C)彭氏宗親會 (D)慈濟功德會
99. (B)君臣二人討論治國的方法，其對話如下——皇帝：「如何治理國家，人民才能安樂呢？」大臣：「國家不要太大，人口不要太多，國君要順應情勢，讓人民自然發展，不要

干涉人民的生活，去除外在的拘束，人民才能安樂。」請問：上述大臣的言論，反映出中國哪一個學派的政治思想？ (A)儒家 (B)道家 (C)墨家 (D)法家

100. (C) 西亞地區多數的房屋，牆很厚，門窗也很小。這種景觀和下列哪一地理因素最有關係？ (A)地形 (B)政策 (C)氣候 (D)產業
101. (B) 中國人的命名常能反映當代盛行的思想與觀念，如清末民初，胡適字適之、陳炯明號競存，就是明顯的例子。由他們二人的名字，可看出是受到當時何種思想的影響？ (A)師夷之長技以制夷 (B)優勝劣敗的進化原理 (C)驅逐韃虜的民族主義 (D)四海一家的世界思想
102. (C) 「某地區的河川，主流都切穿山脈入海，沿途多峽谷；支流與主流大致呈直角相交，形成特殊的水系。」請問：此地區的水文特徵最可能是下列何者？



103. (A) 我們在日常生活中購物時，要記得向商家索取統一發票，這是增加政府何種收入的有效方法之一？ (A)租稅 (B)規費 (C)舉債收入 (D)公營事業收入
104. (C) 小惠最近覺得心神不寧，憂心的媽媽決定帶她到附近的天主堂禱告。請問：下列何者應是小惠母女對天主堂中神職人員的正確稱呼？ (A)法師 (B)牧師 (C)神父 (D)比丘尼
105. (A) 清朝末年因為拒絕與英國平等通商而引發戰爭，但臺灣早在鄭氏治臺時期，即與英國簽訂通商條約並獲得極大的利益。請問：當時鄭氏與英國簽約通商的背景為何？ (A)明鄭為突破清廷經濟封鎖，開闢海外市場 (B)臺灣與英國聯盟，意圖壟斷南洋貿易市場 (C)英國挾船堅炮利之勢，脅迫臺灣開港通商 (D)西方傳教士為傳播基督教信仰，積極促成
106. (C) 淑萍拿到旅行社所發的傳單，上面寫著「您想看看中國大陸最進步的經濟中心？您想一窺長江入海口的浪濤江水？您想知道這個居於中國沿海航線中點的城市如何在這個世紀再出發？……」請問：這段敘述最可能是哪一個旅遊景點的文宣？ (A)香港 (B)深圳 (C)上海 (D)南京
107. (B) 班上有四位同學針對課本上「夜間是熱帶的冬天」這句話的成因，分別提出下列看法，請問：何者的說法比較正確？ (A)胖虎：「年雨量多，冬季對流雨頻繁。」 (B)阿福：「年溫差小，夜間氣溫較低。」 (C)大雄：「緯度低，晝夜長短變化大。」 (D)宜靜：「晚上常下雨，氣溫相對降低。」
108. (C) 臺灣早期以陰曆記日，並作為日常活動的依據，直到何時，才開始改用陽曆，推動星期制？ (A)鄭氏治臺 (B)清領時期 (C)日治時期 (D)中華民國在臺灣
109. (A) 在民主社會中，每個人都可以表達不同的政治主張，但是為了匯整民意、達成共同的政治目標，應注重下列哪一種制度的健全運作？ (A)政黨政治 (B)均權制度 (C)地方自治 (D)五權分立
110. (C) 某夜阿德散步時，一時興起而沿路跟追一位女士，造成該女士的驚恐，雖經巡邏員警勸阻，但他仍執意繼續跟蹤。請問：阿德的行為，最主要觸犯下列哪一種法律的規定？ (A)《民法》 (B)《刑法》 (C)《社會秩序維護法》 (D)《道路交通管理處罰條例》
111. (B) 小薇從書店買了一本《清聖祖康熙大帝傳》，她在查閱歷史課本後發現，「康熙」是清聖祖的年號。請問：在中國歷史上，哪一位帝王首先開始使用「年號」？ (A)秦始皇 (B)漢武帝 (C)隋文帝 (D)唐太宗
112. (B) 越南、泰國為世界重要稻米出口國，兩地盛產稻米的原因，除了高溫多雨的氣候條件外，還與下列哪一種環境最有關係？ (A)多港埠型的都市 (B)三角洲面積廣大 (C)中印文化的影響 (D)受殖民國的統治
113. (D) 阿芳閱讀某本科學家傳記時，讀到有關「時間與空間相對關係」的敘述，這套理論改變了傳統時空觀念，是現代物理學的大發現。由此判斷，阿芳最可能是讀到下列哪一位

- 人物的傳記？ (A)牛頓 (B)凱因斯 (C)佛洛伊德 (D)愛因斯坦
114. (A)大明是長生印刷廠的員工，他覺得廠內的工作條件不佳，想要爭取改善，那麼他參加下列哪一種團體，最能達成上述目的？ (A)工會 (B)商會 (C)農會 (D)宗親會
115. (A)法律規定，汽機車行近行人穿越道前應減速慢行，遇有行人穿越時，應先暫停，讓行人優先通過。如果駕駛人違反此項規定則依法處罰，此時該駕駛人即是負擔何種責任？ (A)行政責任 (B)民事責任 (C)刑事責任 (D)道義責任
116. (D)臺灣高地面積極為廣闊，下列何者不是臺灣高地常見的地理現象？ (A)多埤塘水庫 (B)樹種豐富多樣化 (C)採集約性耕作 (D)河運發達
117. (A)臺灣西南部的降水大部分集中在夏天，因此乾季特別長，為了讓當地居民日常用水不虞匱乏。請問：此地區最需要建造下列何種水利設施？ (A)水庫 (B)淨水處理工廠 (C)游泳池 (D)海水淡化廠
118. (C)目前臺灣正在發展高科技產業，下列哪一個工業園區以電子及精密機械或生物科技研發為主？ (A)屏東 (B)嘉義 (C)新竹 (D)宜蘭
119. (B)納稅是全民的義務，從市井小百姓到總統都要依法納稅，這是屬於民主政治中的何種政治？ (A)民意政治 (B)法治政治 (C)責任政治 (D)政黨政治
120. (C)因處理不當而讓 SARS 疫情擴散開來，衛生署長及臺北市衛生局長因此下臺，這是屬於民主政治中的何種表現？ (A)民意政治 (B)法治政治 (C)責任政治 (D)政黨政治
121. (B)政府設置軍隊，最主要是實現國家的哪一項功能？ (A)自由 (B)安全 (C)正義 (D)福利
122. (C)下列有關美國和英國的比較，何者正確？ (A)國體相同 (B)均屬共和國 (C)政體相同 (D)均屬獨裁國
123. (D)下列有關「國體 — 政體」的對應敘述，何者正確？ (A)國家的統治方式 — 國家的形態 (B)民主 — 獨裁 (C)世襲 — 選舉 (D)共和 — 民主
124. (B)民主政府運作的「分權制衡原則」指的是什麼？ (A)中央政府將行政職權下放給地方政府 (B)政府的行政、立法、司法三權分屬不同機構，彼此牽制，保持權力平衡狀態 (C)中華民國將考試、監察兩權從行政、司法兩權中分出 (D)正副首長各分其權，彼此制衡
125. (C)大法官是屬於下列哪個機關的組織？ (A)立法院 (B)行政院 (C)司法院 (D)監察院
126. (B)老師利用公民課的時間，帶領同學到監察院參觀，並聽取介紹監察院職權的簡報，下列何者可能會出現在簡報的說明中？ (A)負責統一解釋法律與命令 (B)糾正行政機關的不當施政 (C)審查中央政府的年度預算 (D)掌理公務人員的退休事宜
127. (C)我國公務人員高考，是由哪一機關所舉辦？ (A)行政院 (B)司法院 (C)考試院 (D)監察院
128. (B)在我國，五院中須由總統提名、立法院同意任命的有哪些人？(甲)行政院院長(乙)司法院院長(丙)考試院院長(丁)監察院院長 (A)甲乙丙 (B)乙丙丁 (C)甲乙丁 (D)甲丙丁
129. (C)人民對政府的態度，以下敘述何者正確？ (A)政府施政有缺失，人民要偏激的批評，不需給建議 (B)政府的政策，通常是不利於民，所以要反對，不支持 (C)人民透過定期選舉，可以決定誰執政，為民服務 (D)我們對於政府施政不需關心，要不理會
130. (B)下列何者最適合中央制定整體制度與政策方向，並由地方負責實際執行？ (A)國防建設 (B)國民教育 (C)國民旅遊 (D)外交政策
131. (D)夏秋之際，若有颱風來襲，當天各學校機關是否放假，是由下列哪一個機關依實際情況來決定？ (A)教育部 (B)總統 (C)中央氣象局 (D)地方縣市政府
132. (D)下列哪一種自由權是現代民主政治發展的重要指標？ (A)行動自由 (B)意見自由 (C)人身自由 (D)集會結社自由
133. (A)阿信到家電行訂了一臺冰箱，與商家約好禮拜六中午將冰箱送到阿信家中，並付清尾款。請問：以上雙方應盡的義務我們稱之為 (A)積極義務 (B)消極義務 (C)責任義務 (D)非責任義務

134. (A) 「憲法」規定人民有服兵役的義務，但過去有因宗教信仰而拒服兵役的情形。現在「替代役」的實施，則提供了其他的服役方式。因宗教因素而可選擇服「替代役」的做法，是基於下列哪一種考量？ (A)保障人民基本權利 (B)鼓勵民眾信仰宗教 (C)提高國民就業比例 (D)強化社會組織體系
135. (B) (甲)服兵役(乙)教養兒女(丙)受國民教育(丁)納稅。以上哪些是我國憲法規定的義務？ (A)甲乙丁 (B)甲丙丁 (C)乙丙丁 (D)甲乙丙丁
136. (B) 下列與民法相關的敘述，何者正確？(甲)民法是規範私人與政府間，所發生財產與身分權利義務關係變動的法律(乙)民法與國家的公權力行使有關(丙)貨品價格和交易方式只要買賣雙方決定即可(丁)消費者公平交易委員會設立的目的就是要保障民眾消費的權益 (A)甲乙丁 (B)甲丙丁 (C)乙丙丁 (D)甲乙丙丁
137. (A) (甲)購物即產生金錢往來的關係(乙)胎兒呱呱墜地後，就和父母親產生親子關係(丙)結婚生子，改變身分也建立新的權利與義務關係(丁)死亡的遺產分配。以上哪些選項屬於民法的範圍？ (A)甲乙丙丁 (B)甲乙丙 (C)甲乙丁 (D)乙丙丁
138. (A) (甲)民法中規定國中生的某些行為，沒有父母同意也具有法律效力(乙)國中生可以接受任何人送的禮物(丙)國中生可以買香煙(丁)國中生可以利用父母給的錢，參加學校辦的戶外教學。以上敘述何者正確？ (A)甲乙丁 (B)甲丙丁 (C)乙丙丁 (D)甲乙丙丁
139. (B) 「罪刑法定原則」代表什麼意義？ (A)不是法律明文規定，也可能是犯罪行為，就要接受刑罰 (B)不是法律文明規定就不是犯罪，不是犯罪，就沒有刑罰 (C)法律明文規定的一定是犯罪行為，但不一定要處罰 (D)法律明文規定，不一定是犯罪行為，所以不一定要處罰
140. (B) 根據刑法的「罪刑法定原則」，下列哪一項行為需要接受刑罰的制裁？ (A)大智常在小利面前說大雄的壞話 (B)阿輝不小心拿刀砍傷人 (C)正賢常常說謊 (D)素蘭忌妒別人條件比她好就常常在主管面前嚼舌根
141. (A) (甲)司法人員嚴守審判程序規定(乙)改進辦案手法(丙)尋求證據(丁)以感性判斷案件。以上哪些方式可以改善冤獄現象的再出現？ (A)甲乙丙 (B)甲丙丁 (C)乙丙丁 (D)甲乙丙丁
142. (D) 在哪一種情況下，容易造成誤判或冤獄？ (A)證據充分 (B)司法黃牛從中作梗 (C)司法人員專業能力不足 (D)人為疏失
143. (A) 依照什麼法律，雜貨店老闆不能賣菸給國中生？ (A)兒童及少年福利法 (B)刑法 (C)民法 (D)菸害防治法
144. (B) 十九歲的家銘犯下殺人罪目前在逃亡，逃亡期間小她三歲的女朋友麗美多次幫助他躲過警察的追捕。請問：如果他們兩個被捕後，將會受到什麼制裁？ (A)佳銘減輕刑責，麗美不用罰 (B)佳銘要負完全的刑事責任，麗美可以減輕刑責 (C)佳銘要負完全的刑責，麗美不用罰 (D)兩個人都可以減輕刑責
145. (D) 十三歲的澤亞因細故將同學打成重傷，那麼在「刑法」上，他將會受到何種處罰？ (A)無期徒刑 (B)有期徒刑 (C)拘役 (D)不罰，但可依少年事件處理法處理
146. (B) (甲)是否提起告訴的決定權是在加害人身上(乙)告訴乃論是針對輕微或較無損失公共利益的犯罪行為(丙)告訴乃論在告訴之人知悉犯人時起三個月內提出告訴(丁)妨害名譽屬於告訴乃論。以上針對「告訴乃論」的敘述，何者正確？ (A)甲乙 (B)乙丁 (C)乙丙 (D)丙丁
147. (B) 「告訴乃論」之罪指的是下列何種情況？ (A)由檢察官主動提起告訴的犯罪 (B)由被害人決定是否要提起告訴的犯罪 (C)由警察決定是否提起告訴的犯罪 (D)由被害人決定是否要調解的犯罪
148. (C) 關於「強制調解事件」的規定是如何？ (A)是屬於不能提起訴訟的事件 (B)皆要屬於刑事案件 (C)必須先調解，調解不能成立才可以訴訟 (D)皆要屬於民事案件
149. (D) 人民發生民事糾紛，最後必須由哪一個機關來為我們公平公正的審判？ (A)民眾服務處 (B)警察局 (C)調解委員會 (D)法院
150. (B) 就讀臺大法律系的小融，在準備法學考試時，看到以下敘述：(甲)刑事訴訟是國家在確

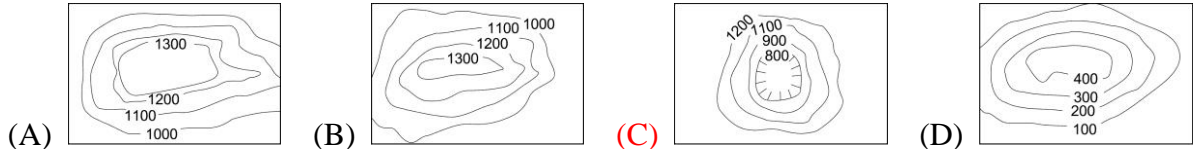
定被告是否犯罪以及該如何處罰進行的一種法律程序(乙)對於犯罪行為被害人可以提出告訴(丙)被害人以外的第三人可以「告發」(丁)被告與原告都向法官報案。請問：何者正確？ (A)甲乙丙丁 (B)甲乙丙 (C)甲乙丁 (D)甲丙丁

151. (C) 現代國民應有的法治觀念中，下列何種觀念是較恰當？ (A)自己權利受損時，不要主動向法院請求協助 (B)權利受損時，最好用私力解決，不要上法院 (C)權利受損時，應考量情況，尋找包括法律途徑等各種合理的解決方式 (D)權利受損時，為避免麻煩最好忍氣吞聲
152. (C) 阿忠因為被老闆炒魷魚所以心生不滿，在離職前一天，把電腦中的客戶資料進行部分更動，結果造成公司客戶帳單系統大亂。請問：阿忠的行為觸犯了哪一條罪？ (A)偽造文書罪 (B)竊盜罪 (C)毀損文書罪 (D)內亂罪
153. (D) 阿美今年十五歲，向小賴承租一間套房，阿美付了訂金並簽好契約。請問：阿美和小賴之間的租賃行為是否具有法律效力？ (A)有，因為阿美已簽契約 (B)有，因為阿美已經付錢 (C)沒有，因為沒有見證人 (D)沒有，因阿美未滿二十，所以須經過監護人同意
154. (C) 阿強被警察發現他攜帶開山刀，阿強可能觸犯了什麼法規？ (A)刑法之搶奪罪 (B)刑法之強盜罪 (C)社會秩序維護法 (D)少年不良行為及虞犯預防之辦法
155. (C) 志明買下輝智偷來的筆記型電腦，志明的行為已經犯了刑法上的何種罪？ (A)搶奪罪 (B)公共危險罪 (C)贓物罪 (D)強盜罪
156. (A) 昭儒在馬路上散步時，看到漂亮的 A 小姐，於是他一時興起就一路跟蹤 A 小姐，讓 A 小姐很害怕，雖然巡邏的警員前去勸阻，昭儒還是執意跟蹤她。請問：昭儒的行為已經觸犯了哪一個法規？ (A)社會秩序維護法 (B)少年事件處理法 (C)道路交通管理處罰條例 (D)少年及兒童福利法
157. (C) (甲)判刑(乙)輔導(丙)訓誡(丁)感化。以上哪些是少年保護事件的處分方式？ (A)甲乙丙 (B)甲丙丁 (C)乙丙丁 (D)甲乙丙丁
158. (A) 家庭暴力防治法頒布的目的是：(甲)促進家庭和諧(乙)防治家庭暴力行為(丙)保護被害人權(丁)防止兒童成為性交易對象 (A)甲乙丙 (B)甲乙丁 (C)甲丙丁 (D)乙丙丁
159. (D) 高二的阿智加入黑道幫派後，專門進行暴力討債。請問：警方可以用哪一種法規來將他移送法辦？ (A)兒童及少年福利法 (B)刑事訴訟法 (C)社會秩序維護法 (D)少年事件處理法
160. (B) 每當颱風來襲前夕，各地方政府會視實際情況決定放假與否。請問：此舉說明了地方自治的哪一項重要性？ (A)與人民最直接相關 (B)政策最能因地制宜 (C)協助執行中央政策 (D)地方經費來源缺乏
161. (D) 小敏所居住的社區因為外來人口多，導致車位難找，於是縣長決定在公園旁公有地上興建收費停車場以解決停車問題。請問：縣長的做法是否正確？ (A)錯誤，因為沒權力 (B)正確，因是外來人口 (C)錯誤，是不法斂財 (D)正確，屬地方自治
162. (D) 一個真正民主的國家，必須開放讓兩個以上的政黨來自由競爭，這是什麼政治的實現？ (A)民意 (B)法治 (C)責任 (D)政黨
163. (B) 各政黨無論在平時或選舉時，都可以從事競爭，但這種競爭應該要符合下列何項原則？ (A)不擇手段 (B)公平公開 (C)暗地較勁 (D)半透明化
164. (D) 核四爭議案中：民主進步黨持「非核家園」之立場，中國國民黨則持「國家經濟發展之需求」為立場，兩黨雖各持不同意見，但若能共同尋求折衷方案以解決爭議，將是全民之福。請問：這是符合政黨政治運作的何項原則？ (A)公開競爭 (B)民意優先 (C)多數執政 (D)協商讓步
165. (C) 有關「利益團體」的敘述，下列何者正確？ (A)關心範圍很廣、不固定 (B)內部成員異質性高 (C)內聚力強，比較能夠快速、有效的向政府反映意見 (D)沒有法律可規範它們
166. (C) 臺灣各政黨之間要如何相處，才能發揮政黨政治的功用？ (A)挑起族群意識 (B)強調意識型態 (C)彼此相互尊重、信任 (D)為求勝選不擇手段

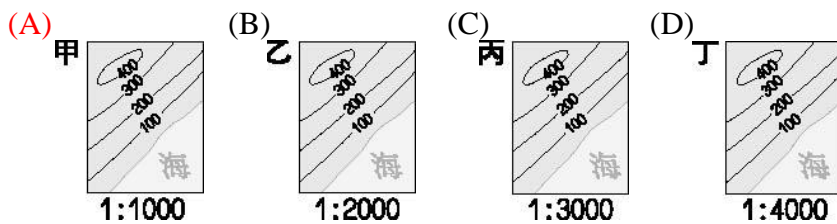
167. (D) 利益團體透過哪些活動來實現其理念或利益？(甲)推舉候選人(乙)遊說政府官員(丙)大眾傳播(丁)遊行示威 (A)甲乙丙 (B)甲乙丁 (C)甲丙丁 (D)乙丙丁
168. (A) 選舉的「直接原則」最能彰顯什麼精神？ (A)主權在民 (B)權能區分 (C)公平正義 (D)自由法治
169. (A) 有關選舉的敘述下列何者正確？ (A)選舉是民主政治的基石 (B)選舉只是政黨為了執政的工具 (C)選舉過程最重要的階段是候選人登記參選 (D)選舉的公平性是令人質疑的
170. (A) 若選民接受賄選，會被根據何法來處罰？ (A)刑法 (B)民法 (C)社會秩序維護法 (D)憲法
171. (B) 培養民主態度應該從什麼地方做起？ (A)參與投票的時候 (B)隨時從日常生活做起 (C)在公開場合的時候 (D)在觀看新聞媒體的時候
172. (D) 在日常生活食衣住行各方面，我們無時無刻都面臨著選擇的課題，那是因為什麼？ (A)上帝在考驗人類 (B)資源太多 (C)我們必須在錯誤中學習 (D)資源有限
173. (C) 穿的方面，不但要穿得暖、穿得舒適，還要美觀、端莊，這可用「好，還希望更好」來形容，其主要原因是什麼？ (A)生活安逸 (B)環境舒適 (C)欲望的追求 (D)精神的充實
174. (A) 下列有關經濟生活的敘述，何者正確？ (A)很久以前，人們幾乎不須花費許多代價就可獲得自然資源 (B)我們擁有的金錢總是充足的 (C)生活中不必透過選擇即可滿足欲望 (D)陽光是不須負擔任何成本的資源
175. (B) 由於颱風來襲，造成蔬菜產地大量損失，依經濟學的法則，在其他條件不變的情形下，蔬菜的供需關係應為何？ (A)供給量大於需求量 (B)供給量小於需求量 (C)供給量不變，需求量減少 (D)供給量增加，需求量減少
176. (C) 銷貨收入與生產成本、利潤的關係為何？ (A)銷貨收入固定時，生產成本愈低，利潤就愈低 (B)銷貨收入固定時，生產成本愈低，利潤就愈高 (C)銷貨收入提高時，生產成本固定，利潤就愈高 (D)銷貨收入降低時，生產成本固定，利潤就愈高
177. (C) 生產者的最終目的是什麼？ (A)擴大生產規模 (B)投入更多資本 (C)獲取利潤 (D)磨練企業才能
178. (C) 在荒島上的魯濱遜與星期五，每天各花二小時捕魚，二小時採野果。假設魯濱遜每小時可捕魚二條，每小時可採野果二公斤，而星期五每小時可捕魚四條，每小時可採野果一公斤。某日兩人協議分工合作，魯濱遜專責採野果，星期五專責捕魚。請問：分工後，魚與野果的總生產量有何變化？ (A)沒有變化 (B)野果減少二公斤，魚減少四條 (C)野果增加二公斤，魚增加四條 (D)野果增加四公斤，魚增加二條
179. (C) 「行行出狀元」、「職業不分貴賤」，每個人依其專業發揮所長來促使資源做最有效的運用來獲得最大的利益，這是屬於何種理論的主張？ (A)機會成本 (B)需求法則 (C)比較利益原理 (D)供需平衡
180. (B) 某國的金融博物館陳列的各國貨幣，非常有價值，該國人民都引以為豪。請問：目前各國通行的貨幣——紙鈔，其本身材料價值，都比貨幣面額 (A)高 (B)低 (C)相同 (D)無法比較
181. (A) 最近，哥哥急著想結婚，所以，他將所有的薪水投入股市，希望能在最短的時間內賺大錢，此時，哥哥所使用的理財工具為何？ (A)股票 (B)存款 (C)外幣 (D)保險
182. (B) 投資報酬指的是買賣間的價差，假如老趙以每股 60 元買進聯電的股票，當他賣出時股價已升到每股 75 元，則老趙的投資報酬率為何？ (A)20% (B)25% (C)30% (D)35%
183. (B) 對國中生而言，較適當的理財工具是下列哪一項？ (A)房地產 (B)存款 (C)股票 (D)黃金
184. (D) 所謂「無法排除他人使用」，這句話的意思是什麼？ (A)即使不排隊也可以使用 (B)若自己無法使用，就要讓給其他人使用 (C)排斥其他人的人無權使用 (D)很難排除和別人一起享用

185. (B)臺灣地區東、西部之間的交通自古不便，其主要原因是 (A)大河阻擋，難以橫渡 (B) **南北走向的山地，交通不便** (C)多火山，不易通行 (D)河床滿是鵝卵石，難以橫渡
186. (C)爸爸帶著小智到臺灣某一地理區，小智發現這裡的市區街道相當平坦，但是不管往哪一方向觀看，周圍都有較高的山地圍繞，此一地理區若位於北部，下列何者最符合上述之地理條件？ (A)大屯火山群 (B)大溪河階 (C) **臺北盆地** (D)林口台地
187. (A)地表上的侵蝕作用，會使得高山變為平地；堆積作用會使得低窪地區逐漸填平。下列是曾文溪的四個不同地點，哪一地點的侵蝕作用最強？ (A) **分水嶺處** (B)曾文水庫內 (C)曾文溪的攔砂壩上 (D)曾文溪口

188. (C)根據附圖中的等高線圖，何者代表盆地地形？



189. (D)在等高線地形圖中，等高線愈密集表示這個地區的地形有什麼特色？ (A)地勢愈高 (B)地勢愈低 (C)坡度愈平緩 (D) **坡度愈陡峭**
190. (A)附圖各小圖均為假想的海岸山地等高線圖。請問哪一張圖所示山地的地表坡度最大？



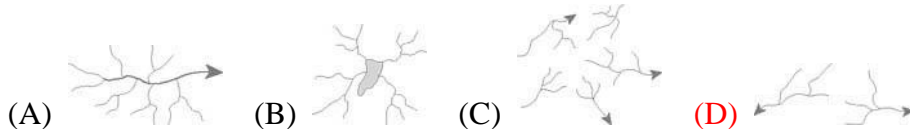
191. (A)小新亂撥電話不小心按到 166。請問： he 會聽到什麼內容？ (A) **歡迎使用中央氣象局天氣預報系統** (B)中原標準時間十八點整 (C)查號臺你好 (D)高速公路路況報導
192. (A)下列四人的描述，何者屬於天氣？ (A) **今天晴時多雲偶陣雨** (B)臺灣的颱風大都在七、八月 (C)五、六月的梅雨總是連綿不斷 (D)澎湖的降雨量是全臺最低的
193. (C)下列為天氣因子的意義，何者是正確的敘述？ (A)氣溫：指空氣溫度的高低，我國以華氏 (°F) 為單位 (B)雨量：指降水量的多寡，以公里 (Km) 為單位 (C) **氣壓：指大氣重量所造成的壓力，以「百帕」(hpa) 為單位** (D)風：空氣由低氣壓向高氣壓流動便形成風
194. (D)臺灣春季天氣善變，有「春天後母面」之諺，這是因為 (A)海洋冷氣團北上，冷鋒過境臺灣 (B)海洋暖氣團北上，暖鋒過境臺灣 (C)大陸暖氣團南侵，暖鋒過境臺灣 (D) **大陸冷氣團南侵，冷鋒過境臺灣**
195. (C)對於臺灣氣候的描述，下列何者正確？ (A)臺灣夏季普遍高溫，山地高於平地 (B)冬季降雨的水氣來源為西南季風 (C) **冬季常受蒙古冷氣團影響，普遍低溫** (D)臺灣降雨空間分佈不均，西岸多於東岸
196. (D)颱風風雨最強的區域在 (A)颱風眼 (B)颱風外圍 (C)暴風半徑 (D) **颱風眼附近**
197. (B)臺灣地區發展農業，需要水圳、埤塘等水利設施的配合，主要是受臺灣何項環境特色的影響？ (A)地形多山地、丘陵 (B) **降雨的時間與空間分布不均** (C)地震、颱風頻繁 (D)氣候溫暖
198. (B)是什麼因素造成臺灣各地降雨時間分配不均？ (A)緯度 (B) **季風** (C)地形 (D)鋒面
199. (C)臺灣中、南部地區的河川，大多建有水庫來調節水源。此一現象最能反映下列哪一項事實？ (A)位在東亞島弧中央 (B)致力發展精緻農業 (C) **降雨季節分布不均** (D)全力推動環境保育
200. (C)下列何者是颱風對我們帶來的影響？ (A)果菜降價 (B)疾病橫行 (C) **農作物受損** (D)魚產豐收
201. (D)有關臺灣的舊石器時代，下列何者正確？ (A)已出現玉器及宗教祭拜 (B)鐵器、銅器的使用 (C)種植根莖植物的原始農業 (D) **靠著敲打技術製造石器**
202. (A)原住民是臺灣最早的居民，下列有關原住民的敘述何者正確？ (A) **依居住地區分為高山族、平埔族** (B)明鄭時期臺灣才有文字 (C)清領時期原住民子弟可到蕃人公學校

接受教育 (D)行政院最近認定的第十二族是噶瑪蘭族

203. (D)生番、熟番是依據什麼來分？ (A)地域 (B)語言 (C)文化 (D)漢化與否
204. (A)歷史上，最早將臺灣原住民區分為高山族與平埔族，其劃分依據為何？ (A)分布所在地 (B)語言 (C)生活方式 (D)社會組織、制度
205. (A)南島語系的分布範圍西到 (A)馬達加斯加 (B)復活島 (C)關島 (D)馬來半島
206. (C)臺灣早期因語言、文化不同，加上地形阻隔，交通不便，各族群間來往不密切，以致各行其是，卻共創了臺灣早期文化，其時間應指何世紀以前？ (A)十世紀 (B)十三世紀 (C)十六世紀 (D)十八世紀
207. (B)臺灣地區的地震頻仍，地殼不穩，此現象與哪一項地理因素有關？ (A)山坡地開發不當 (B)位居板塊的接觸地帶 (C)過度開發地下水資源 (D)降雨季節分布不均
208. (C)沙岸與岩岸常有不同的景觀特徵，下列何種地形最常出現在岩岸地區？ (A)沙洲 (B)潟湖 (C)岬角 (D)海埔地
209. (B)墾丁國家公園是臺灣地區最為發達的石灰岩地形，石灰岩洞內鐘乳石、石筍、石柱琳瑯滿目，美不勝收。請問：塑造石灰岩地形特殊景觀的作用是 (A)冰蝕作用 (B)溶蝕作用 (C)海蝕作用 (D)風蝕作用
210. (D)麟山鼻位於臺灣島的北端，有巨大的安山岩塊，冬季受到強烈季風挾帶沙粒長期的磨蝕，其迎風面較光滑，背風側較粗糙。請問：粗糙面最可能朝向哪一方向？ (A)東北 (B)西北 (C)東南 (D)西南
211. (B)附圖中，根據「風」形成的原理，風向應該會是 (A)海洋→陸地 (B)陸地→海洋 (C)南→北 (D)西→東



212. (A)下列何者是「風」形成的原因？ (A)空氣由高壓處向低壓處流動 (B)空氣由高溫處向低溫處流動 (C)空氣由高處向低處流動 (D)空氣由密度低處向密度高處流動
213. (C)臺灣的平原和盆地有：(甲)嘉南平原(乙)屏東平原(丙)宜蘭平原(丁)臺中盆地(戊)臺北盆地。冬季受東北季風影響，常陰雨連綿的地區有 (A)甲乙 (B)甲丙 (C)丙戊 (D)丁戊
214. (A)進入冬季後南部地區降雨明顯稀少，其原因是 (A)位於東北季風背風側 (B)位於西南季風背風側 (C)日照太強烈 (D)緯度太低
215. (C)中山女高預定於一月分舉辦一項戶外活動，為使活動順利進行，避免受到「淒風苦雨」的天氣狀況所影響。請問：下列哪一個地點是較理想的選擇？ (A)九份 (B)野柳 (C)臺中亞哥花園 (D)宜蘭冬山河堤休閒風景區
216. (A)下列哪一敘述可說明小水珠的旅行順序？ (A)降水、逕流、蒸發、凝結 (B)逕流、蒸發、降水、凝結 (C)凝結、蒸發、逕流、降水 (D)降水、蒸發、凝結、逕流
217. (D)一流域和一流域的分界地方為 (A)水系 (B)流域 (C)集水區 (D)分水嶺
218. (C)臺灣大部分的河川都由東向西注入臺灣海峽。其原因是 (A)臺灣海峽比較淺 (B)臺灣的颱風多從東岸登陸 (C)臺灣山地在中央偏東 (D)受菲律賓海板塊向西推擠的影響
219. (D)下列何者最有可能是臺灣的河川水系圖形？



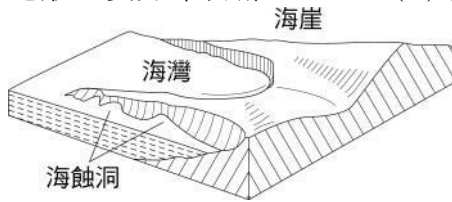
220. (B)臺灣的河川東、西分流，西部的河川較東部長，造成這種現象是受到下列哪一項因素的影響？ (A)氣候 (B)地形 (C)島嶼形狀 (D)島嶼面積
221. (A)造成臺灣南部河川流量變化很大的主要原因是什麼？ (A)降水季節分布不均 (B)終年高溫多雨 (C)平原廣大 (D)河川汙染嚴重
222. (A)大甲溪上游地區的山坡地超限利用，濫墾濫伐情形嚴重，將對德基水庫產生何種影響？

- (A)土壤流失，水庫淤積嚴重 (B)地層滑動 (C)地層下限 (D)氣候失調
223. (D) 苗栗地區多丘陵地形，山區土地多半開墾成「梯田」，這樣的土地利用方式主要是為了
(A)增加生產 (B)讓風景更美觀 (C)防止牲畜進入 (D)水土保持
224. (A) 君君到臺南的「熱蘭遮城」去校外參觀，請問：這個城是哪一個國家在臺灣建立的？
(A)荷蘭 (B)法國 (C)英國 (D)西班牙
225. (A) 俊彥熱愛歷史，想查閱荷人據臺時段古史，若您是位歷史老師。請問：您將建議他看下列哪些書會較詳細有助益了解？ (A)熱蘭遮城日誌(一)——江樹生譯 (B)臺灣通史——連橫著 (C)狂人日記——魯迅著 (D)臺灣民主國之研究——黃昭堂著
226. (B) 西班牙人入侵臺灣北部時間不長，但因他們將傳教與何者結合為一體，達到收效良好之功？ (A)醫療 (B)教育 (C)貿易 (D)武力
227. (A) 小華補習回家後他最喜歡的電視劇剛好播完，於是請妹妹講劇情給他聽：「今天男主角被抓去做陶俑，而女主角家因繳不出田賦，田地因此被沒收。」請問：這是指哪一種政治型態的現象？ (A)專制 (B)共和 (C)民主 (D)共管
228. (D) 阿誠不但能善盡公民的義務，還會主動了解民主政治的意義，請問：他是個具備何種素養的公民？ (A)道德 (B)文化 (C)法治 (D)民主
229. (B) 在討論公共事務時的態度，以下何者正確？ (A)要抱持成見，才能避免錯誤 (B)情緒化、衝動只會破壞和諧 (C)堅持支持的意見，不能妥協 (D)不需以是非善惡、利弊得失為標準
230. (A) 下列何者是屬於公德的部分？ (A)尊重法律 (B)自律 (C)道德責任 (D)尊重個人價值
231. (C) 政黨在選舉時，若要爭取選民的支持成為執政黨，必須特別重視 (A)利益團體 (B)革命 (C)民意 (D)黨主席的指示
232. (C) 民主國家，由於國事繁重，社會分工愈細，需要推選一些人來代表人民管理公共事務，這是什麼制度的由來？ (A)政黨制度 (B)議會制度 (C)選舉制度 (D)罷免制度
233. (C) 「華岡之狼」曾經喧嘩臺灣社會一時，造成許多婦女心理恐慌，不過法網恢恢，他終究得到法律的制裁。請問：「華岡之狼」為何沒有投票的資格？ (A)未滿二十歲 (B)居無定所 (C)被褫奪公權 (D)受禁治產宣告
234. (B) 下列何者符合「跨國企業」的意義？ (A)強盛國家壓榨弱勢國家 (B)美國微軟公司在國外設廠 (C)臺灣進口農工原料進行加工 (D)中國大陸輸出汽車零件到日本組裝
235. (A) 中央山脈是臺灣本島的脊梁山脈，它在臺灣地理位置上有著許多十分重要的畫分意義，下列何種現象形成的原因與中央山脈有關？ (A)西部地區人口密集，大型建設眾多 (B)臺灣全年多地震 (C)雨量比其他同緯度的國家要多 (D)東部海岸多峭壁陡崖
236. (C) 文聰想要登記參選花蓮縣長，那麼他必須至少幾歲以上才可以參選？ (A)二十三歲 (B)二十六歲 (C)三十歲 (D)三十五歲
237. (D) 從下列哪一種地理特色可以判斷臺灣島形成的時間較短，是屬於年輕的島嶼？ (A)河川東西分流，且急促 (B)山脈偏東半部，西部較多平原 (C)海岸線綿長，沙岸、岩岸種類多 (D)高山起伏，相對高度大
238. (D) 若將臺灣地區的海岸分成下列四區：(甲)東部(乙)南部(丙)西部(丁)北部，則附圖的海岸地形主要分布於哪一區？ (A)甲 (B)乙 (C)丙 (D)丁

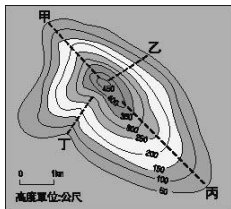


239. (B) 下列哪一種地形的成因和其他三者不同？ (A)蘭陽平原 (B)太魯閣峽谷 (C)八卦台地 (D)臺東縱谷
240. (C) 泰山高度只有 1,524 公尺，孔子卻說「登泰山而小天下」。請問：孔子認為泰山很高最可能的原因是什麼？ (A)因為中國大陸沒有其他更高的山 (B)因為孔子特別喜歡泰山的景色 (C)因為泰山位於平原地區，而顯得特別高 (D)因為泰山位於天下的中心

241. (D) 若將臺灣地區的海岸分成下列四區：(甲)東部(乙)南部(丙)西部(丁)北部，則附圖的海岸地形主要分布於哪一區？ (A)甲 (B)乙 (C)丙 (D)丁



242. (A) 康熙三十六年二月（國曆三月），郁永河從廈門乘船前往臺灣，此行的目的是採硫磺。船順著季風到達臺南海濱，迎面而來的是高於海面，形似大魚的「一鯤鯓」、「二鯤鯓」等地形。上岸後也由南而北走過榛荒遍野的老臺灣，到了五月五日，他抵達了目的地，該處的景觀特色是「草色萎黃無生意，白氣縷縷如山雲下吐青嶂間，風至，硫氣甚惡，草木不生，地熱如炙。」請問：文中提及「一鯤鯓」、「二鯤鯓」等地形，應該是 (A)沙洲 (B)瀉湖 (C)岬角 (D)海灣
243. (B) 小成到臺東進行三天兩夜的畢業之旅。請問：這三天中他最容易看到哪一種地形景觀？ (A)沙漠 (B)海崖 (C)瀉湖 (D)珊瑚礁
244. (C) 附圖是太平山的等高線圖，甲、乙、丙、丁四條線段是假想的登山小徑。如果你要陪同老人家一起散步登上此山，應選擇哪一條路徑較為妥當？ (A)甲 (B)乙 (C)丙 (D)丁



245. (D) 下列哪一項敘述是在描寫「天氣」？ (A)基隆雨，滬尾風 (B)恆春終年如夏 (C)正月寒死龜，二月寒死牛，三月寒死播田夫 (D)近日嘉南地區多午後雷陣雨
246. (C) 國內某些政黨於選舉前，先行舉辦黨內初選，最主要的作用是什麼？ (A)提供完整的政策 (B)提供國家建設的藍圖 (C)推薦理想的候選人 (D)推薦理想的黨主席
247. (D) 小華所屬的政黨在美麗社區舉辦總統造勢晚會，在會前共包了三輛遊覽車來載居民，在晚會中還揭發對手買票賄選的違法行為。請問：他們充分發揮了哪些政黨功能？(甲)匯集民意(乙)擬定政策(丙)教育民眾(丁)動員群眾 (A)乙丙 (B)甲丁 (C)甲乙 (D)丙丁
248. (D) 下列敘述何者正確？ (A)民主社會的人不喜歡結黨營私 (B)民主社會中，每個人都有支持的政黨 (C)一個人只能加入一個政黨 (D)民主政治的運作，必須要有政黨的存在
249. (B) 在野黨可使用下列哪些方法來監督政府？(甲)審查法案(乙)預算刪減(丙)動員群眾包圍政府(丁)施政質詢 (A)甲乙丙 (B)甲乙丁 (C)甲丙丁 (D)乙丙丁
250. (D) 一個現代化民主國家的政黨、選舉與民意間有著不可分的關係，下列敘述何者錯誤？ (A)政黨可推薦理想的公職候選人參與選舉 (B)政黨可提出完整、全盤的政策 (C)政黨可作為人民與政府間溝通的橋梁 (D)政黨不可組織政府，推行政策
251. (A) 下列哪些是政黨政治運作的原則？(甲)自由組黨與公開競爭(乙)以國家人民福祉為先(丙)少數執政、多數監督(丁)尊重寬容與協商讓步 (A)甲乙丙丁 (B)甲乙丙 (C)甲乙丁 (D)乙丙丁
252. (D) 如果政黨的表現太差，我們無法用哪一種方式來督促它改善？ (A)選票 (B)輿論 (C)組織人民團體 (D)預算刪改
253. (B) 我國利益團體對社會貢獻頗多，下列配對何者錯誤？ (A)消費者文教基金會 — 維護消費者權益 (B)董氏基金會 — 重視兒童福利 (C)羅慧夫顏顏基金會 — 關心兔唇兒 (D)伊甸社會福利基金會 — 爭取肢障同胞權益
254. (D) 下列關於政府與人民關係的敘述，何者正確？ (A)人民為政府而存在 (B)國家的主人是總統 (C)人民對政府的施政應完全信任，不必常常關心 (D)人民可以透過選票汰

換不適任的政府

255. (C)目前我國國小、國中教育由縣市政府負責；而專科以上教育則由隸屬中央政府的教育部負責。此種職權的劃分符合民權主義的何種主張？ (A)權能區分 (B)地方自治 (C)均權制度 (D)五權分立
256. (B)下列哪些項目屬於臺北縣議會的職權？(甲)代表縣民反映民意(乙)監督縣政府施政(丙)辦理地方自治行政事務(丁)審查臺北縣政府的預算 (A)甲乙丙 (B)甲乙丁 (C)甲丙丁 (D)乙丙丁
257. (B)小玲擁有自用住宅，並買了一部汽車，她收到路邊停車費、地價稅等繳費通知單，這些是屬於哪一種稅收？ (A)中央稅 (B)地方稅 (C)營業稅 (D)增值稅
258. (D)根據臺灣人口的分布特性與影響，下列敘述何者正確？(甲)東部人口密度較高(乙)過度集中於大都市(丙)高山地區人口稀疏(丁)全島資源共享容易 (A)甲乙 (B)乙丁 (C)甲丙 (D)乙丙
259. (A)人口成長快速的國家可能會出現下列哪一種現象？ (A)糧食不足 (B)平均壽命提高 (C)人力資源短缺 (D)男女性別比例不均
260. (B)李小韻家人的就業情況如下：阿公（種田）、小阿姨（國小老師）、爸爸（麵包店師傅）、媽媽（記者）、叔叔（鐵工廠工人）。請問：李小韻家裡從事第一、第二、第三級產業的人口各有多少？ (A)2、2、1 (B)1、1、3 (C)2、0、3 (D)1、2、2
261. (B)民國六十年代，政府將十大建設中的造船廠及石化工業設置於高雄，其所考量的區位要素以下列哪一項為主？ (A)原料 (B)交通 (C)人口數 (D)市場
262. (A)二二八事件期間，國軍抵臺進行一連串武力掃蕩，並實施鎮壓。請問：下列何者為清鄉的工作內容？ (A)清查戶口 (B)提倡節育 (C)預防傳染病 (D)清掃社區
263. (A)小華和爺爺在臺北二二八和平公園散步。當他們走到二二八紀念館前，爺爺訴說著紀念館的歷史。請問：二二八事件發生的當時，這座紀念館原來是 (A)臺灣廣播電臺 (B)臺灣電力公司 (C)臺灣農田水利會 (D)臺灣菸酒專賣局
264. (C)為因應國共內戰的緊急狀況，國民大會於民國三十七年制定何者為憲法的補充條款？ (A)社會秩序維護法 (B)戒嚴令 (C)動員戡亂時期臨時條款 (D)國家安全法
265. (D)民國四十三年政府與哪一國訂定共同防禦條約，加強合作？ (A)日本 (B)韓國 (C)蘇俄 (D)美國
266. (C)民國五十年代由於哪一項措施逐漸帶動中小企業發展，與對外貿易保持成長與出超？ (A)設立科學園區 (B)十大建設 (C)加工出口區 (D)引進外勞
267. (D)對於社會規範的敘述，何者的說法最正確？ (A)佳佳：違反道德倫理不會受處罰，所以，道德倫理不算社會規範 (B)蕾蕾：為了擁有好的社會秩序，只要有法律就可解決所有的一切 (C)浩浩：民主法治國家只依賴法律來維繫社會運作 (D)美美：社會規範是一種規則，都具有約束每個人行為的力量
268. (C)民主國家中，制訂法律的目的為何？(甲)維護人民權益(乙)避免遭受國家權力的任意傷害(丙)控制人民的行動(丁)保障基本人權 (A)甲乙丙丁 (B)甲乙丙 (C)甲乙丁 (D)甲丙丁
269. (A)下列哪一項不是法律的主要功能？ (A)維護少數權益 (B)維持社會秩序 (C)維護人民權益 (D)促進社會進步
270. (B)阿亞利用暑假，和同學到帛琉去玩，她可以自由的到處旅行是因為她享有哪一項自由權？ (A)人身自由 (B)行動自由 (C)集會結社自由 (D)居住自由
271. (C)素蘭上週將她發表過的四格漫畫集結成冊，出了一本漫畫書。請問：這是受哪一項基本權利的保障？ (A)祕密通訊自由 (B)集會結社自由 (C)意見自由 (D)人身自由
272. (A)恢弘和同學在討論關於納稅的問題，其中誰的說法是正確的？ (A)恢弘：「納稅可以使政府有能力提供更多的福利」 (B)佳務：「每個人都是平等的所以納稅要一樣多」 (C)志佳：「在不被發現的情形下可以逃漏稅減輕負擔」 (D)信義：「納稅會增加生活負擔使生活品質降低」
273. (C)小瑜和同學在討論關於服兵役的事情，其中誰的觀念是錯誤的？ (A)小瑜：「我國法

- 律規定只有男人有義務要當兵，所以女生可以不用當兵。」 (B)佳佳：「一般而言，年紀在十八至四十歲的男人才要當兵。」 (C)妮妮：「不管是誰都不可以辦理緩徵，一律要當兵。」 (D)惠如：「我國目前採取徵兵制，時間到就會通知你去當兵。」
274. (B)明高向真真借錢，但事後明高卻不還錢。請問：明高需負起何種法律責任？ (A)行政責任 (B)民事責任 (C)刑事責任 (D)行政責任及民事責任
275. (B)在刑法上，下列何者是「無責任能力人」？ (A)未滿七歲的小英 (B)未滿十四歲的志明 (C)未滿十八歲的俊卿 (D)未滿二十歲的麗卿
276. (D)以下哪一個事件可採取訴願或行政訴訟？ (A)隔壁的阿花把我家玻璃打破了 (B)發現通緝要犯的藏身地點 (C)家裡遭小偷行竊 (D)不服政府要把違章房屋強制拆除卻沒有補助措施
277. (A)下列哪一個人對於結婚的法律規定是錯誤的？ (A)君君：「未成年人可以自行決定自己的終身大事。」 (B)玲玲：「結婚必須要有公開的儀式，二個以上的證人才算有效。」 (C)丁丁：「結婚之後要到戶政事務所辦理結婚登記。」 (D)香香：「男生未滿十八歲，女生未滿十六歲不能結婚。」
278. (A)下列何種情形會依「少年刑事案件」來處理？(甲)擄人勒贖(乙)無照騎乘機車(丙)殺人(丁)犯罪情節輕微者 (A)甲丙 (B)甲丁 (C)乙丙 (D)甲乙丙丁
279. (C)(甲)判刑(乙)輔導(丙)訓誡(丁)感化。以上哪些是少年保護事件的處分方式？ (A)甲乙丙 (B)甲丙丁 (C)乙丙丁 (D)甲乙丙丁
280. (A)十六歲的義欽想要去考機車駕照，於是他偷偷塗改身分證上的出生日期。請問：他的行為可以用哪一條法規來處理？ (A)少年事件處理法 (B)少年及兒童福利法 (C)社會秩序維護法 (D)道路交通管理處罰條例
281. (C)小英暑假到電腦商場打工，在老闆的指示下，開始販賣盜版軟體。請問：老闆和小英必須負什麼責任？ (A)老闆違反了「著作權法」，小英則不用負責 (B)只要不被警察抓到就不犯法 (C)老闆和小英都觸犯了「著作權法」 (D)軟體是小英賣的，所以老闆不用負責
282. (B)小宇喜歡向人炫耀他的電腦長才，但他卻以破壞他人的電腦檔案造成系統癱瘓為樂。請問：小宇的行為已經觸犯何種罪行？ (A)公然洩密罪 (B)妨害電腦使用罪 (C)公然侮辱罪 (D)妨害公務罪
283. (A)政黨政治是指不同政黨應有公平競爭執政的機會。下列各種情形，何者符合政黨政治的精神？ (A)總統選舉時，在野黨候選人提出政黨輪流執政的訴求 (B)民意調查顯示政府施政滿意度太低時，政府首長須自動請辭 (C)為爭取權益，民眾依法向主管機關申請後，上街頭遊行請願 (D)政策決策不當，造成國家重大損失，立委要求部會首長下臺
284. (D)「這是一座八到十世紀間繁榮的城市，有富麗堂皇的宮殿，城內寺院眾多，並無崇奉任何人物和神像；寺院外觀為回教建築風格。商店中有來自各地的商品，琳瑯滿目的堆放著。」請問：這段文字所形容的最可能是下列哪一座城市？ (A)長安 (B)羅馬 (C)威尼斯 (D)巴格達
285. (D)中國大陸地形呈現西高東低的趨勢。請問：此特徵與下列哪一項的關係最密切？ (A)成為著名的季風氣候區 (B)夏秋之際，沿海多颱風(C)冬季氣溫，南北顯著不同 (D)利於太平洋季風進入內陸
286. (D)閩南話在福建省許多地方的讀音都不太一樣，如：「讀書」、「滷蛋」、「粥」等。請問：這種現象與當地的哪一種環境最有關係？ (A)土樓建築，居民集中居住 (B)沿海地區，開放式經濟發達 (C)海岸曲折多港灣，出海便利 (D)河流自成系統，內部往來不易
287. (B)八通關古道為先民開發東部的心血，它位於哪一個國家公園境內？ (A)陽明山國家公園 (B)玉山國家公園 (C)雪霸國家公園 (D)太魯閣國家公園
288. (A)臺北市政府所發包的道路拓寬工程，因施工不善，導致機車騎士屢次發生意外，因此受害家屬向市政府提出「國家賠償」，這是哪一種司法受益權？ (A)訴願 (B)自力救

濟 (C)民事訴訟 (D)請願

289. (C)某客運公司的員工因為政府的政策導致他們的權利受損，因此私下聚集上百名員工進行遊行，並包圍交通部進行抗議。請問：他們的行為是否合法？為什麼？ (A)合法，因為他們的權利受到政府損害 (B)合法，因為政府訂定的政策不佳所致 (C)違法，因為他們沒有依法進行遊行抗議 (D)違法，因為政策和交通部沒有關係
290. (A)「別讓你的權利睡著了」這句話強調權利行使的哪一種原則？ (A)積極原則 (B)權利補救原則 (C)消極原則 (D)禁止濫用原則
291. (C)以下有關犯罪行為、法律責任及處罰種類的配對，何者正確？ (A)吸食或販賣安非他命——民事責任——徒刑或罰金 (B)無照駕駛並違規停車——行政責任——罰金 (C)租用他人房屋，擅自拆牆改建——民事責任——賠償或解約 (D)深夜在家中聚眾狂歡——民事責任——徒刑或罰金
292. (D)下列何法的施行落實了權利救濟的精神？ (A)菸害防治法維護乾淨無菸害的環境 (B)少年福利法禁止少年出入不正當場所及維護其應有權利 (C)全民健康保險法維護人民的健康 (D)人民可依據民事訴訟法或刑事訴訟法的規定請求裁判，以保障或實現自己的權利
293. (A)地方自治的優點很多，下列敘述何者正確？ (A)有良好的地方自治制度和運作，人民才能有優質的生活 (B)中央政府在制定政策時比較能考慮到個別地方的實際需要 (C)中央政府的統一規定，對於地方上不同的需求能給予最大的滿足 (D)地方政府對於全國性政策的執行，是完全一樣，沒有細部及個別狀況問題
294. (B)根據附表某地人口年齡組成資料，可得知其人口扶養率為多少？ (A) 16.2% (B) 28.3% (C) 35.1% (D)42.6%

幼年人口(人)	壯年人口(人)	老年人口(人)	總人口(人)
250,000	1,200,000	90,000	1,540,000

295. (A)嘉義縣《漁筏、舢舨兼營娛樂漁業暫行管理規則》出爐，副縣長黃癸楠召集相關單位和漁民團體達成共識，劃定鰲鼓農場到八掌溪海域，讓現有漁筏、舢舨兼營觀光活動。請問：嘉義縣從前以哪一種漁業最盛行？ (A)養殖漁業 (B)遠洋漁業 (C)近海漁業 (D)觀光漁業
296. (B)八通關古道為先民開發東部的心血，它位於哪一個國家公園境內？ (A)陽明山國家公園 (B)玉山國家公園 (C)雪霸國家公園 (D)太魯閣國家公園
297. (D)關於憲法、法律、命令的敘述哪些是正確的？(甲)位階最高的是憲法(乙)當彼此發生牴觸的時候，我們以內容最詳細的條文為主(丙)廣義來說，這三者都算是法律的範疇(丁)教育部訂的國民教育法實施細則是屬於命令 (A)甲乙丁 (B)甲乙丙 (C)乙丙丁 (D)甲丙丁
298. (A)當我們的權利受到侵害時，可依法律規定的方法，來保障自己的權利。如果陳媽媽將房屋出租給阿德，阿德不付房租，又不肯搬家，那麼，陳媽媽為了確保自己的權益，她可以採取下列哪一種法律途徑？ (A)向法院提起民事訴訟 (B)向警察機關提出告訴 (C)向行政機關提起訴願 (D)向行政法院提起行政訴訟
299. 原 145 (B)年滿十八歲的小陳最近沉迷於線上遊戲，他趁店長不注意時竊取店內陳列的點數卡。請問：小陳須要為自己的行為負起何種責任？ (A)負完全刑事責任 (B)負刑事責任但可減刑 (C)記過 (D)其行為不罰
300. 原 171 (C)「華岡之狼」曾經喧嘩臺灣社會一時，造成許多婦女心理恐慌，不過法網恢恢，他終究得到法律的制裁。請問：「華岡之狼」為何沒有投票的資格？ (A)未滿二十歲 (B)居無定所 (C)被褫奪公權 (D)受禁治產宣告