

1. () 下列恩豪在生活中遇到的情形，何者屬於權利的展現？

(A)



(B)



(C)



(D)



《答案》C

2. () 小明在圖書館看書時，意外看到《自由中國》這本雜誌。《自由中國》在臺灣現代歷史中占有相當重要的地位。請問：有關於此雜誌的敘述，下列何者正確？ (A)創辦人是蔣渭水 (B)當時言論自由並未受到充分保障 (C)內容主要是對政府政策的歌頌，因此始終受到政府喜愛 (D)這本雜誌後來直接引發「美麗島事件」。

《答案》B

詳解：(A)創辦人是雷震；(C)內容主要是檢討臺灣內部問題、批評政府弊端，因此受到政府打壓；(D)這本雜誌後來引發「雷震事件」。

3. () 下列四種天氣因子的單位何者正確？ (A)降水：cm (B)氣溫：kg (C)風速：°F (D)氣壓：hPa。

《答案》D

4. () 小花在網站上看到下列文字——

根據釋字第 732 號解釋，宣告《大眾捷運法》允許主管機關徵收捷運旁的毗鄰地作為聯合開發用地，相關條文不符憲法第 23 條比例原則，與憲法保障人民財產權及居住自由之意旨有違，應自本解釋公布之日起不予適用。

根據內文判斷，作出該解釋的應為下列何者？ (A)司法院大法官 (B)行政院長 (C)立法委員 (D)地方法院。

《答案》A

5. () 臺灣平均每戶可支配所得以北部區域最高，其原因和北部區域具有下列何種特性最有關係？ (A)人口最多、最密集 (B)為政治中心所在 (C)性別比例平均 (D)經濟發展程度較高。

《答案》D

6. () 珊瑚礁主要分布於熱帶的淺海，離赤道愈近，珊瑚就愈發達。下列何者屬於珊瑚礁島？ (A)蘭嶼 (B)綠島 (C)基隆嶼 (D)太平島。

《答案》D

7. () 近年來，臺灣民眾愈來愈勇於為自己發聲與爭取自身權益，如廢核、婦女權利與原住民等方面皆有相關運動。請問：社會運動在下列哪一件事件後，才能夠不受太多限制且蓬勃發展？ (A)土地改革 (B)產業轉型 (C)解除戒嚴 (D)正名運動。

《答案》C

詳解：在解嚴前，便有社會運動的發展，然當時仍須顧及《戒嚴令》，故仍受限制。在解嚴後，言論、人身自由等得以被保障，各種運動因而更加蓬勃發展，故答案選(C)。

8. () 臺灣北部區域的範圍，不包括下列哪一個縣市？ (A)新北市 (B)新竹市 (C)宜蘭縣 (D)嘉義市。

《答案》D

9. () 政府推動的「國土綜合開發計畫」目標在達成區域均衡發展。國道 5 號蔣渭水高速公路通車，帶來最直接的貢獻為何？ (A)縮小北部區域與其他區域間的發展差距 (B)縮小東部區域與其他區域間的發展差距 (C)促進東部區域的內部均衡發展 (D)促進北部區域的內部均衡發展。

《答案》D

詳解：臺北與宜蘭同屬於北部區域，北宜高速公路完成後可連接臺北與宜蘭地區，均衡北部區域內的發展差異，與其他區域無關。

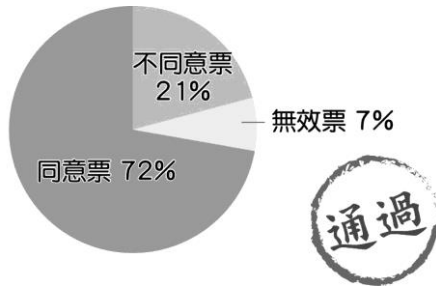
10. () 由人民親自投票，選出心目中理想的公職人員，不需透過他人代表行使選舉權。這是指下列哪一種選舉原則？ (A)普通 (B)平等 (C)直接 (D)無記名。

《答案》C

11. () 訴訟外的解決紛爭途徑，其特色不包括下列何者？ (A)迅速 (B)程序簡便 (C)較具彈性 (D)較能保障權利。

《答案》D

12. () 下圖為民眾針對某議題的公投結果：



民眾所投的票包括同意票、不同意票、無效票，最能反映出公共意見的哪一項特性？ (A) 議題性 (B) 複雜性 (C) 變動性 (D) 影響性。

《答案》B

13. () 一件刑案發生時，會由偵辦人員進行證據的蒐集與鑑定，並研判犯嫌的作案動機，用以呈現整個犯罪過程與事實。上述行為之目的，主要在提供下列何人作為判決的依據？ (A) 律師 (B) 法官 (C) 檢察官 (D) 警察。

《答案》B

14. () 「西元 2010 年 6 月，首航直飛上海虹橋機場；同年 10 月，首航直飛東京羽田機場，近來更與南韓金浦機場直航，實現了政府推動的東北亞黃金航圈政策。因位在首都市中心，聯外交通便捷，深受旅客喜歡，班機載客率高。」請問：上述指的是下列哪一個國際機場？ (A) 臺北國際航空站(松山機場) (B) 臺灣桃園國際機場 (C) 高雄國際航空站(小港機場) (D) 臺中航空站(清泉崗機場)。

《答案》A

15. () 「司法雖已經還他們清白之身，但媒體當年鋪天蓋地的報導，早已讓他們身敗名裂，這些最後無罪定讞的案件，當事人們卻始終得不到名譽的平反。在判決確定前，媒體報導的很多案件，內容都屬於『部分真實』，但未必就是『全案真相』。」上述內容最有可能在討論哪一項法律原則？ (A) 偵查不公開原則 (B) 依法行政原則 (C) 誠實信用原則 (D) 無罪推定原則。

《答案》D

詳解：民眾看過媒體報導後，大都會主觀認定嫌疑人就是犯罪者；就算看到無罪判決確定，但內心還是會主觀認定嫌疑人有犯罪，卻逃過法網，此為無罪推定原則的相關討論。

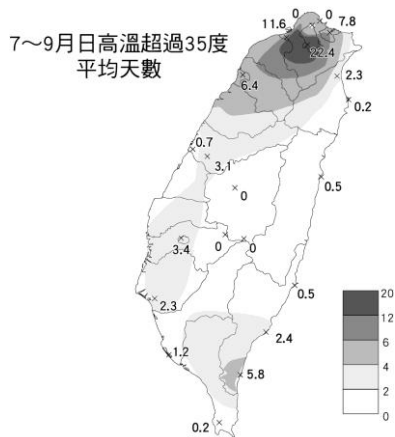
16. () 由龜山島向宜蘭縣方向看過去，可發現宜蘭縣整體地勢低平，兩旁被兩座山脈圍繞住，請問：這兩座山脈分別為下列何者？ (A) 玉山山脈、雪山山脈 (B) 雪山山脈、海岸山脈 (C) 中央山脈、阿里山山脈 (D) 雪山山脈、中央山脈。

《答案》D

17. () 下列哪一句話是形容氣候？ (A) 竹風蘭雨 (B) 今日晴時多雲偶陣雨 (C) 今天降雨機率為 80% (D) 高雄市出現大晴天。

《答案》A

18. () 時節進入酷暑，臺灣各地近來經常出現高溫，當日高溫大於 35 度稱為「猛暑日」，附圖為臺灣 7~9 月出現「猛暑日」的平均天數分布圖，請問：臺灣哪一種地形區出現「猛暑日」的天數最多？ (A) 嘉南平原 (B) 雪山山脈 (C) 新竹丘陵 (D) 臺北盆地。



《答案》D

詳解：圖片顯示臺灣的高溫區主要分布在大臺北地區，封閉的盆地地形內「猛暑日」可以多達 22 天。

19. () 分隔兩條河川的分界線，稱為下列何者？ (A)水系 (B)流域 (C)分水嶺 (D)集水區。

《答案》C

20. () 在童話故事《睡美人》中，壞仙子詛咒公主被紡織機的紡錘刺破手指而喪命，國王為了避免公主受到傷害，於是下令全國人民禁止使用紡錘，並將所有的紡錘銷毀。若以現代政治觀點來判斷，該王國應為何種國家？ (A)法治國家 (B)民主國家 (C)人治國家 (D)自由國家。

《答案》C

21. () 宜蘭縣曾在某年的縣市政府累計長期債務調查中，位居第一，債務占歲出的比率高達 67.7%，苗栗縣則以 63.99%居次。請問：此二縣市具有下列哪一項共同特色？ (A)皆位居離島 (B)皆位於臺灣東部 (C)皆以山地地形為主體 (D)鄉村人口比例相對高於都市人口。

《答案》D

詳解：(B)苗栗屬於中部區域、宜蘭屬於北部區域。(C)並非皆以山地地形為主體，苗栗多丘陵，宜蘭以蘭陽平原為主體。

22. () 在現代法治國家中，法律與統治者之間的關係，以下敘述何者正確？ (A)法律由統治者視需求制定，並加以執行 (B)法律至上，按法律之規範直接指定統治者 (C)法律由人民所選出的代表制定，統治者應依法而治 (D)原則上依法而治，但必要時可按統治者的意思直接調整法律規定。

《答案》C

詳解：法治國家之法律由民意代表(立法機關成員)按一定程序制定，行政機關(統治者)須依法而治。

23. () 考試院是我國最高的考試機關。下列關於該組織與職權的敘述，何者正確？ (A)考試委員由院長提請總統任命 (B)負責糾舉違法或失職的公務人員 (C)依法審議違法或失職的公務員懲戒案件 (D)掌理公務人員的銓敘、撫卹、退休等事項。

《答案》D

24. () 西元 2021 年 8 月 1 日，原住民族委員會在圓山飯店舉辦「八一原住民族日：正名 27 週年回顧與前瞻」，會中邀請了原住民族的奧運選手郭婞淳、楊勇緯等國手致詞。請問：將「原住民族」納入《憲法》是哪一個抗爭運動的結果？ (A)破除吳鳳神話 (B)反亞泥、還土地 (C)正名、自治與憲法條款 (D)還我土地運動。

《答案》C

詳解：原住民族為了恢復族群尊嚴、文化權益，展開正名運動。

25. () 西元 2022 年舉行地方選舉時，臺北市市長候選人蔣萬安順利當選。下列何者屬於臺北市市長的職權範圍？ (A)審查地方預算 (B)審議地方法規 (C)監督地方行政機關施政 (D)處理地方自治事務。

《答案》D

26. () 一九五〇年代開始，在臺灣的美國文化風靡，不少好萊塢明星成為臺灣人的偶像。請問：為何美國文化會在臺灣造成流行風潮？ (A) 避免臺灣被共產文化影響，大量引進美式文化 (B) 韓戰爆發後，臺美關係密切，美式文化大量輸入 (C) 我國加入聯合國，成為國際上的一分子，大量接受美式文化 (D) 臺灣因為產業升級，開始追求新穎的美式文化。

《答案》B

詳解：由於韓戰爆發後，美國重新開始援助臺灣，我方與美國關係密切，使得美國流行文化大量傳入臺灣。

27. () 關於「沙岸」與「岩岸」地形特徵的敘述，下列何者正確？ (A) 沙岸的海岸線較曲折 (B) 岩岸適合發展養殖漁業 (C) 沙岸適合作為天然良港 (D) 沙岸的沿海平原較寬廣。

《答案》D

28. () 領土是指一個國家統治權所及的地理區域。下列何者不屬於國家的管轄範圍？ (A) 領海 (B) 領陸 (C) 領空 (D) 公海。

《答案》D

29. () 現代法治國家除了對犯罪者處以【甲】之外，也愈來愈重視對犯罪行為人的教育，矯正並制止不當行為再度發生。請問：上述的【甲】應為下列何者？ (A) 罰鍰 (B) 拘留 (C) 勒戒 (D) 刑罰。

《答案》D

30. () 若少年所犯事項十分輕微，由法官當場向少年指明其所犯的錯誤，並告誡以後應該注意的事項，這種處罰方式稱為什麼？ (A) 訓誡 (B) 感化教育 (C) 保護管束 (D) 安置輔導。

《答案》A

31. () 為使經濟進一步邁向自由化與國際化，臺灣積極參與國際組織的活動，希望能發揮在國際上的影響力。下列哪些是民國八十年代起，我國所加入的國際經濟組織之簡稱？ (甲)WTO (乙)APEC (丙)WHO (丁)UN (A) 甲乙 (B) 甲丁 (C) 乙丙 (D) 丙丁。

《答案》A

32. () 臺灣史料記載了早期的漁業，寫道：「虱目魚者魚塭中所產，產於鹿耳門畔。」據考證，在鄭成功入臺之前，已有虱目魚養殖之風。此景觀通常見於臺灣的哪一種海岸地形？ (A) 西部沙岸 (B) 北部岬灣海岸 (C) 東部斷層海岸 (D) 恆春半島珊瑚礁海岸。

《答案》A

詳解：魚塭、養殖漁業主要分布於西部沙岸。

33. () 在國共內戰後，國軍撤退來臺。當時政府在檢討時，得出其中一項原因乃是無法掌控經濟，讓許多人民向中國共產黨倒戈。故中華民國政府在臺灣的經濟政策亦頗用心，甚至讓臺灣一度成為亞洲四小龍之首。下列關於臺灣戰後經濟發展的敘述，下列何者正確？ (A) 雖然戰後臺灣經濟穩定，政府仍實施貨幣改革與土地改革 (B) 民國四十年代，政府主張「以工業培養農業」，藉外匯發展農業 (C) 民國六十年代，因應國際能源的衝擊，政府推動「十大建設」 (D) 民國八十年代，為避免中華人民共和國進行報復，並不積極參與國際組織。

《答案》C

詳解：(A) 戰後臺灣物價飛漲、經濟混亂，故政府實施貨幣改革與土地改革；(B) 民國四十年代，政府主張「農業培養工業」，藉外匯發展輕工業；(D) 民國八十年代，臺灣逐步降低貿易限制，積極參與國際組織。

34. () 下列關於權力的敘述，何者正確？ (A) 一種強制與支配的力量 (B) 人民可罷免官員的力量 (C) 包含積極與消極的權力 (D) 人民申請紓困補助為例。

《答案》A

35. () 民主國家的政黨有許多功能，例如：某政黨成立「馬上辦中心」，主要在發揮何種功能？ (A) 服務選民 (B) 遊說示威 (C) 組織政府 (D) 監督政府。

《答案》A

36. () 民國 38 年，政府為穩定局勢，下令戒嚴，實行了幾十年，後來是下列哪一位總統宣布解

除《戒嚴令》？ (A)蔣中正 (B)蔣經國 (C)李登輝 (D)陳水扁。

《答案》B

37. ()由主流及若干支流所構成，這些主流及支流合稱為下列何者？ (A)水系 (B)地下水 (C)流域 (D)河川。

《答案》A

38. ()選舉期間，由選舉委員會發布選舉公告，載明選舉種類、選舉區、投票日期等選舉相關事項，此為選舉的哪個過程？ (A)選舉公告 (B)登記參選 (C)競選 (D)投票。

《答案》A

39. ()國輝帶著未滿周歲的女兒到衛生所施打公費疫苗，這項地方政府提供的措施，與下列何者應屬相同類別的自治事項？ (A)老人安養服務 (B)都市更新計畫 (C)垃圾清運工作 (D)文化中心展覽。

《答案》C

40. ()某水利設施的興建，提供彰化、雲林地區農業、工業、民生穩定供水。請問：該水利設施為何？ (A)士林攔河堰 (B)集集攔河堰 (C)烏山頭水庫 (D)永和山水庫。

《答案》B

41. ()下列哪一項因素是臺灣南部四季炎熱的主因？ (A)季風 (B)地形 (C)緯度位置 (D)距海遠近。

《答案》C

42. ()行政法具有下列哪一項重要的功能？ (A)約束行政機關行為，避免侵害人民權利 (B)規定私人之間的權利義務關係 (C)作為人民權利的保障書，位階與效力最高 (D)使犯罪者得到應有的審判與處罰。

《答案》A

43. ()憲法的修改為求慎重與周延，修改程序最為嚴格。這是憲法的何種特性？ (A)最高性 (B)穩定性 (C)原則性 (D)一般性。

《答案》B

44. ()金門列嶼和馬祖列嶼位於中國東南沿海，是防衛臺灣的前哨。請問：金門和馬祖列嶼形成的原因為何？ (A)海底火山噴出岩漿堆積而成 (B)由海底珊瑚礁露出海面而形成 (C)沿海丘陵受到海平面上升，陸地沒入海中而形成 (D)地殼變動和大陸分離而形成。

《答案》C

45. ()民國六十年代，因為發生下列哪一個事件，造成全球經濟不景氣，強烈衝擊以國際貿易為主的臺灣？ (A)能源危機 (B)金融危機 (C)臺海危機 (D)政治危機。

《答案》A

46. ()對於當事人雙方而言，私人間的民事糾紛，採取下列何種權利救濟方式，既有效，又能夠避免耗時費財的訴訟程序？ (A)民事訴訟 (B)訴願 (C)告發 (D)調解。

《答案》D

47. ()在海岸常見的景觀中，水中漂沙如堆積於淺水地區，且高於水面呈堤狀地形，稱之為何種地形？ (A)岬角 (B)瀉湖 (C)沙洲 (D)海灘。

《答案》C

48. ()新聞報導：「這半個月以來，因天公不作美，石門水庫的水位迅速下降，此情況如持續，將可能限制民生用水的供給。」請問：上述情形與哪一項天氣因子最相關？ (A)氣溫 (B)氣壓 (C)降水 (D)風。

《答案》C

49. ()澎湖群島、綠島、蘭嶼及釣魚臺列嶼是臺灣周圍的離島，這些島嶼依其形成的原因來分類，應是屬於哪一種島嶼？ (A)大陸島 (B)火山島 (C)珊瑚礁島 (D)沙洲島。

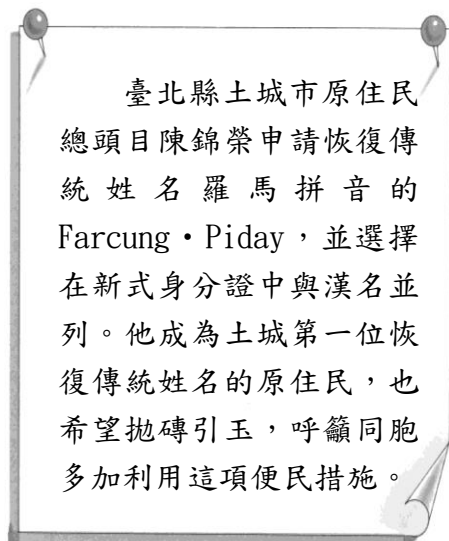
《答案》B

50. ()法律在人民的生活中，是相當重要的一環。下列關於法律的敘述，何者錯誤？ (A)法律明確規定人民應遵守的事項 (B)法律可保障人民的權利 (C)法律不僅約束人民，也約束

政府的行為 (D)法律是具有強制力的風俗習慣。

《答案》D

51. () 附圖是一則西元 2006 年的新聞，新聞中的原住民舉動，主要是為了響應何項事件？ (A) 正名運動 (B) 還我土地運動 (C) 設置原住民自治區 (D) 漢化運動。



《答案》A

詳解：原住民族「正名運動」主要訴求包括：修改「山胞」的稱呼、恢復傳統命名方式等。

52. () 人民對不同政黨候選人的政見表示贊成或反對的看法，主要是透過下列何種方式？ (A) 遊說 (B) 選舉 (C) 抗爭 (D) 叩應。

《答案》B

53. () 近年來，臺灣的新住民與國際移工數目逐漸增加，並帶來當地不同的文化；這些新住民與國際移工多半來自中國大陸和哪一個區域？ (A) 歐美 (B) 東南亞 (C) 非洲 (D) 南美洲。

《答案》B

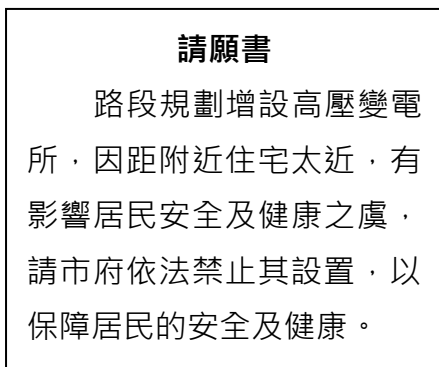
54. () 冬季時，臺灣平地有時會出現 10°C 以下的低溫，其主要原因為何？ (A) 沿岸涼流經過 (B) 西南季風經過海面 (C) 大陸冷氣團南下 (D) 夜晚地面散熱快。

《答案》C

55. () 有調查報告指出：「青少年使用非法藥物有進階過程，菸酒、檳榔是入門物質，之後惡化為毒品。【甲】法律規定任何人不得讓兒童及青少年吸菸、喝酒、吸食毒品……。」上述【甲】法律應為下列何者？ (A)《勞動基準法》 (B)《兒童權利公約施行法》 (C)《兒童及少年性剝削防制條例》 (D)《兒童及少年福利與權益保障法》。

《答案》D

56. () 課堂上老師說明人民為表達意見，上街遊行遞交附圖資料予相關單位，人們此行為涉及的基本權利與下列何者相同？ (A) 公共場所規劃無障礙設施 (B) 政府提供職業訓練課程 (C) 人民投書報章雜誌表達意見 (D) 舉辦公投徵詢公共意見。



《答案》B

57. () 下列哪一座水庫是利用濁水溪水系所修築而成？ (A)新店翡翠水庫 (B)臺南曾文水庫 (C)臺中日月潭水庫 (D)新竹寶山水庫。

《答案》C

58. () 臺灣島有許多高山，此現象主要是因為下列哪些板塊互相擠壓所造成？ (甲)歐亞板塊 (乙)菲律賓海板塊 (丙)非洲板塊 (丁)澳洲板塊 (A)甲乙 (B)甲丁 (C)乙丙 (D)丙丁。

《答案》A

59. () 有些法律規定人民應該做或不能做的行為，後面還附帶違反規定時的刑罰，這種法條就叫做刑罰法律，「甲」就是其中的代表。請問：根據上述內容判斷，「甲」應是指下列哪項法律？ (A)《憲法》 (B)《刑法》 (C)《勞動基準法》 (D)《社會秩序維護法》。

《答案》B

60. () 政府宣布解除《戒嚴令》，隨後推行多項措施，其中黨禁的開放，使人民得以充分享有哪一項自由權？ (A)人身自由 (B)意見自由 (C)集會結社自由 (D)通訊自由。

《答案》C

61. () 下列哪一個縣市為臺灣最主要的行政、金融、商業與政治中心？ (A)臺東縣 (B)臺南市 (C)臺中市 (D)臺北市。

《答案》D

62. () 民間團體宣布成立「民間監督落實司改國是會議決議聯盟」，以監督政府落實司法改革國是會議的決議。聯盟建議各部會能設置政策對話窗口，協助官方與民間持續對話，並邀請民間團體參與修法或政策制訂，以減少推行的阻力。該聯盟擁有下列何者而能夠提出上述訴求？ (A)權利 (B)權力 (C)主權 (D)人權。

《答案》A

63. () 公民課時，同學們正在討論犯罪的追訴過程，下列哪一位同學的說法正確？ (A)玲玲：自訴必須透過檢察官才能提出 (B)貝貝：法院不能審判未經起訴的犯罪行為 (C)小昭：大法官審理刑事案件後，由陪審團進行判決 (D)曉婷：法院判決確定後，由律師指揮執行判決。

《答案》B

64. () 臺灣東部的「花東縱谷平原」位在哪兩座山脈之間？ (A)中央、海岸山脈 (B)中央、雪山山脈 (C)雪山、海岸山脈 (D)玉山、阿里山山脈。

《答案》A

65. () 以海岸地形和降雨季節的兩種分布情況來看，臺灣四周海岸何處最適合晒鹽？ (A)北海岸——夏季 (B)東海岸——夏季 (C)西海岸——冬季 (D)恆春半島海岸——春季。

《答案》C

66. () 四面環海的臺灣共有 35 座燈塔，其中透過極東(三貂角)、極西(國聖)、極南(鵝鑾鼻)、極北(富貴角)四座燈塔，可描繪出臺灣的基本輪廓。請問：哪一座燈塔附近最容易看見沙洲地形？ (A)三貂角燈塔 (B)國聖燈塔 (C)鵝鑾鼻燈塔 (D)富貴角燈塔。

《答案》B

詳解：國聖燈塔位於臺灣西部，屬於沙洲地形。

67. () 電子媒體針對某項公投議題展開民意調查，下列哪一項敘述顯示公共意見的差異性？ (A)公投結果將作為政府施政參考，調整後續做法 (B)相關配套未臻完善，行政單位將難以配合執行 (C)同意的比例約占 76%，反對的比例則占 24% (D)民眾踴躍上網留言討論，引發更多群體的關注。

《答案》C

68. () 「行為之處罰，以行為時之法律有明文規定者為限。」這是下列何法律的條文？ (A)《刑法》 (B)《憲法》 (C)《家庭暴力防治法》 (D)《社會秩序維護法》。

《答案》A

69. () 發生刑事案件時，偵查人員蒐集、鑑定相關證據，並研判嫌疑人的心態、動機等，以呈現犯罪事實，其目的在提供下列何人作為「公訴」的依據？ (A)法官 (B)檢察官 (C)

律師 (D)警察。

《答案》B

詳解：只有檢察官能進行公訴，律師是被害人委託，向法院提出自訴。

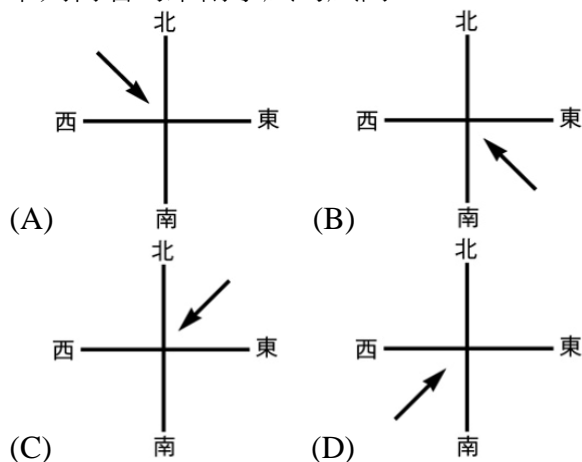
70. () 「它」是人民行為的規範，人民的一切活動，都不可以違反其規定，否則會受到政府公權力的處罰。由內容判斷，文中的「它」是指下列何者？ (A)倫理道德 (B)宗教信仰 (C)法律規定 (D)風俗習慣。

《答案》C

71. () 孟德斯鳩的三權分立學說對後世民主觀念影響極大。所謂的三權是指哪三權？ (A)行政權、考試權、監察權 (B)行政權、立法權、監察權 (C)行政權、立法權、司法權 (D)行政權、立法權、考試權。

《答案》C

72. () 下列何者為東南季風的風向？



《答案》B

73. () 新聞報導指出：「政府針對主要供水及淤積嚴重的 13 座水庫，包括石門、曾文、南化、牡丹、烏山頭、霧社、白河、明德、德基、澄清湖、日月潭、仁義潭及阿公店水庫，加速推動水庫清淤工作，藉此延長水庫壽命與供水穩定度。」由此報導得知，水庫淤泥問題將會越趨嚴重。請問：為了延長水庫壽命，臺灣主要採取何項措施避免河川砂泥影響水庫水質？ (A)興建攔砂壩 (B)增設消波塊 (C)開闢沿岸地下水井 (D)禁止水庫發展觀光。

《答案》A

74. () 四位同學聊到「權力」與「權利」的差異，下列何者的說法正確？

(A)



東海

權力是指法律保護
人民享有的利益

(B)



家馨

權力是人民可以向
政府主張的利益

(C)



芳蒂

權利是政府擁有強
制與支配的力量

(D)



權利是透過立法來保障人民的利益

《答案》D

75. () 臺灣面積雖小，但地形卻十分複雜。臺灣島的地形主體，不包括下列何種地形？ (A)山地 (B)台地 (C)盆地 (D)高原。

《答案》D

76. () 從小關心國家大事的小飛，想要籌組政黨，實現其政治理想。請問：籌組政黨是基於人民的哪項基本權利？ (A)平等權 (B)自由權 (C)受益權 (D)參政權。

《答案》B

77. () 派駐使節到邦交國，爭取友邦對我國的支持，積極推動外交，應是由下列何者負責的事項？ (A)中央政府 (B)地方政府 (C)各縣市議會 (D)各鄉鎮市民代表會。

《答案》A

詳解：中央政府負責統籌具有全國一致性質之事務，例如：外交、國防與司法制度。

78. () 我國《憲法》保障人民的參政權，至於選舉權與罷免權的具體落實，則有賴立法院制定《公職人員選舉罷免法》加以規範。《公職人員選舉罷免法》屬於何種類型的法律？ (A)命令 (B)行政法 (C)《憲法》本文 (D)《憲法增修條文》。

《答案》B

79. () 小鐘開設的餐館，因為沒有妥善處理油煙，而被政府處以罰鍰。根據上述內容判斷，小鐘應該負起下列何種法律責任？ (A)道義責任 (B)行政責任 (C)自治責任 (D)政治責任。

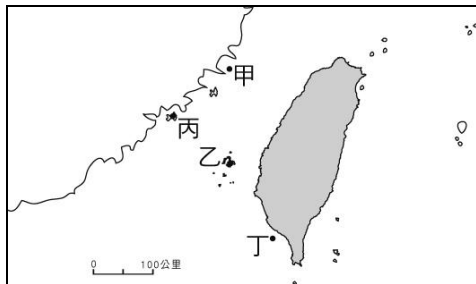
《答案》B

80. () 《公職人員選舉罷免法》規範各項公職人員選舉罷免的辦理機關、進行流程以及投票方式等，讓民眾落實法律保障的選舉罷免權。根據上述，下列敘述何者有誤？ (A)該法在落實憲法的參政權 (B)該法屬於行政法 (C)該法的法律位階與憲法相同 (D)該法將憲法的規定具體化。

《答案》C

詳解：《公職人員選舉罷免法》的法律位階屬於狹義的法律，與憲法的法律位階並不相同。

81. () 附圖為臺灣與離島簡圖。忠明到某一地區旅遊，導遊帶著他們參觀了許多傳統的閩南式建築和老舊的洋樓，同時還參觀著名的戰地史蹟；道路邊和屋簷上還常可看到不同造型的風獅爺。請問：忠明最可能到圖中哪一個島嶼旅遊？ (A)甲 (B)乙 (C)丙 (D)丁。

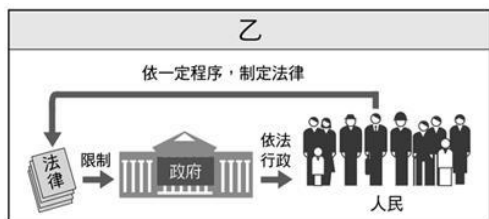


《答案》C

82. () 如果行政機關有權任用各類官員，就容易產生自行判斷、依個人好惡來為國舉才的弊病。上述主要在探討下列何種主張的缺失？ (A)立法權兼有監察權 (B)行政權兼有監察權 (C)立法權兼有考試權 (D)行政權兼有考試權。

《答案》D

83. () 附圖為公民老師講課時用來輔助說明的圖卡。根據內容判斷，下列相關敘述何者正確？
 (A) 呈現人治社會中的情況 (B) 法律賦予政府無限權力 (C) 執行法律沒有一致標準 (D) 以法律限制政府的權力。



《答案》D

84. () 臺灣東西部的河川相較，主流長度較長的河川多集中於西部，此現象主要與下列哪一項因素有關？
 (A) 島窄山高 (B) 西部降水量較多 (C) 東部平原較低平 (D) 中央山脈位置偏東。

《答案》D

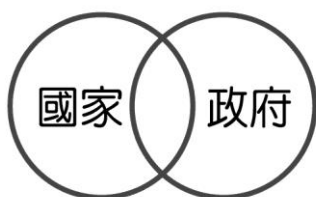
詳解：因中央山脈偏東縱貫，故主流長度較長的河川多在西部。

85. () 放暑假的期間，出現了一次帶來災害的大雨，日降水量高達數百毫米以上，老師要同學找出此次降雨的原因。請問：下列哪一位同學的答案正確？
 (A) 小葳：「冷鋒南下，陣雨驟降。」 (B) 小明：「梅雨降臨，大雨滂沱。」 (C) 小軒：「東北季風增強，帶來靈雨霏霏。」 (D) 小華：「颱風侵襲，帶來暴雨。」

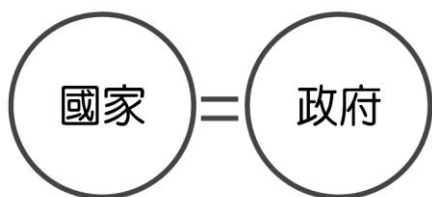
《答案》D

86. () 上完公民課後，柱赫對於國家和政府的概念有些疑惑，請幫他選出一張最能代表國家與政府涵蓋範圍的示意圖。

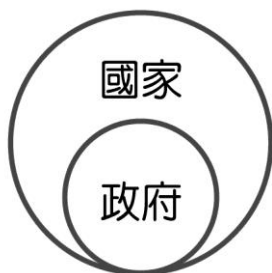
(A)



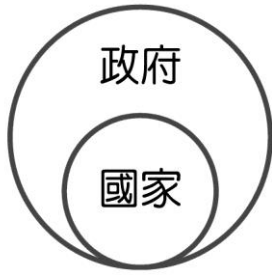
(B)



(C)

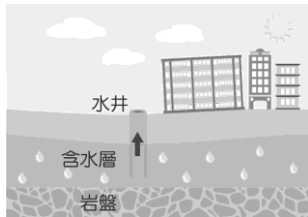


(D)



《答案》C

87. () 附圖為臺灣某種常見的災害地景影像。下列何項措施能夠有效避免此災害發生？ (A)做好水土保持，嚴禁開墾山坡地 (B)地下水抽取量小於地下水補注量 (C)實施地震預警，導入耐震建材 (D)刨除柏油路面，夯實地基結構。



《答案》B

88. () 在臺灣區域計畫的劃分中，目前哪兩個區域因工商業發展程度高，導致環境汙染、擁擠問題較嚴重？ (A)北部、東部 (B)中部、東部 (C)東部、南部 (D)南部、北部。

《答案》D

89. () 憲法法庭是屬於司法院的組織，由大法官所組成。下列何者是憲法法庭所負責的事項？ (A)審議公務員的懲戒案件 (B)審理總統、副總統之彈劾案 (C)提出對總統、副總統罷免案 (D)審核政府的決算。

《答案》B

90. () 今年就讀國三的小雄在學校和小虎發生衝突，於是打電話找現年 17 歲正就讀高中的表哥到場助陣，兩人合力毆打小虎。小虎向警方報案後，兩人被移送法辦。根據上文內容判斷，關於兩人可能須負的法律責任，下列何者說明正確？ (A)兩人只要向小虎道歉即可 (B)小雄可能受到刑罰處分 (C)表哥須負完全行政責任 (D)二人皆可能被處以假日生活輔導。

《答案》D

91. () 頭前溪因流域內的工業排放廢水，汙染嚴重。附圖為頭前溪流域的汙染源分布圖，其中甲、乙、丙、丁四點分別代表的是頭前溪流域的四個取水口，依據附圖，下列敘述何者錯誤？ (A)取水口的汙染程度由高至低為：甲 > 乙 > 丙 > 丁 (B)垃圾掩埋場位於寶山、寶二水庫附近，可能汙染水源 (C)頭前溪水汙染來源是工業、垃圾汙染 (D)溪水中的重金屬汙染來源應是家庭所排放的廢水。



《答案》D

詳解：(D)溪水中的重金屬汙染的來源應是工業區排放的工業廢水。

92. () 羅太太向法院提起了民事訴訟，在審理過程中，由下列何者依證據而為裁判？ (A)律師 (B)法官 (C)書記官 (D)當事人。

《答案》B

93. () 下表是歡樂國國會議員在接受遊說前後，對於甲法案的態度變化情形：


調查時間	遊說前	遊說後
支持	10%	60%
反對	10%	30%
未表態	80%	10%

下列何種說法最符合此表所呈現的結果？ (A)議員立法時，不應受公共意見的影響 (B)利益團體的遊說，會影響國會的立法 (C)在野黨的施壓改變議員對法案的立場 (D)媒體的協助，擴大公共意見的影響力。

《答案》B

詳解：遊說是利益團體的手段之一。(A)議員立法時，應參考公共意見。(C)在野黨的施壓，不屬於遊說。(D)遊說並非透過媒體。

94. () 以下是施老師準備在課堂上講解用的民事訴訟程序圖，其中有一處被同事的咖啡弄髒了



施老師應製作下列哪些字卡貼在汙損處？ (A)不起訴、調解 (B)判決、和解 (C)調解、和解 (D)判決、提起公訴。

《答案》B

詳解：民事訴訟的法官會根據雙方的證據、主張及辯論內容進行判決，或讓雙方在訴訟上和解。

95. () 臺北市政府為了整頓混亂的交通，實施「交通大執法」，依法加強取締違規的車輛和行人。上述做法主要在落實地方政府的哪一項自治事務？ (A)安全衛生 (B)教育文化 (C)社會服務 (D)經濟發展。

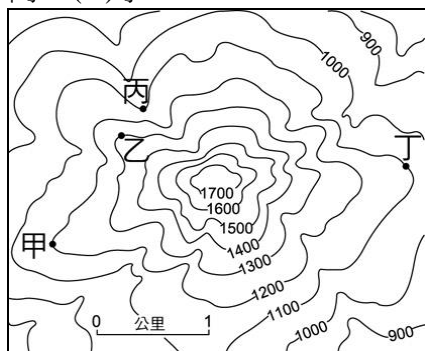
《答案》A

96. () 國中生小翰在學校運動會時和同學吵架扭打，卻因下手太重打傷了同學。小翰這種無意間觸犯了法律而不自知的行為，可能是由於下列何種因素？ (甲)思慮不周，行動時較少考慮後果 (乙)對法律規範認知不足 (丙)行為不易受社會環境影響 (A)甲乙 (B)甲丙

(C)乙丙 (D)甲乙丙。

《答案》A

97. () 附圖為等高線地形圖。圖上甲、乙、丙、丁四點何處最適宜興建水庫？ (A)甲 (B)乙 (C)丙 (D)丁。



《答案》C

詳解：丙位於等高線呈V字型，且尖端指向高處的河谷。

98. () 阿豪出生於一個大家庭，爺爺奶奶生了8個小孩，這些伯伯、叔叔、姑姑等又各生了子女，眾多的親屬關係，常讓阿豪感到困惑。在我國，親屬關係主要規範於下列哪部法律中？ (A)《憲法》 (B)《民法》 (C)《家庭暴力防治法》 (D)《社會秩序維護法》。

《答案》B

99. () 下列關於刑事訴訟的說明，何者錯誤？ (A)被害人可以向檢警單位提出告訴 (B)告發是當事人知悉有犯罪嫌疑時，才可以向警察單位或檢察官告知犯罪事實 (C)自首是犯罪者在犯罪事實未被發現前，就主動向警察單位或檢察官承認犯罪事實 (D)檢察官就偵查案件，可以提起公訴或做出不起訴處分。

《答案》B

100. () 當少年觸犯刑罰較為嚴重的犯罪，例如：殺人罪或強盜罪等，會採取下列哪種法律程序處理其案件？ (A)由警察直接予以處罰 (B)依少年保護事件程序處理 (C)依訴願程序處理 (D)由少年法院或少年法庭負責調查及審理。

《答案》D

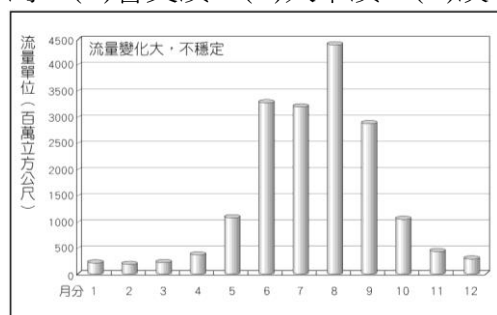
101. () 花東地區在臺灣各項生活水準的評比中，經常落後其他各區。花東產業發展較為落後的原因，包含下列哪一些因素？ (甲)交通不便 (乙)水質較差 (丙)開發較晚 (丁)氣候惡劣 (A)甲乙 (B)甲丙 (C)乙丁 (D)丙丁。

《答案》B

102. () 下列哪些是臺灣面積不大，地形景觀卻豐富多變化的主要原因？ (甲)板塊運動激烈 (乙)沙漠的侵蝕作用 (丙)造山運動的結果 (丁)河流的搬運、堆積作用 (A)甲乙丙 (B)甲乙丁 (C)甲丙丁 (D)乙丙丁。

《答案》C

103. () 附圖是某條河川的測量資料，如附圖所示，這條河川最有可能是指下列何者？ (A)冬山河 (B)曾文溪 (C)大甲溪 (D)淡水河。



《答案》B

104. () 家住桃園市的阿興剛滿23歲，決定參加立法委員選舉以施展他的政治抱負。他家中有一經營便利商店的爸爸、在地政事務所工作的媽媽、小他6歲的妹妹、準備國中會考的弟弟、

因販毒而被褫奪公權尚未復權的大哥，還有因失智而受監護宣告的爺爺。根據上述，阿興家有幾個人沒有投票資格？ (A)1 個 (B)2 個 (C)3 個 (D)4 個。

《答案》B

詳解：妹妹、弟弟。

105. () 為保障選民安全，達到真正的自由選舉，我國法律規定，選舉權的行使，必須依據無記名原則。無記名原則的內涵為何？ (A)任何人不得在選票上簽名或註記符號 (B)不分性別、黨派或地域都有投票權 (C)由選民親自投票選出公職人員 (D)每位選民的選票具有同等價值。

《答案》A

106. () 乘坐西部鐵路由嘉義到高雄的路上，可看到窗外一大片的平原景觀，這個平原應是下列何者？ (A)蘭陽平原 (B)濁水溪沖積平原 (C)嘉南平原 (D)屏東平原。

《答案》C

107. () 一直以來民眾對於食品安全議題的關注度都相當高，疫情的影響更使得像是外送平臺這樣的宅經濟，開始變成許多民眾生活的習慣，現在經常可以看到外送員在路上送餐。議員呼籲政府正視民眾關心的外送食安問題，儘速訂定規範詳細管理。上述呼籲呈現公共意見的何種特性？ (A)議題性 (B)複雜性 (C)影響性 (D)變動性。

《答案》A

詳解：議員呼籲政府正視民眾共同面對的問題，具有特定議題的議題性。

108. () 下表為阿明整理的國家費用支用相關重點：

甲	編列預算	行政院
乙	審查預算	立法院
丙	做成決算	行政院
丁	審查決算	司法院

根據表中內容判斷，其中哪一個項目錯誤？ (A)甲 (B)乙 (C)丙 (D)丁。

《答案》D

詳解：審查決算為監察院審計部的職權。

109. () 某團體的成立宗旨如下：「本團體旨在促進人民的政治參與，並透過參與選舉取得人民支持，以獲得政治職位及執政權，落實本團體的政治主張。」根據其成立宗旨判斷，該團體最可能為下列何者？ (A)政黨 (B)政府 (C)宗親會 (D)利益團體。

《答案》A

110. () 立法委員在院會上詢問教育部官員，舉辦國中會考時，教室有沒有可能開冷氣？教育部次長表示，當天氣溫若未超過攝氏 28 度則不開冷氣。根據內容判斷，上述立法委員是在執行下列哪項職權？ (A)制定法律 (B)審查預算 (C)質詢施政事項 (D)行使官員同意權。

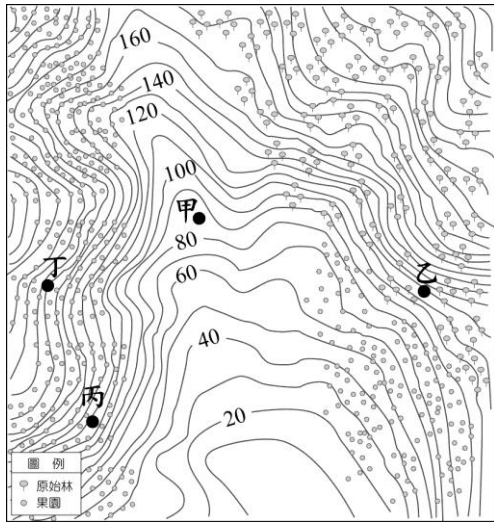
《答案》C

詳解：立法院職責之一為質詢政府官員施政事項。

111. () 小康利用衛星影像觀察臺灣各縣市的海岸地形。請問：下列哪一個縣市的海岸地形會呈現絕對高度較高及海岸線彎曲的特色？ (A)南投縣 (B)嘉義市 (C)基隆市 (D)臺南市。

《答案》C

112. () 小米在某地區經營果園，為了讓果樹有充足的水源可灌溉，小米準備投資一套新穎的灌溉設備，該設備需裝置於河流附近。請問：附圖中甲~丁四個地點中，何者最適合安裝此設備？ (A)甲 (B)乙 (C)丙 (D)丁。



《答案》A

113. () 附圖為小崎研究某項議題，在某相關書籍上看到的敘述，但墨漬遮蔽了若干文字。根據內容判斷，小崎研究的議題最有可能為下列何者？ (A)人民 (B)領土 (C)政府 (D)主權。

在英文中有「最高」之意。表示國家對外的獨立，即國家除受國際法的限制外，不受別的國家支配或干涉；且比國內任何權力更具優越的地位。

《答案》D

114. () 《國家語言發展法》通過後，教育部表示將依該法規定，自 111 學年度起，國小和國中每週必修 1 節本土語文，高中在 3 年內要修完 2 學分本土語文，除閩南語、客家語、原住民族語及新住民語，也納入手語及馬祖使用的閩東語等。上述教育部的做法展現了何種精神？ (A)依法行政 (B)權力分立 (C)主權在民 (D)公平正義。

《答案》A

115. () 上課時，公民老師利用附圖講解刑事責任能力與年齡的關係，並以已滿 18 歲的小瑩姐姐為例說明，若她觸犯竊盜罪，即須負完全刑事責任。請問：「負完全刑事責任」應位於附圖中的何處？ (A)甲 (B)乙 (C)丙 (D)丁。



《答案》C

116. () 澎湖菜宅又稱為「宅內」或「圍仔」，是一種用來遮蔽與擋風的石牆。由於澎湖島內沒有足以構成屏障的高山，加上東北季風十分強烈，使農作物生長不易，為了阻檔東北季風與其挾帶的鹹雨，故早期居民就地取材，使用當地特有的資源建築圍牆，「菜宅」乃因應而生。請問：就澎湖當地島嶼的成因而言，早期居民建築圍牆所使用的資源中，下列哪一種建材應包含在內？ (A)黃土 (B)稻梗 (C)大理石 (D)玄武岩塊。

《答案》D

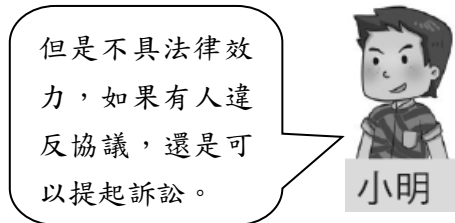
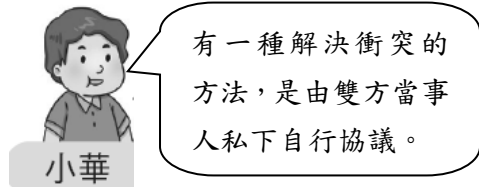
詳解：澎湖群島屬於火山島，故以島嶼成因來說，火山熔岩凝結形成的玄武岩塊，是菜宅的建材之一。

117. () 社會新鮮人華欣喜獲錄取某公司的會計一職，但公司開出的薪資卻略低於基本工資，為了獲得這份工作，華欣還是同意並簽約了。請問：下列敘述何者正確？ (A)依契約自由原則，華欣只能答應 (B)該契約違反誠實信用原則而無效 (C)該契約內容違反法律規定

而無效 (D)該契約並未辦理登記，故不具效力。

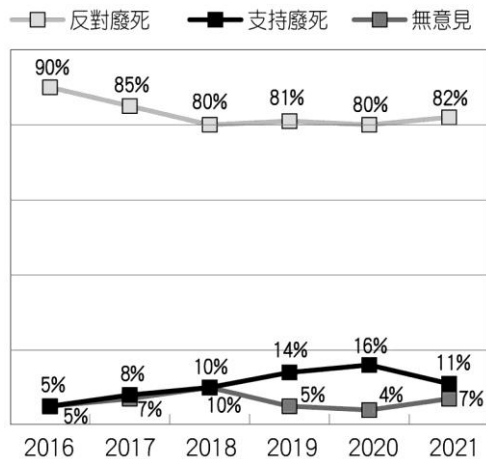
《答案》C

118. () 根據附圖兩人的對話內容判斷，他們所說解決衝突的方法是指下列何者？ (A)調解 (B)訴願 (C)訴訟上和解 (D)訴訟外和解。



《答案》D

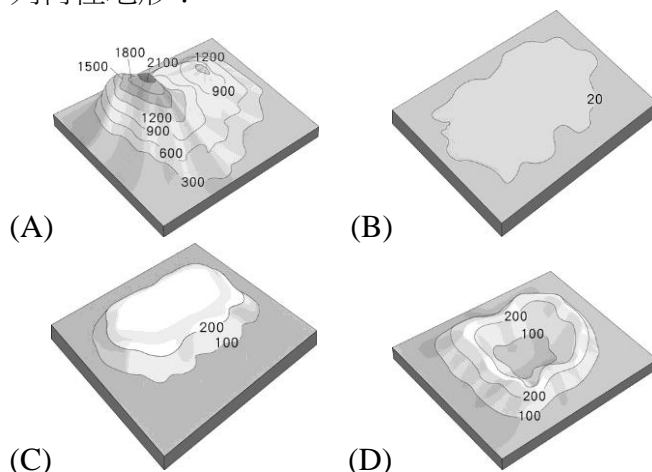
119. () 良懋是一名學者，附圖為他針對「是否支持廢除死刑」所進行的調查資料：



根據圖中內容，下列相關敘述何者正確？ (A)僅為研究調查，沒有公開討論，不具議題性 (B)支持廢死的比例逐年升高，顯示民意趨同性 (C)顯示政府的決策不會受到影響，不具影響性 (D)公共意見隨著時間而發生變化，屬於變動性。

《答案》D

120. () 桃園的埤塘美景環繞中壢、平鎮、龍潭、大溪、八德等五大地區，沿途風光變化萬千，其中埤塘分布與○○地形呼應，形塑了桃園鄉村景觀之特質。上述的○○最有可能是下列何種地形？



《答案》C

詳解：桃園地區主要地形為台地。(A)為山地，(B)為平原，(C)為台地，(D)為盆地。

121. () 大雲縣縣長安治因為涉嫌收取廠商 300 萬元賄款及 1,800 萬元的封口費，檢方審理終結起訴，除具體求處 15 年有期徒刑、罰金 2,100 萬元，並褫奪公權 8 年。對此，法學人士表示，本來依《貪汙治罪條例》應判無期徒刑，但因安治所收的賄款未直接花用在自己身上，所以檢察官只求刑 15 年。上述畫線部分，有幾項是屬於《刑法》的主刑？ (A)1 項 (B)2 項 (C)3 項 (D)4 項。

《答案》C

122. () 新北市有一名車主在停等紅燈時，天上突然掉下磁磚，砸裂了車子的擋風玻璃，害他共花 4 萬多元維修。警方到場勘查後判斷，磁磚應該是因路旁房屋外牆老舊而掉落，並非有人惡意砸落。若依我國現行法律判斷，關於上述案件的敘述，下列何者正確？ (A)屋主對車主有債務不履行民事責任 (B)屋主無侵權行為，不會有法律責任 (C)屋主並非故意，車主只能自認倒楣 (D)屋主有侵權行為，需負擔賠償責任。

《答案》D

詳解：《民法》第 184 條第 1 項規定「因故意或過失不法侵害他人之權利者，負損害賠償責任」，因此屋主雖然不是故意，但磁磚砸毀當事車主擋風玻璃，已構成侵權行為，仍需負擔損害賠償的民事責任，故答案選擇(D)。(A)應為侵權行為民事責任；(B)、(C)有侵權行為，需負擔損害賠償的民事責任。

123. () 15 歲的小華向同學阿剛借耳機回家使用，沒想到小華洗澡時不僅忘記將耳機自口袋中取出，還將它連同衣物丟進洗衣機清洗，造成耳機功能嚴重毀損。若依照我國法律判斷，下列敘述何者正確？ (A)小華對阿剛應負侵權行為的刑事責任 (B)小華的父母需負擔連帶賠償責任 (C)小華與阿剛未以書面約定，故契約不成立 (D)小華與阿剛是因租賃行為產生權利與義務關係。

《答案》B

詳解：15 歲的小華為限制行為能力人，無行為能力人或限制行為能力人侵害他人權利時，法定代理人也要負起連帶賠償責任，故答案選擇(B)。(A)小華無法依約完好歸還耳機，對阿剛負擔的是債務不履行的民事責任；(C)雙方當事人意思一致即可成立借貸契約；(D)兩人之間屬於借貸關係。

124. () 殺害女童的罪犯遭判無期徒刑，褫奪公權終身。請問：此判決結果剝奪了罪犯的哪些權利？ (A)生命、自由 (B)生命、財產 (C)自由、財產 (D)自由、參選公職。

《答案》D

125. () 附表是冬冬學習臺灣的海岸地形後，整理出的臺灣海岸地形比較表。請問：下列何者錯誤？ (A)甲 (B)乙 (C)丙 (D)丁。

海岸	特徵	地點
(甲) 北部	岩岸地形、水深曲折，多天然良港	新北瑞芳
(乙) 西部	沙灘、沙洲綿延，海岸遼闊	嘉義布袋一帶
(丙) 恆春半島	潟湖廣布，海岸線平直	屏東墾丁
(丁) 東部	波濤拍岸，高山、深海相鄰	花蓮清水斷崖

《答案》C

126. () 我國漁船曾在臺灣東南方巴士海峽海域遭到射擊，造成船長不幸罹難。此事件雖在我國對「該國」強力反應下，已得到妥善回應，但面對層出不窮的漁事糾紛，政府也應思考對策來因應。依據上文敘述，文中的「該國」應為下列何者？ (A)中國 (B)菲律賓 (C)日本 (D)越南。

《答案》B

詳解：由題幹「臺灣東南方巴士海峽海域」可推知事發地點最靠近菲律賓。

127. () 小妍參加了某地的自然生態導覽，聽到解說員提到該地區在地質上屬於斷層海岸，是由大理岩、片麻岩及綠色片岩所構成，岩質堅硬密實，不易崩落，故能成為陡峭壁立的斷

崖景觀。請問：上述可能是在描述臺灣哪一段海岸景觀？ (A)淡水河口——三貂角 (B)蘇澳——花蓮 (C)臺東——枋寮 (D)淡水河口——高屏溪口。

《答案》B

詳解：這段綿延 21 公里的臨太平洋斷崖公路，是臺灣最危險的蘇花公路清水斷崖段，以斷崖景觀著名。

128. () 某直轄市議會研擬了疏濬淡水河河道的計畫，希望以該市的經費，澈底解決河道周圍遇雨成災的問題。下圖為針對此計畫的質詢畫面，關於甲乙兩人職責的說明，下列何者正確？ (A)乙－擬定計畫／審查預算／執行施工 (B)甲－擬定計畫／審查預算／執行施工 (C)乙－擬定計畫／甲－審查預算／乙－執行施工 (D)甲－擬定計畫／乙－審查預算／甲－執行施工。



《答案》D

129. () 附圖為一則新聞報導，報導中民眾的行為在法律程序中稱為下列何者？ (A)告訴 (B)告發 (C)自首 (D)搜索。

為您插播一則快訊！
有民眾在新北市淡水區金色水岸附近發現無名屍體，嚇得趕緊通報轄區警方，而員警也在死者身上找到了相關證件，詳細死因與經過需等後續調查釐清。

《答案》B

詳解：民眾發現屍體迅速報案，屬於「任何人知悉有犯罪嫌疑時，向警察機關告知犯罪事實，不須有請求追訴之意」的告發，故答案選擇(B)。(A)指被害人或其親屬向警察機關或檢察官告知犯罪事實，以表達追究犯罪者刑事責任的意思；(C)犯罪者在犯罪事實未被發覺前，向警察機關或檢察官承認犯罪事實；(D)檢察機關為發現被告、犯罪證據等，向法院聲請核准後，對於被告或第三人住宅或其他處所，所實施的強制措施。

130. () 國際組織將「人權城市」定義為「既是當地社區，也是當地背景下的社會政治進程，其中人權作為基本價值觀和指導原則發揮著關鍵作用。」依此原則，高雄市為全臺唯一被指定為人權城市的地點。請問：高雄市最有可能因為曾經發生哪一事而被國際組織指定為人權城市？ (A)雷震事件 (B)二二八事件 (C)美麗島事件 (D)野百合運動。

《答案》C

詳解：美麗島雜誌社於西元 1979 年國際人權日在高雄發起遊行，呼籲政府解除戒嚴，過程中發生

衝突，多人遭到政府逮捕，是臺灣民主化歷程中的重要事件，高雄捷運美麗島站即是事發地點。

131. () 下列角色對於自己職務內容的描述，何者正確？(甲)法官：我依法做出公正的判決 (乙)檢察官：偵查後我依法提起告發 (丙)律師：我受當事人委託，為其辯護 (丁)警察：我將酒測濃度超標的駕駛人移送法辦 (A)甲乙丙 (B)甲乙丁 (C)甲丙丁 (D)乙丙丁。

《答案》C

132. () 附表為沙岸及岩岸的比較表。依據所學判斷，表中哪一項資料錯誤？(A)甲 (B)乙 (C)丙 (D)丁。

海岸分類	(甲)海岸線	(乙)沿岸地形	(丙)沿海平原	(丁)港灣島嶼
沙岸	平直	海底平淺	狹窄	缺乏港灣島嶼
岩岸	曲折	灣闊水深	寬廣	多港灣島嶼

《答案》C

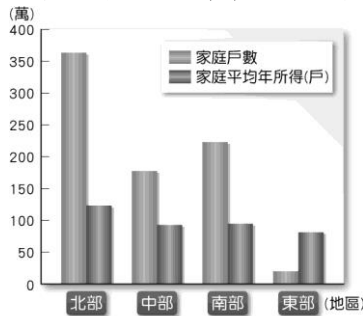
133. () 下列何者的行為屬於政治參與？(A)王強搭乘大眾捷運系統去看電影 (B)明華打掃住家環境並做好垃圾分類 (C)小賴陪媽媽上菜市場買菜 (D)麗玲參與五一反貧困大遊行活動。

《答案》D

134. () 新北市小衛星單位深入社區提供課後輔導與照顧服務，給予孩童更多的愛與發展機會，彌補原生家庭的不足，為社會中的脆弱家庭帶來極大的正向力量。從上述內容可以看出，小衛星單位推動的工作應與下列何者最為相關？(A)《家庭暴力防治法》 (B)《勞動基準法》 (C)《兒童及少年福利與權益保障法》 (D)《兒童及少年性剝削防制條例》。

《答案》C

135. () 附圖為臺灣四大區域的家庭平均年所得比較，由此圖可得知下列何項地理事實？(A)區域間差異大 (B)人口密度增加 (C)總體平均年所得下降 (D)一級產業發達。



《答案》A

136. () 某類型島嶼的形成原因是因為海平面上升或陸地下沉，使原鄰近沿海的丘陵部分沒入海中，而較高的山嶺凸出海面形成島嶼。請問：該類型的島嶼是屬於下列何者？(A)大陸島 (B)火山島 (C)珊瑚礁島 (D)海蝕島。

《答案》A

詳解：大陸島，因海平面上升或陸地下沉，較低的谷地沒入海中，較高的山嶺凸出海面形成島嶼。

137. () 志成為準備歷史期末報告，在網路上查到如附圖的資料——

東漢時期，朝中士大夫不滿宦官亂政，與之形成劇烈黨爭。後因宦官以「黨人」罪名將敵對的士人禁錮終身，並終身禁止其仕官，「黨錮之禍」遂由此得名。

根據文中的線索，宦官終身禁止士大夫仕官的方式，類似今日的何種刑罰？ (A)拘役 (B)罰金 (C)有期徒刑 (D)褫奪公權。

《答案》D

詳解：褫奪公權係剝奪犯罪者參加國家考試及擔任公職人員的政治權利，與文中提及的「禁止其仕官」在效果上最為類似。

138. () 附圖為某年分臺灣各縣市的社會增加率圖，由圖中資訊可知下列哪一項指標，北部區域高於其他區域？ (A)平均每戶可支配所得 (B)基礎公共設施 (C)人口密度 (D)人口移入率。



《答案》D

139. () 具有投票資格的公民，在投票日當天，依規定應攜帶哪些物品到指定的投票所投票？(甲)印章 (乙)健保卡 (丙)選舉公報 (丁)國民身分證 (戊)投票通知單 (A)甲乙丙 (B)甲丙戊 (C)甲丁戊 (D)丙丁戊。

《答案》C

140. () 我國法律規定：「政黨之目的或其行為，危害中華民國之存在或自由民主之憲政秩序者，主管機關得聲請司法院憲法法庭解散之。」下列何者有組成「憲法法庭」，審理政黨違憲解散案件的權力？ (A)總統 (B)大法官 (C)立法委員 (D)監察委員。

《答案》B

141. () 公民老師要振忠上臺報告行政院的職權，振忠在黑板上列出以下項目，根據內容判斷，其中哪一項職權的介紹不正確？ (A)甲 (B)乙 (C)丙 (D)丁。

甲：統一解釋法律與命令
乙：規畫與執行國家政策
丙：接受立法委員的質詢
丁：向立法院提出施政報告

《答案》A

詳解：甲是司法院大法官的職權。

142. () 倘若今年年底將舉行總統與立法委員選舉，請根據下圖大華一家人的現況，判斷他們在此次選舉中的投票資格，下列敘述何者正確？ (A)家中有3人不會收到此次選舉的投票

通知單 (B)阿菊可參加這次行政機關公職人員的競選 (C)小琪在搬家時遷了戶籍，因此無法參加這次的投票 (D)大華尚未擁有被選舉權但可以投票。

成員	狀況
阿發 (44 歲)	因嚴重車禍導致腦部受創，受監護宣告中。
阿菊 (45 歲)	擔任多屆民代，計畫今年參選行政機關公職人員。
小琪 (23 歲)	去年結婚後從北部搬至南部定居。
大華 (18 歲)	經常閱覽新聞電子報，以了解國際動態。

《答案》B

詳解：(A) 監護宣告已修法可投票，所以阿發、阿菊及小琪可投票。(B)此次選舉的行政機關公職人員為總統，被選舉人須年滿 40 歲，阿菊符合此條件。(C)小琪在去年搬家時遷了戶籍，到今年年底選舉時，她應已在選舉區設籍 6 個月以上，可參與投票。(D)投票年齡須年滿 20 歲；參選年齡須年滿 23 歲，阿華兩者皆不符合。

143. () 臺灣四周的離島，以形成原因分類，珊瑚礁島大多分布在臺灣哪一個方向的海域上？ (A) 東方 (B) 西方 (C) 南方 (D) 北方。

《答案》C

144. () 造成臺灣河川水系東西分流的主要原因為何？ (A) 降水量充沛 (B) 山地南北縱貫中央 (C) 降雨空間分布不均 (D) 河流侵蝕堆積。

《答案》B

145. () 小敏收到網購賣家寄來的包裹，發現竟然是瑕疵品，她想向賣家辦理退貨，卻遭到拒絕。小敏告訴父母之後，決定到警察局報案尋求協助。小敏求助的目的為何？ (A) 維護自己的權益 (B) 承擔應負的責任 (C) 享有特定的福利 (D) 避免不慎構成犯罪。

《答案》A

146. () 行政法是與國家行政權運作相關的一系列法律，其規定往往與人民的權利義務密不可分，行政法並非某單一法律的名稱，以下哪一部法律不屬於行政法？ (A) 《社會秩序維護法》 (B) 《中華民國憲法》 (C) 《公職人員選舉罷免法》 (D) 《道路交通管理處罰條例》。

《答案》B

147. () 母親節前夕，身為人子的鍾碩除了買禮物送給母親，並給了母親一個承諾。



鍾碩

感謝母親一路的照顧和栽培，今年我已符合最低參選年齡資格，打算投入政壇。



媽媽

我們居住在臺中市多年，你父親多年的政壇經驗也獲得許多讚譽，今年你能繼承他的遺志，媽媽倍感欣慰！

依照上述母子的對話內容，鍾碩最不可能參選哪一項公職人員選舉？ (A)臺中市市長 (B)臺中市市議員 (C)臺中市和平區區民代表 (D)臺中市豐原區豐榮里里長。

《答案》A

詳解：最低參選年齡資格為年滿 23 歲，而臺中市市長的參選年齡需年滿 30 歲。

148. () 老王向康康書局訂購最新型的模型飛機一批，但是雙方並未訂定買賣合約，事後老王想要反悔，康康書局是否可依法要求老王履行買賣契約？ (A)可以，因為雙方是好朋友 (B)不可，因法律規定買賣必須有書面契約 (C)可以，口頭約定雙方合意即構成契約 (D)不可，買賣為你情我願，不可強迫。

《答案》C

149. () 臺灣素來自詡為法治國家，具備完整的法律制定程序，並有對應的機關與人員切實執行，請問：下列四位法律系學生的說法，何者錯誤？

(A)

阿耀：

政府部門須依法行政，不得濫權。

(B)

小朔：

司法部門下設法院，並依法審判。

(C)

華兒：

法律經立法院三讀通過，立刻生效。

(D)

淳子：

行政、司法、考試及監察院皆可向法院提案制定或修改法律。

《答案》C

150. () 小裴整理出近期各地方政府舉辦的活動資訊如下圖。下列敘述何者最為恰當？ (A)提供因地制宜的社會服務 (B)凸顯中央與地方的合作關係 (C)落實當地對安全衛生的重視 (D)展現各地不同的文化樣貌。

假日何處去？

桃園大溪花彩節 賞花看稻浪享慢活
找尋歷史足跡 雲嘉南古蹟巡禮啟動
跟著節慶旅行 體驗風味新竹節開跑
東北角祕境尋寶趣 感受採山藥樂趣

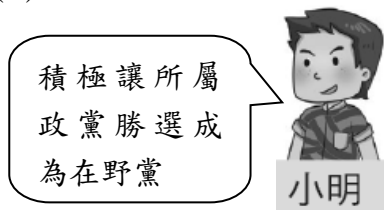
《答案》D

151. () 四個對從政有興趣的朋友，聊到未來參與政黨後的期許，下列何者所述較為適當？

(A)



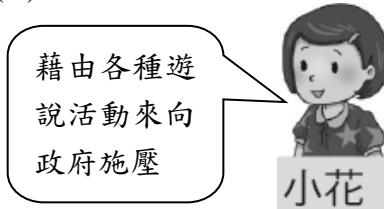
(B)



(C)



(D)



《答案》C

152. () 下圖為靜香與同學間的對話，下列描述何者正確？ (A)靜香爸爸所受的處罰為拘留 (B)靜香所言□□的內容應為請願 (C)大雄阿姨接受的處分屬行政罰 (D)小夫的建議為提出釋憲。

靜香：	我爸被開了張違規停車的罰單，罰了1,800元。但是他覺得警察局開錯罰單，準備要提出□□，要求撤銷處分！
大雄：	我阿姨家的工廠因為排放廢水，被要求勒令歇業，她也剛向行政機關提出變更處分，但被原處分機關拒絕。
小夫：	如果你阿姨對行政機關決議不服，可以……。

《答案》C

153. () 因應政府公告開放含有瘦肉精的豬肉進口，部分縣市訂定地方自治條例規定瘦肉精必須零檢出，卻遭行政院宣告部分條文牴觸中央法令而無效，有法界人士認為可以聲請釋憲來解決此爭議。上文呈現憲法的何種特性？ (A)最高性 (B)固定性 (C)原則性 (D)優越性。

《答案》A

154. () 下列敘述哪些符合法治的精神？ (A)甲乙丁 (B)甲乙戊 (C)乙丙丁 (D)丙丁戊。

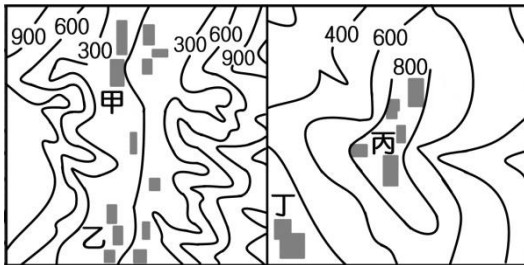
- 甲、違法者會受到強制力處罰。
乙、政府的施政須有法律依據。
丙、個人可選擇性的遵守法律。
丁、民意代表是制定法律者，可免受法律約束。
戊、人民權利若遭受侵害，有權依法尋求救濟。

《答案》B

155. () 聰杰在高雄工作，想利用假日搭乘自強號回到故鄉——彰化，過了臺南站之後，路途中可以看到窗外一大片的平原景觀。請問：這個平原最可能是下列何者？ (A)嘉南平原 (B)蘭陽平原 (C)屏東平原 (D)花東縱谷平原。

《答案》A

156. () 附圖為四個聚落分布地區的等高線地形圖，圖中方塊為聚落。請問：甲～丁哪一個聚落分布在山頂？ (A)甲 (B)乙 (C)丙 (D)丁。



《答案》C

詳解：甲、乙聚落皆位於河谷邊；丙聚落位於山頂；丁聚落位於山腰。

157. () 依據法律規定，和解及調解方式有其適用範圍。下列哪一種情況不可用調解或和解來處理？ (A)寶哥屢次向朋友催討欠債不成 (B)阿梅不小心摔壞同事的玻璃杯 (C)國華和其他3名同夥一起殺害未成年少女 (D)阿桑與鄰居因停車糾紛被打傷。

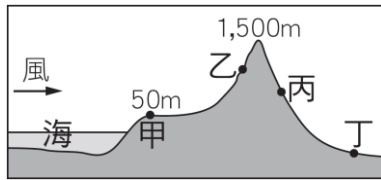
《答案》C

詳解：殺人罪是非告訴乃論的刑事案件，不得和解或調解。

158. () 古代秦始皇推行郡縣制度，直接派任官吏管理地方，以強化中央集權。此外，為控制人民思想，實施嚴刑峻法，彰顯出人治社會的特色。下列相關描述何者不正確？ (A)國家法律由民意代表所制定 (B)國家法律淪為統治者的工具 (C)法律是為了保障統治者權力 (D)法律可隨統治者的想法變動。

《答案》A

159. () 附圖中何地的降水量可能最多？ (A)甲 (B)乙 (C)丙 (D)丁。



《答案》B

160. () 志明深夜開車回家，不慎在轉彎時撞倒經過的機車騎士，騎士受傷倒地，志明嚇得趕緊逃離現場。隔天他在新聞中看到傷者送醫後昏迷不醒，仍未脫離險境，他覺得良心不安，便在家人陪同下主動到警察局交代昨晚發生的事，並坦然面對接下來的責任。上述志明的行為稱為下列何者？ (A)自訴 (B)告發 (C)自首 (D)公訴。

《答案》C

161. () 下列關於調解的說明，何者最為正確？ (A)調解委員會的委員由法院的法官擔任 (B)調解書核定後，效力和法院判決相同 (C)調解委員會調解成立後，由法官製作調解書 (D)調解成立後若有不滿，可就該案件再提訴訟。

《答案》B

162. () 綠島的朝日溫泉，泉水自海岸邊的礁石湧出，形成位於海裡的露天溫泉浴場，在義大利西西里島也有這種類似的溫泉。請問：海底溫泉的成因最可能是下列何者？ (A)瀉湖平靜無波 (B)珊瑚礁廣布 (C)黑潮暖流經過 (D)位於板塊接觸帶上。

《答案》D

163. () 貴貴去參觀一個有關臺灣史的展覽，他看到一張如附表的大事年表。請問：貴貴看的展覽名稱最可能為下列何者？ (A)臺灣的民主化 (B)二二八事件的起源 (C)認識理蕃政策的實施 (D)臺灣的新移民。

時間	大事
民 49 年	雷震事件
民 68 年	美麗島事件
民 75 年	民主進步黨成立
民 76 年	解除戒嚴
民 80 年	動員戡亂終止

《答案》A

詳解：這些事件是臺灣往民主化發展過程中的重大事件。

164. () 釣魚臺列嶼之主權歸屬，在中華民國(臺灣)、中華人民共和國及日本三方間，歷年來常引起廣大的爭議及討論。請問：釣魚臺列嶼依其成因屬於何種類的島嶼類型？ (A)火山島 (B)大陸島 (C)珊瑚礁島 (D)沙洲島。

《答案》A

165. () 食品標示新規定上路，奶製品、果汁及米粉等產品都必須要符合相關名稱規定，才能上架販售。高雄市衛生局會同消保官前往各大賣場稽查，是否有標示不實、誇張或易生誤解等情形。上述稽查措施主要落實了地方政府的何種自治事務？ (A)社會服務 (B)教育文化 (C)經濟發展 (D)安全衛生。

《答案》D

166. () 小芬和男朋友上網預購電影票，打算看新上映的電影，沒想到店家在網路售票時標錯場次時間，導致兩人抵達電影院時，電影早已放映完畢，於是兩人憤而找店家理論，店家卻拒不退票，小芬因而告上法院。以下哪一個情況不可能出現？ (A)小芬聘請律師來替自己辯護 (B)小芬提出有利自己的證據 (C)由調解委員會審理小芬的案件 (D)小芬最後與店家在法官面前進行和解。

《答案》C

167. () 一家旅行社失竊 6 萬餘元，警方接獲失主報案，至現場發現門窗完整，調閱監視器後發

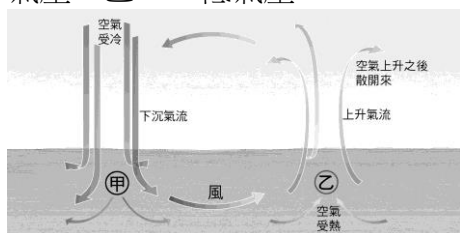
現是職員的男友所為，依竊盜罪將嫌犯移送法辦。下列有關本案之敘述何者正確？ (A)失主向警方提起告訴 (B)失主向法院提起告發 (C)法官依據竊盜罪將嫌犯起訴 (D)警方偵查後，直接將嫌犯提起公訴。

《答案》A

168. ()我國現行的各種選舉所選出的公職人員當中，下列何者屬於中央行政機關公職人員？ (A)總統 (B)立法委員 (C)縣議員 (D)鄉民代表。

《答案》A

169. ()附圖為氣壓示意圖。請問：圖中代號甲、乙分別為何？ (A)甲——高氣壓、乙——低氣壓 (B)甲——高氣壓、乙——高氣壓 (C)甲——低氣壓、乙——高氣壓 (D)甲——低氣壓、乙——低氣壓。

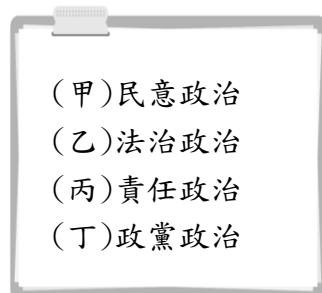


《答案》A

170. ()下列關於行政管制的敘述，何者正確？ (A)可以維護公共利益與秩序 (B)行政管制是由司法機關依法作成的決定 (C)主要用意是限制與規範人民的行為 (D)政府做出行政管制，不需要有法律的依據。

《答案》A

171. ()南韓前總統朴槿惠因「閩密門」醜聞遭國會彈劾通過停止職權，並在一審遭判 24 年徒刑。上述新聞事件體現了民主政治中的哪些特性？ (A)甲乙 (B)甲丁 (C)乙丙 (D)丙丁。



《答案》C

詳解：依法受到法律制裁屬法治政治；醜聞發生後，遭國會彈劾並停止職權，是承擔法律責任的表現。

172. ()小安和阿正訂定契約，雙方口頭約定，若小安能夠當選縣議員，阿正就當眾跳海。爾後小安真的選上縣議員，於是要求阿正履行契約。請問：依我國相關的法律原則，阿正是否須履行此約，當眾跳海？ (A)需要，口頭契約已構成契約要件 (B)不需要，口頭約定無法定強制力 (C)需要，依誠實信用原則，阿正必須履行契約 (D)不需要，當眾跳海違反公序良俗，契約應屬無效。

《答案》D

173. ()某些行為對社會秩序或人民權利傷害甚大，必須由國家動用「刑罰權」，以強制力對行為人加以制裁，方能伸張正義。請問：下列關於「刑罰權」的敘述，何者正確？ (A)是指國家採用刑罰處罰犯罪行為的權力 (B)只要是人民犯法的行為，皆可用刑罰加以處分 (C)刑罰權的行使，可由行政機關自行做成決定 (D)如果國家濫用刑罰權，受害人民可提起「訴願」以維護自己的權利。

《答案》A

174. ()臺灣近年來因為土石流災害，而造成許多家庭的生命、財產安全面臨威脅，為了減少此一災害，政府首要應進行哪一項工作？ (A)加強水庫的建構 (B)限制農地挪為他用 (C)加強坡地的水土保持 (D)禁止民眾住在山腳下。

《答案》C

175. () 陳先生一家人計畫到花蓮縣觀光旅遊，觀賞當地知名的風景名勝及慶典活動。請問：在他們預定的活動中，不包括下列何處？ (A)達悟族飛魚祭 (B)秀姑巒溪泛舟 (C)太魯閣國家公園 (D)金針花季。

《答案》A

詳解：達悟族飛魚祭為臺東縣蘭嶼鄉的特色慶典。

176. () 下列何者不屬於《民法》規範中的財產關係？ (A)小娟向房東租了一間套房 (B)阿明買了一輛新車 (C)大信向堂姐借了 30 萬元 (D)玲玲繼承爺爺去世後留下的遺產。

《答案》D

詳解：屬於身分關係。

177. () 19 歲的大學生小蔡利用所學，在校園裡製造毒品，並販賣給同學。請問：下列關於小蔡行為的敘述，何者正確？ (A)小蔡尚未滿 20 歲，犯罪可以減輕其刑 (B)小蔡須負擔完全的刑事責任 (C)小蔡只須負擔行政責任 (D)這是業務上的正當行為並不違法。

《答案》B

178. () 興建水庫是臺灣開發水資源的常見方式，其中主要水庫有 (甲)翡翠水庫 (乙)曾文水庫 (丙)日月潭水庫 (丁)石門水庫 (戊)德基水庫。請問：利用「淡水河」水系修築的水庫有哪些？ (A)甲乙 (B)甲丙 (C)甲丁 (D)乙丁。

《答案》C

179. () 阿雲搭火車，從臺北沿著臺灣西部一路到屏東。請問：阿雲不可能經過下列哪一個地區？ (A)林口台地 (B)蘭陽平原 (C)苗栗丘陵 (D)濁水溪沖積平原。

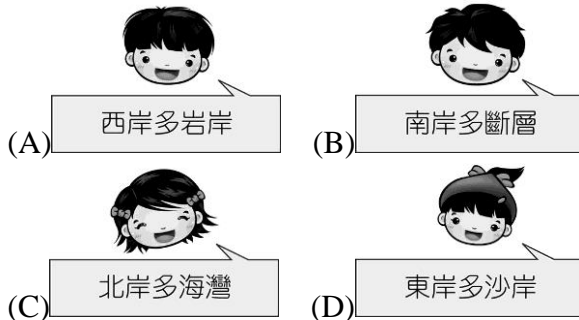
《答案》B

180. () 臺北市立天母棒球場曾因管理鬆散，擅自減徵中華職棒大聯盟實況轉播費、廣告費等規費，造成公庫受損，而遭監察院決議提出□□。上述□□應是指監察院的何種職權？ (A)糾正 (B)糾舉 (C)彈劾 (D)審計。

《答案》A

詳解：監察委員負責糾舉、彈劾違法或失職的公務人員，以及糾正行政機關的不當施政。

181. () 有關臺灣地形的敘述，下列何者說的最正確？



《答案》C

182. () 關於生活中「行政管制」的敘述，下列何者正確？ (A)是行政機關基於增進公共利益或維護社會秩序，要求或禁止人民從事某種行為 (B)行政管制的主要目的是保障政府權力 (C)為維護社會秩序，行政機關可任意實施管制行為 (D)人民要舉辦遊行活動前須申請，不屬於行政管制。

《答案》A

183. () 臺灣光復後，實施多項土地改革，包括：(甲)三七五減租 (乙)耕者有其田 (丙)公地放領。如果依照推行時間順序排列，下列何者是正確的？ (A)甲丙乙 (B)乙甲丙 (C)丙甲乙 (D)丙乙甲。

《答案》A

詳解：民國 38 年：三七五減租。民國 40 年：公地放領。民國 42 年：耕者有其田。

184. () 日常生活中，人民的權利和義務都會受到行政機關的管理，為了規範行政機關的行為，

並讓政府機關順利運作，因而產生了行政法。下列哪一部法規不屬於行政法的範疇？ (A)《刑法》 (B)《戶籍法》 (C)《公民投票法》 (D)《社會秩序維護法》。

《答案》A

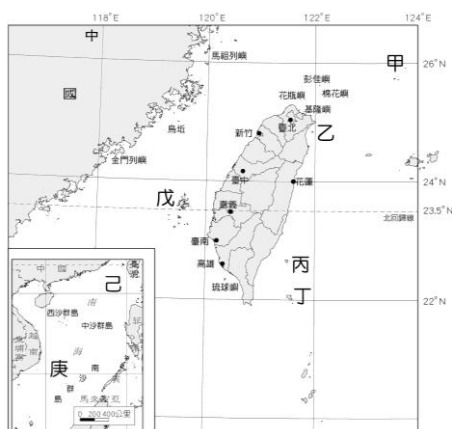
185. () 莊男因工廠經營不善向李女借 100 萬元周轉，但是後來莊男無力還款，於是李女要求莊男賣身為奴 10 年，供其使喚，莊男思索後同意這項建議。請問：上述契約是否有效？ (A)是，符合契約自由原則 (B)是，因雙方意思表示一致 (C)否，違反公序良俗 (D)否，因未簽訂書面契約。

《答案》C

186. () 小花分享旅遊見聞，她在某一個國家遇到民眾在街上遊行抗議，呼籲當局調整錯誤政策，正視人民的訴求，否則會侵害人民的權益。然而，其中也有支持政府該項政策的民眾，雙方因此大打出手，場面十分火爆。針對上述經驗的說明何者正確？ (A)政府政策絕對正確 (B)不同種族競爭激烈 (C)少數族群受到重視 (D)公共意見具複雜性。

《答案》D

187. () 臺灣鄰近的哪一座島群因擁有豐富的海洋生態，日前被政府提報申請為「世界文化遺產」，並在當地設立臺灣第一座海洋國家公園？ (A)丙 (B)丁 (C)己 (D)庚。



《答案》C

詳解：己：東沙為一珊瑚環礁，民國 96 年成立東沙環礁國家公園，是臺灣第一座海洋國家公園。
甲：釣魚臺列嶼，乙：龜山島，丙：綠島，丁：蘭嶼，戊：澎湖群島，己：東沙島，庚：太平島。

188. () 「又塞車了！每到假日這條由臺北通往宜蘭的隧道總是塞滿了車潮……。」請問：這個隧道穿過哪一座山脈？ (A)雪山山脈 (B)中央山脈 (C)海岸山脈 (D)玉山山脈。

《答案》A

189. () 我國制定《兒童及少年福利與權益保障法》的主要目的不包括下列何者？ (A)促進少年身心健全發展 (B)保護少年遠離不良生活環境 (C)規範父母親權及懲戒權的範圍 (D)增進成年人對兒少的照顧責任。

《答案》C

190. () 下列哪一句話最能表現民主政治中「民意政治」的特色？ (A)政府的施政必須透過各種管道與人民溝通，並以大多數人的共識為依歸 (B)政府施政必須有法律的依據 (C)政府官員應為施政成敗負責 (D)開放讓兩個以上的政黨有公平競爭執政的機會。

《答案》A

191. () 某場研討會中，講師提到了《民法》的部分概念如附圖。請問：下列敘述何者最符合講師提及的概念？ (A)人人均應了解《民法》規定以維護自身權利 (B)訂定契約的雙方須具行為能力才有法律效力 (C)權利一定期限不行使，請求權會喪失或受限 (D)誠實信用原則是行使《民法》最高指導原則。

《民法》的這個設計，就好比食物超過保存期限以後就不能食用，法律上的權利亦然，因此有了「消滅時效」。



《答案》C

詳解：講師所述概念為「消滅時效」，亦即權利的請求有時效性，若債權人經過一定時間不行使自己的權利，其請求權就會喪失或受到限制，故答案選擇(C)。(A)為學習《民法》的重要性、(B)為行為能力與契約效力的關係、(D)為《民法》行使原則，皆與講師所述內容無直接關係。

192. () 在未獲得法定代理人同意的情況下，10 歲的威力和舞林大道公司簽下演藝經紀契約，不過這份合約卻缺乏法律效力，這是因為威力在《民法》上屬於下列哪一種行為能力人？
 (A)無行為能力人 (B)限制行為能力人 (C)完全行為能力人 (D)受監護宣告之人。

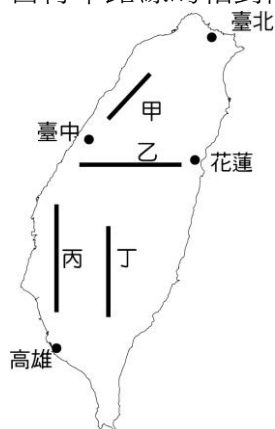
《答案》B

193. () 根據我國《刑法》的規定，下列哪些是可以單獨科處的刑罰？ (A)甲乙 (B)乙丁 (C)甲乙丙 (D)乙丙丁。

甲	死刑
乙	無期徒刑、有期徒刑
丙	拘役、罰金
丁	褫奪公權

《答案》C

194. () 臺灣位於板塊交界帶，在內、外營力相互作用下，地形豐富多樣。近年來，自行車運動盛行，政府以及民間單位規畫了許多自行車步道以及高難度挑戰路線。附圖中，哪一段自行車路線的相對高度最大，最具挑戰性？ (A)甲 (B)乙 (C)丙 (D)丁。



《答案》B

詳解：甲路線所經地形主要為丘陵；乙路線經過地區包含平原、台地、盆地、丘陵、山地等地形；丙路線所經地形主要為平原；丁路線所經地形主要為山地。所以，乙路線的相對高度最大。

195. () 下圖為某則新聞報導內容——

嘉義縣朴子鄉有『刺繡之鄉』稱號，並興建了朴子刺繡文化館，作為刺繡文化推廣中心，兼藝文活動推廣及朴子旅遊窗口。

根據上述內容判斷，辦理藝文活動是地方政府的哪一項自治事務？ (A)教育文化 (B)社會服務 (C)經濟發展 (D)安全衛生。

《答案》A

196. () 小華今年剛升上小學六年級，因羨慕同學有最新型手機，便到手機通訊行佯稱要購買同款手機，卻趁店員不注意時下手行竊，被店員發現後將小華依《刑法》竊盜罪移送法辦。請問小華是否須負起刑事責任？ (A)是，小華為完全責任能力人，須負刑事責任 (B)否，小華為無責任能力人，不負刑事責任 (C)是，小華為限制責任能力人，須負刑事責任 (D)否，小華應受監護宣告，不須負刑事責任。

《答案》B

197. () 臺灣的製造、加工等工業產品，曾經領先全球。許多中小型企業的老闆，經常帶著一只皮箱飛往全球各國找尋訂單，透過這樣的方式賺取許多的外匯。請問：這應該是臺灣哪一個經濟發展階段出現的特色？ (A)產業升級 (B)自由化與國際化 (C)出口導向 (D)進口替代。

《答案》C

詳解：出口導向時期，在政府鼓勵下，臺灣以輸出家電、食品等輕工業產品賺取大量外匯，建立「臺灣製造」的信譽。

198. () 下列對於監察院「糾舉權」、「彈劾權」及「糾正權」的相關敘述，何者正確？ (A)糾舉權向不當施政的行政機關提出，促其改善 (B)糾舉權與彈劾權是以「人」為對象；糾正權則以「機關」為對象 (C)糾正權向被糾正人的主管長官或上級長官提出 (D)彈劾權向考試院銓敘部提出。

《答案》B


199. () 日前發生一起縱火案，甲男因長期沉迷賭博電玩，與父母發生口角後，竟提油縱火，造成全家多人遭大火吞噬死亡。相關單位偵查終結，認為甲男手段人神共憤、令人髮指，且無教化可能，建請法官判處死刑。文中所指的相關單位應為下列何者？ (A)法院 (B)警察局 (C)檢察署 (D)社會局。

《答案》C

200. () 下列臺灣的哪一個自然現象，與臺灣島處於板塊交界帶較無相關？ (A)多火山地形 (B)地震頻繁 (C)主要山脈呈南北向 (D)西部多平原、盆地地形。

《答案》D

201. () 附圖是民國五十年代時，我國所外銷的家電和日常用品。這個時期的海外貿易之所以興盛的原因，與政府當時採取下列哪一個經濟政策有關？ (A)進口替代 (B)出口導向 (C)發展重化工業 (D)提倡高科技產業。



《答案》B

202. () 根據民國 36 年實施的《憲法》規定，國民大會為全國最高權力機構，國大代表任期六年，

由人民選舉產生，並有修訂《憲法》及選舉總統的職權。然而，第一屆國民大會代表卻從民國 37 年持續任職到 80 年，被譏為「萬年國代」。請問：這樣不符合《憲法》規定的現象，直到哪一位總統任內才改變？ (A)李登輝 (B)蔣經國 (C)蔣中正 (D)馬英九。

《答案》A

詳解：中華民國政府播遷臺灣，政府因大陸地區失守以致長期未進行國大代表改選，直至李登輝總統時代才進行國大代表改選。

203. () 水循環的過程中有一項稱為「蒸發」。請問：「蒸發」是指下列哪一種過程？ (A)水分子滲入地下 (B)水分子在地表流動 (C)地表的水分子化為氣體回到空中 (D)地表生物體的水分子化為氣體回到空中。

《答案》C

204. () 家祥在閱讀歷史書籍時看到下圖文字，請推測下列何種現象符合當時的社會狀況？ (A)法律成為管理國家的重要手段 (B)統治者權力不得凌駕法律之上 (C)人民藉由法律牽制統治者權力 (D)法律限制統治者必須依法行政。

實施新政初期，各大臣批評聲多，為求短期內奏效，將兩個重要的帶頭者，一個處以砍腳，一個在臉上刻字。至此再也無人敢批評新政，國家政令有效貫徹實行，但人民的守法是出於恐懼，原本祥和快樂的社會風氣大敗。

《答案》A

205. () 在米花國，凡是家裡擁有土地的國民，其一張選票具有雙倍的效力，可以抵一般民眾的兩票。上述米花國的選舉方式，違反了民主國家的何種選舉原則？ (A)普通 (B)平等 (C)直接 (D)無記名。

《答案》B

詳解：平等原則為「一人一票，票票等值」。

206. () 前總統李登輝對於臺灣的民主政治發展具有舉足輕重的重要地位。請問：下列何者不是他的施政成績？ (A)全面改選中央民意代表 (B)直轄市長民選 (C)總統民選 (D)開放黨禁、報禁。

《答案》D

207. () 下圖為小瑋翻閱知識庫所看到的報導——

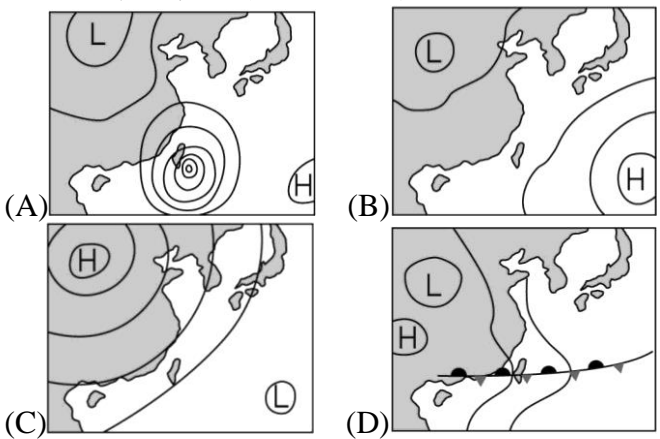
位於倫敦海德公園的「演說者之角(speakers corner)」是世界上首個法律認可的演講角。一、二次大戰期間，遭逢巨變的歐洲社會湧現了大量民間集會。在倫敦，每週的集會數量達到幾百場之多。知名的思想家蕭伯納、馬克思和邱吉爾都曾自帶木箱站在這裡發表演講，宣揚自己的想法，並在此與其他人對話。英國某位攝影師記錄了該處 30 多年來的影像，並說這裡最可貴的是「能夠聽到媒體上聽不到的言論，能夠體會面對面辯論的激情。」

根據上述的內容，就民主社會形成公共意見的過程，下列敘述何者正確？ (A)站在「演說者之角」的思想家是透過演說，間接的向民眾表達其個人的想法 (B)「演說者之角」的目的是希望透過大眾傳播媒體，直接向政府單位表達意見 (C)在「演說者之角」的演講者透過公開表達，並與群眾對話，來匯集公共意見 (D)政府對於這些演講者所表述的想法，如遇到與政策相牴觸，應該予以限制。

《答案》C

詳解：(A)演說者表達意見的方式是直接的。(B)演說者提供與主流媒體不同的意見，以形成不同立場的公共意見，並對話交流。(D)政府對於與政策相牴觸的意見，應相互對話，尋求多數民眾的支持。

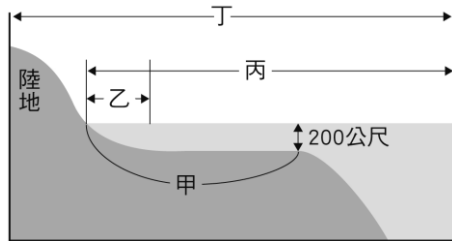
208. () 亞洲北部冷氣團南下，造成氣溫驟降，當氣溫降幅達到一定程度時，便稱為寒流。臺灣農作物一般不耐低溫，因此在寒流來臨前，須提前作好防寒措施。請問：下列哪一張最可能為寒流來臨時的地面天氣圖？



《答案》C

詳解：由題意得知此時應為寒流南下所造成的低溫現象，故地面天氣圖應顯示大陸為冷高壓中心、海洋為低壓帶，內陸地區吹來乾冷寒風，形成對農漁業產生重大損失的寒害。

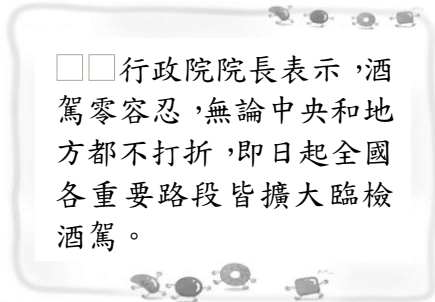
209. () 經濟海域一直是國際海域糾紛的主要所在。若附圖中「甲」長約 120 哩，則經濟海域最可能為圖中何者所代表的範圍？ (A)甲 (B)乙 (C)丙 (D)丁。



《答案》C

詳解：經濟海域為海岸線向外延伸 200 浬間的海域。

210. () 瑞瑞剛從網路上看到這則新聞報導：



上述行政管制的主要目的為何？ (A)維持道路交通秩序 (B)維持經濟秩序的穩定 (C)增加政府財政收入 (D)收取罰鍰嚴懲違規者。

《答案》A

211. () 美國《獨立宣言》：「……任何政府破壞了這些目標，人民便有權利改變或廢除它，重新建立一個新的政府。」現今民主國家的人民，可利用下列何種方式建立新政府？ (A)選舉投票 (B)集會遊行 (C)合法組黨 (D)軍事政變。

《答案》A

212. () 針對各國對俄羅斯入侵烏克蘭祭出制裁一事，我國經濟部部長表示，臺灣已經和其他民主國家一樣，按照防止武器擴散的《瓦聖納協定》，對相關出口品項管制，國內廠商會配合政府政策，遵守相關法律。上文呈現下列何種概念？ (A)國家與政府的概念相同 (B)政府更替即為國家滅亡 (C)政權經過人民定期授權 (D)政府是國家事務執行者。

《答案》D

213. () 中華民國政府針對臺灣原住民實施多項政策，但不少施政卻導致原住民族對於自身傳統文化的喪失。下列哪一政策的實施可以用來說明上述現象？ (A)將「山胞」改為「原住民」 (B)要求參拜神社 (C)要求說國語、改漢姓 (D)理蕃政策。

《答案》C

詳解：「說國語、改漢姓」直接影響原住民族族語與認同的延續。(A)回應原住民致力恢復族群尊嚴的訴求；(B)、(D)是日治時期總督府對原住民的措施。

214. () 七月的某天黃昏，爺爺望著即將沒入海中的火紅太陽說：「日落胭脂紅，無雨也有風。」當晚天氣預報也出現密集的低氣壓天氣圖。請問：近期將可能出現何種天氣現象？ (A)乾旱 (B)颱風 (C)寒流 (D)梅雨。

《答案》B

詳解：颱風侵襲臺灣前夕，太陽將下山時會呈現一片火紅，地面天氣圖將出現密集的低氣壓，顯示可能將有颱風的形成。

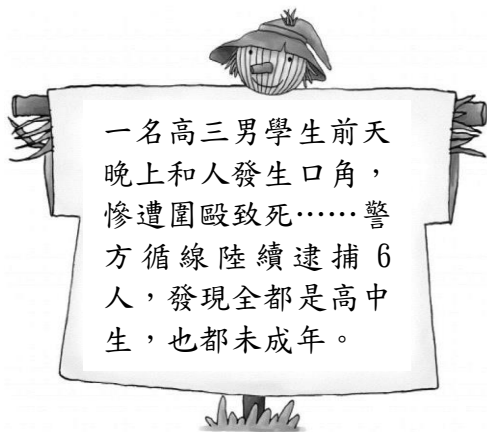
215. () 臺灣冬季時，哪一個地理區最容易因為乾旱而造成灌溉及民生用水不足的現象？ (A)蘭陽平原 (B)屏東平原 (C)新竹丘陵 (D)臺北盆地。

《答案》B

詳解：屏東平原位於臺灣西南部，冬季乾旱，故須修築水利設施，以解決灌溉及民生用水問題。

216. () 依據附圖新聞所述判斷，此 6 名高中生最有可能面臨哪種處分？ (A)移送檢察官偵查起訴，接受刑罰處分 (B)接受保護管束，由少年保護官執行 (C)將 6 名高中生送回原學

校，重新輔導 (D)將 6 名高中生安置在社福機構，施以輔導。



《答案》A

217. () 莊小姐向家具行購買一組沙發，家具送來時卻發現顏色與材質和賣場展示品有所差異，因此莊小姐拒絕收下，老闆卻堅持這就是莊小姐所訂購的產品，拒絕退費，還怪莊小姐故意找他麻煩。莊小姐若希望以簡便方式解決雙方間的糾紛，應該透過下列哪項途徑？
(A)提起訴願 (B)聲請調解 (C)提出糾正 (D)提起民事訴訟。

《答案》B

218. () 午後一場大雷雨，造成高雄市區淹水、交通號誌故障，使得市區交通出現大塞車狀況。此時應由下列何者派遣人員維持交通秩序？
(A)總統府 (B)行政院 (C)高雄市議會 (D)高雄市政府。

《答案》D

219. () 臺灣主要河川呈現東西分流，與下列哪一因素最相關？
(A)主要山脈呈南北走向 (B)平原多分布於西部 (C)北部有火山地形 (D)人口集中西部地區。

《答案》A

220. () 臺灣每年 5、6 月時，常因梅雨季節到來，出現連續多天全臺降雨不止的情況。請問：這種類型的降雨成因為何？
(A)對流旺盛 (B)低氣壓籠罩 (C)鋒面滯留 (D)地形抬升。

《答案》C

221. () 下列哪一團體，其擁有的理念通常為單一議題，且透過遊行、遊說等方式來影響政府決策，達成其理念目標？
(A)政黨 (B)利益團體 (C)企業組織 (D)非志願團體。

《答案》B

222. () 下圖是小華在雜誌上看到的內容：

位於西班牙東北部的加泰隆尼亞，相較於西班牙其他地區，擁有自己的語言、獨特文化與民族，因此極力爭取自治權。西元2017年舉行獨立公投，投票率占43.03%，90.9%的選民支持獨立建國，但西班牙政府以實施憲法第155條，直接接管該地政府。歐洲理事會主席表態力挺西班牙政府，將西班牙視為歐盟唯一的對話夥伴；美國國務院聲明，加泰隆尼亞是西班牙不可分割的一部分，支持西班牙政府採取合憲措施，維持國家的強大與統一。

根據上述，下列何者為加泰隆尼亞無法成為國家的主要因素？ (A)國籍取得方式與西班牙政府認定的不同 (B)無實權可達到保衛國家安全的重要目的 (C)公投結果顯示政府未有過半數民意支持 (D)不具有對外獨立及對內最高特性的主權要素。

《答案》D

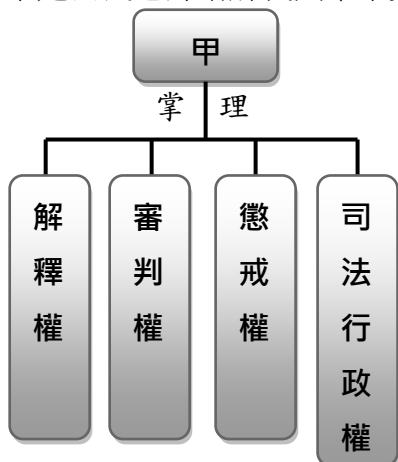
詳解：國家構成要素有四個：人民、領土、政府、主權，加泰隆尼亞無法取得國際社會認同，代表不具有對外獨立的主權要素。

223. () 每到夏天，由臺東往綠島的船班總是班班客滿，遊客們前往綠島遊玩、潛水、泡溫泉，但在一九九〇年代以前，前往綠島的船班可不是載滿遊客，而是政治犯。在臺灣走向民主化後，為了紀念這段過去的歷史，政府在綠島成立了何種機構？ (A)和平紀念館 (B)綠島歷史博物館 (C)二二八紀念館 (D)白色恐怖綠島紀念園區。

《答案》D

詳解：綠島與臺北景美看守所都是過去白色恐怖時期關押政治犯的地方，被列為不義遺址，並成立白色恐怖紀念園區。

224. () 以下是公民老師講解我國某中央政府機關職權時使用的掛圖：



根據內容判斷，圖中的「甲」應是指下列哪一個組織？ (A)立法院 (B)司法院 (C)行政院 (D)考試院。

《答案》B

詳解：司法院憲法法庭負責審理解釋《憲法》與統一解釋法律及命令之案件。設立各級法院，負責審理訴訟案件。設立懲戒法院，掌理全國公務人員的懲戒事務。

225. () 現代民主國家中，都有利益團體與政黨兩種組織的存在，但其對政治的影響並不相同，民眾若希望透過這二者讓公共意見產生影響力，下列哪一項敘述是正確的？

(A)

利益團體目的在影響決策，政黨目的則是取得政權，兩者皆能彙整民眾意見發揮影響

(B)

利益團體為保持政治中立，不與任何政黨發生關聯，直接將匯集的公共意見提出請願

(C)

政黨必須透過利益團體的力量，整合團體所匯集的公共意見後，才能促使政府改變政策

(D)

政黨不受任何利益團體影響，只為多數的民眾謀福利，直接透過服務處匯聚公共意見

《答案》A

詳解：(B)利益團體可以支持理念相同或願意將公共意見作為政策調整的政黨。(C)、(D)政黨為得到民眾支持以取得政權，可以尋求利益團體的支持，但並非必須透過利益團體才能影響政策。

226. () 「阿嘉與友子坐在臺北貓空纜車上，看著遠方發現有個地方頂部平坦，但四周直陡而下……。」請問：他們看到的地形是哪裡？ (A)林口台地 (B)新竹丘陵 (C)大屯火山群 (D)雪山山脈。

《答案》A

227. () 小寧想要蒐集資料來完成公共意見影響性的報告，下列哪一則新聞標題符合她的需要？ (A)網路新聞開放民眾留言，各方針對議題討論 (B)梅雨季節即將到來，政府提醒民眾外出帶傘 (C)國外藝術家駐臺，喜好藝術的民眾期待萬分 (D)民眾努力奔走下，政府宣布綠能圖書館動工。

《答案》D

228. () 新聞報導：「◆◆針對《原住民身分法》召開言詞辯論，這是釋憲新制上路後的首宗開庭案。」上述◆◆應為下列何者？ (A)懲戒法院 (B)憲法法庭 (C)立法院 (D)行政院。

《答案》B

229. () 小強最近因某項行為違反《刑法》規定而須負起刑事責任。請問：此項行為應為下列何者？ (A)無照駕駛 (B)未依約定償還房屋貸款 (C)恐嚇他人向其勒索金錢 (D)集會遊行沒有申請許可。

《答案》C

230. () 世明以「民意政治」為題撰寫報告，他應該會舉出下列哪一個例證來說明？

(A)

強調「權責相符」，政府的所作
所為應向人民負責

(B)

依法行政，政府應以公正獨立的
司法來遏止違法濫權的行為

(C)

自由選舉，開放讓兩個以上的政
黨有公平競爭執政的機會

(D)

廣納意見，以多數人的意見作為
決策依據

《答案》D

231. () 某國中打算利用寒假期間舉辦畢業旅行，為了不讓下雨影響遊玩的雅興，該校可以最優先考慮下列哪一個景點？ (A)宜蘭冬山河 (B)臺北陽明山 (C)南投日月潭 (D)屏東墾丁。

《答案》D

詳解：臺灣西南部冬季位於東北季風的背風坡，降雨機會較少，可以安排為旅遊的行程。

232. () 王先生是一位球鞋收藏家，年輕時就開始對某品牌的鞋款情有獨鍾，甚至還珍藏了一雙已經絕版的經典鞋款。日前有一名買家表示願意出資購買，於是雙方約定交易細節。兩人買賣交易中的相關權利，主要受到下列哪一部法律保障？ (A)《社會秩序維護法》 (B)《性別平等工作法》 (C)《民法》 (D)《刑法》。

《答案》C

233. () 下列何者與高雄市議會同屬地方立法機關？ (A)朴子市民代表會 (B)臺灣省政府 (C)宜蘭市公所 (D)立法院。

《答案》A

詳解：雖然分屬不同的地方政府層級，卻是地方立法機關。

234. () 17歲的阿賓經常集結一群友人，在校內外打架鬧事，此行為應以下列哪一部法律來處理？ (A)《社會秩序維護法》 (B)《少年事件處理法》 (C)《兒童及少年性剝削防制條例》 (D)《兒童及少年福利與權益保障法》。

《答案》B

235. () 船長阿智駕駛著鯨豚號漁船在南太平洋海域捕魚，此時船上水手適時提醒船長說：「前面就是智利的經濟海域範圍，如果再繼續向前的話，可能會被海上巡防隊扣押或驅逐。」請問：通常界定的經濟海域範圍是距離海岸線多少浬之處？ (A)12 (B)20 (C)60 (D)200。

《答案》D

236. () 橘子和家人一起觀看電視益智節目，挑戰者選了法律題後，畫面題目出現「命令的效力及特性」。挑戰者要選擇以下何者，才能正確過關？ (A)可用來補充法律的規定 (B)內容簡明扼要，具有原則性 (C)由立法院審議通過，總統公布後實施 (D)制定目的在落實人治精神。

《答案》A

237. () 在現代民主國家，即使是警察，也必須持有法官簽發的搜索票，才能進入民宅搜索。由

此可見，行政行為具有下列何種特性？ (A)須有法律作為依據 (B)目的在約束人民行為 (C)功能為伸張政府權力 (D)充分發揮人治精神。

《答案》A

238. () 以下是老師在課堂上的解釋——

雙方約定，一方將物品租給對方使用，而對方支付租金的契約。

老師是在說明下列何種概念？ (A)買賣 (B)租賃 (C)侵權 (D)借貸。

《答案》B

239. () 林先生和鄰居產生糾紛，至調解委員會進行調解，最後雙方達成協議。調解成立後，還須經過哪一項程序，才與法院判決具有同等的效力？ (A)全體調解委員同意調解成立 (B)雙方當事人簽名同意調解成立 (C)製作調解書經法院核定 (D)製作調解書送縣市政府核定。

《答案》C

240. () 某學者在其著作中指出：

「……人民之所以需要人權，往往是因為國家會侵害人民權益，所以人民要防禦國家的侵害，因此我們說人民最主要的人權，就是『防禦權』，也就是在不違反法律的前提下，每個人享有自行決定做哪些事，或不做哪些事的權利。」

根據學者的說法，其所說的「防禦權」是指下列何者？ (A)平等權 (B)自由權 (C)受益權 (D)參政權。

《答案》B

241. () 在資訊爆炸的時代，網際網路為人類帶來極大的便利性，為了約束網路上的行為，立法院於民國 92 年 6 月 3 日三讀通過增訂《刑法》「妨害電腦使用罪」罪章，以因應時代變遷。請問：關於上文，下列說明何者正確？ (A)彰顯出罪刑法定原則精神 (B)國家可以任意廢除法律規定 (C)依法行政出現在人治國家 (D)可以溯及上文日期以前的犯罪行為。

《答案》A

詳解：(B)法治國家必須依法定程序廢除不適用法律；(C)法治國家；(D)法不可以溯及既往。

242. () 光海在網路上以超低特價購買知名品牌的零食，食品送達後才發現竟是保存期限僅剩一個月的「即期品」，但網路賣場並未提供保存期限的相關訊息。請問：網路賣場的做法違反了《民法》的哪項基本原則？ (A)契約自由原則 (B)誠實信用原則 (C)公平正義原則 (D)罪刑法定原則。

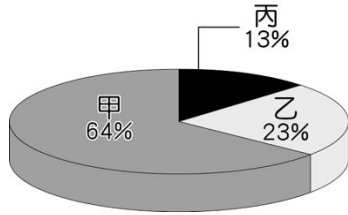
《答案》B

243. () 人口學家提出「德莫尼投票法」(Demeny Voting)，賦予父母代替其未成年子女投票的權利，希望藉以平衡老年選民占多數而可能偏向特定政策的弊病。但該方式也受到質疑，認為這些未成年選舉人的權利，可能受到其監護人的影響而喪失獨立性。該投票法可能違反下列哪一項原則？ (A)普通原則 (B)平等原則 (C)直接原則 (D)無記名原則。

《答案》C

詳解：未成年子女無法親自投票，而需透過其監護人行使權利的方式，違反「直接原則」。

244. () 臺灣東部區域因為汙染較少，被稱為臺灣後花園，境內各級產業活動的發展亦受其影響。附圖為該區域的各級產業就業人口比例圖，請問圖中甲、乙、丙依序應為何種產業活動？
 (A)第三級、第一級、第二級 (B)第二級、第三級、第一級 (C)第三級、第二級、第一級 (D)第一級、第三級、第二級。



《答案》A

詳解：東部區域觀光業發達，第三級產業比例最高，工業不發達，第二級產業比例最低。

245. () 小明將我國刑罰規定整理為下列筆記，但不慎寫錯某處。請根據其內容判斷，何者有誤？
 (A)甲 (B)乙 (C)丙 (D)丁。

項目	種類	刑罰
甲	主刑	死刑
乙	主刑	有期徒刑
丙	主刑	罰金
丁	從刑	拘役

《答案》D

246. () 佳佳在假日到臺北街頭逛街，看見某團體為了自身權益，運用遊行、請願、示威、抗議等活動提出訴求，表達意見，希望政府調整政策方針。這樣的社會運動能被包容，是因為哪一政策的影響所致？
 (A)政黨輪替 (B)廢除《動員戡亂時期臨時條款》 (C)解除《戒嚴令》 (D)落實地方自治。

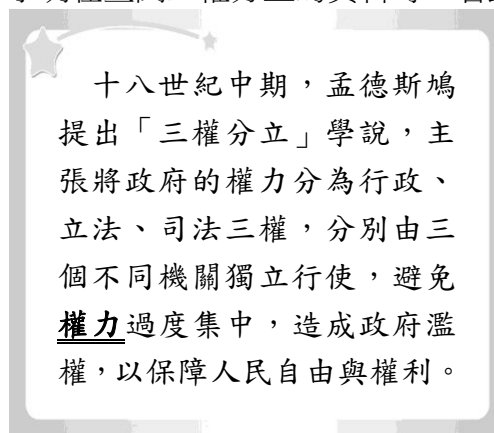
《答案》C

詳解：《戒嚴令》限制人民言論、集會、結社、出版等自由。

247. () 佳佳與友人去攀登臺灣第一高峰。佳佳站在山頂上大叫：「我是全臺灣最高的人！」請問：佳佳當時所在的海拔高度大約為何？
 (A)952公尺 (B)1,952公尺 (C)2,952公尺 (D)3,952公尺。

《答案》D

248. () 小明在查閱三權分立的資料時，看到以下說明：



請問：下列哪一個選項中的行為，符合粗體字畫線處的意涵？
 (A)投書媒體評論政策 (B)失業申請職業訓練 (C)政府徵收民眾土地 (D)人民示威遊行抗議。

《答案》C

詳解：其他選項皆為權利。

249. () 臺灣海洋資源豐富，提供居民「以海為田」的優良環境，無論養殖或捕撈漁業皆盛行。

此現象與下列哪一項特徵最為相關？ (A)臺灣海岸四周皆為岩岸地形 (B)臺灣四面環海，海岸線綿長 (C)臺灣天然良港多分布於西部 (D)臺灣沿海有乾淨清澈的海水。

《答案》B

詳解：臺灣四面環海，海岸線綿長，四周海域寬廣，提供居民豐富的海洋資源。

250. () 如果立法院不認同行政院施政，可以提出下列何種議案，以改善此種情況？ (A)糾舉權，彈劾失職人員 (B)糾正案，糾正不當施政 (C)彈劾案，迫使官員下臺 (D)不信任案，讓行政院院長辭職。

《答案》D

251. () 美國各大城市的槍擊、兇殺與持械搶劫案頻傳，美國總統表示，將呼籲國會著手訂定槍枝管制法案，來對付使用槍枝犯罪的人。關於美國社會的敘述，下列何者正確？ (A)文中法案限制人民權利，保障政府權力 (B)法律的修訂必須經由一定的法定程序 (C)總統提出的想法與意見就會成為法律 (D)總統的行為侵害人民集會與結社自由。

《答案》B

詳解：文中法案會限制人民權利，但同時也保障人民權利。

252. () 臺灣四周環海，海岸線綿長，各地海岸景觀並不相同。請問：下列有關臺灣海岸的敘述，何者正確？ (A)東部——岬灣海岸 (B)恆春半島——斷層海岸 (C)北部——珊瑚礁海岸 (D)西部——堆積海岸。

《答案》D

253. () 小明的姐姐大學剛畢業，準備參加考試院所主辦的公務人員高等三級考試，希望通過考試後能成為國家公務人員。針對考試院所具備的考試權，下列相關敘述，何者正確？ (A)旨在為國公正舉才 (B)旨在避免議會的專制 (C)屬於三權分立其中之一 (D)乃是從司法權獨立出來的。

《答案》A

詳解：五權分立學說將考試權從行政權獨立出來，公正的為國舉才。

254. () 總統為我國國家元首，下列何者為總統的職權？ (A)審核政府的決算 (B)掌理全國公務人員的懲戒 (C)提出《憲法》修正案 (D)統率海陸空三軍。

《答案》D

詳解：(A)監察院審計部。(B)司法院懲戒法院。(C)立法委員。

255. () 「近年來，臺灣的山地和丘陵地土石流災害頻傳，其發生原因，除山坡地不當的利用外，與臺灣的天氣災害有關，尤其是颱風帶來的豪雨。」依據上述，土石流以哪兩季節發生的頻率最高？ (A)春季、夏季 (B)夏季、秋季 (C)秋季、冬季 (D)冬季、春季。

《答案》B

256. () 當社會逐漸走向富裕之際，應避免資源分配不均，以免社會上的弱勢群體無法獲得公平競爭的機會。要達成上述目的，國家應加強下列哪個功能的發揮？ (A)保衛國家安全 (B)落實責任政治 (C)維持社會秩序 (D)發展社會福利。

《答案》D

257. () 19 歲的阿呆和 17 歲的阿傻結夥持刀搶劫，被警察逮捕。依我國《刑法》規定，阿呆和阿傻的刑事責任為何？ (A)兩人都必須負擔完全的刑事責任 (B)兩人都可以減輕其刑 (C)阿呆須負擔完全刑事責任，阿傻可以減輕其刑 (D)阿呆可以減輕其刑，阿傻不受《刑法》處罰。

《答案》C

詳解：阿呆已滿 18 歲，為完全責任能力人；阿傻為限制責任能力人，依法得減輕其刑。

258. () 郁閔在網路上看到少年矯正學校收容人數的統計資料，關於被收容少年的觸法行為，下列敘述何者正確？ (A)皆經法官審理後處以刑罰 (B)由警察依情節輕重處以刑罰 (C)國家秉持「以教育代替懲罰」的方式處理 (D)皆犯最輕本刑 5 年以上有期徒刑的罪。

《答案》C

259. () 根據我國《刑法》規定，以下案例中的王姓婦人將會受到何種制裁？

□□55 歲的王姓婦人與朋友聚餐，酒過三巡後駕車回家，被警方攔下進行酒測，過程中以言語辱罵警方，還出手攻擊員警；事後婦人解釋因喝醉、精神狀況不佳，導致行為不當，但警方仍將其依法送辦。

(A)喝醉酒屬精神障礙者，《刑法》不罰 (B)喝醉酒屬精神障礙者，得減輕其刑 (C)喝醉酒屬限制責任能力人，得減輕處罰 (D)不因喝醉而有所改變，仍為完全責任能力人，須接受《刑法》制裁。

《答案》D

詳解：55 歲為完全責任能力人，喝醉酒乃為個人因素導致精神狀態不佳，不得以此為理由躲避《刑法》的制裁。

260. () 附表為某地的氣溫資料。請問：該地的年均溫是下列何者？ (A)19.65°C (B)12°C (C)48°C (D)23.75°C。

月分	一	二	三	四	五	六
氣溫(°C)	18	19	22	23	26	28
月分	七	八	九	十	十一	十二
氣溫(°C)	30	28	26	24	22	19

《答案》D

261. () 若少年有下列哪項情形，不必以少年保護事件程序來處理？ (A)吸食迷幻藥 (B)偷竊同學的手機 (C)加入宗教組織 (D)加入黑社會幫派。

《答案》C

262. () 發生在西元 2018 年的八二三水災，造成雲林、嘉義、臺南、高雄、屏東地區的淹水災情，雖然該熱帶性低氣壓未達颱風的標準，然而強勁的外圍環流帶來驚人的降水量。請問：此外圍環流的風向應該為下列何者？ (A)西北方 (B)西南方 (C)東北方 (D)東南方。

《答案》B

詳解：由颱風(熱帶性低氣壓)所帶來的西南氣流，容易造成中南部豪雨。

263. () 民國六十年代末期，政府決定發展技術密集、附加價值高的產業，下列何種產業成為當時臺灣產業升級的代表？ (A)汽車工業 (B)金融業 (C)高科技業 (D)紡織業。

《答案》C

264. () 小婷她們家想要找一棟新房子，其中「坐北朝南」的座向是她爸爸一直要求的，他認為這種座向的屋子比較溫暖。這種說法與下列哪一項自然因素的關係最密切？ (A)颱風的走向 (B)風水的好壞 (C)山脈的走向 (D)季風的風向。

《答案》D

265. () 附圖為臺灣某個離島與各國之間的距離示意圖，因位置關係，此離島有國際主權爭議及常發生經濟海域重疊的問題。請問：主要是下列哪一個離島的爭議？ (A)金門列嶼 (B)太平島 (C)釣魚臺列嶼 (D)澎湖群島。



《答案》C

詳解：由圖可判斷此為位於東海的釣魚臺列嶼，有中日臺三方的主權爭議。

266. () 17歲的小東(甲)和樂團同學一起與唱片公司簽約，為了慶祝，他不僅(乙)花光父母給的500元零用錢，還(丙)偷偷將家裡沒在使用的二手手機賣給同學，換取10,000元現金後，(丁)向車行訂購一部機車。請問：以上小東的各項行為，何者具有法律效力？(A)甲 (B)乙 (C)丙 (D)丁。

《答案》B

267. () 五月正值議會開議期間，老師經過申請後安排學生參觀宜蘭縣議會，參觀結束，老師整理部分學生學習單如下圖，其中哪一位同學的分享是正確的？

(A)



雅雯

宜蘭市市長須到宜蘭縣議會做施政報告，並接受質詢。

(B)

為了宜蘭的好山好水，宜蘭縣議會應負責執行各項施政工作。



小芬

(C)



智傑

地方稅收不易，宜蘭縣政府應好好審查預算。

(D)

宜蘭縣政府編列的預算要經過宜蘭縣議會審查通過才能執行。



宗霖

《答案》D

詳解：(A)應改為宜蘭縣縣長；(B)執行者應為行政機關的宜蘭縣政府；(C)審查預算者應為宜蘭縣議會。

268. () 臺灣土地改革制度中，哪一項政策使得佃農的數量減少？(A)三七五減租 (B)成立農會 (C)申請墾照 (D)耕者有其田。

《答案》D

269. () 「臺灣之美」的繪畫比賽中出現了一幅素描作品(如附圖)，這幅作品應該是在臺灣哪一處海岸所繪製？(A)東部 (B)西部 (C)恆春半島 (D)北部。



《答案》A

270. () 索隆利用週末放假的機會，前往臺灣某地旅遊，在旅行途中，不忘隨時上部落格寫下自

己的旅遊心得，並且附上在當地寫生的繪畫，如附圖所示。請問：索隆最可能是到下列何地旅遊？ (A)臺中 (B)淡水 (C)花蓮 (D)琉球。



《答案》C

271. () 赫特河公國位於西澳州伯斯以北 517 公里處，西元 1970 年，農場主人和數名追隨者宣布所轄農場領地從西澳州脫離獨立，並自稱其獨立已經獲得國土局的官方確認。事實上，無論是澳州政府，或是其他任何一國的政府，都不承認赫特河公國是一個國家。請由畫線處判斷，該公國缺乏何種權力？ (A)統治權 (B)公權力 (C)人權 (D)主權。

《答案》D

272. () 以往君主專制時代，奪取政權不是透過政變就是革命，而民主政治，是透過選舉來決定國家的執政者，因此有人以「從打破頭，到數人頭的過程」來形容民主。這句話可凸顯出選舉的何種功能？ (A)選出公職人員 (B)影響政府政策 (C)合法組成政府 (D)落實責任政治。

《答案》C

273. () 在民主國家，人民有權參與政治並決定公共事務。下列何者是參與政治的方式？ (A)甲乙丙 (B)甲乙丁 (C)乙丙丁 (D)甲乙丙丁。

- (甲)參與遊行等集會活動
- (乙)組織利益團體
- (丙)參與選舉
- (丁)參加候選人的辯論會活動

《答案》D

274. () 臺灣水資源相當匱乏，每一滴水都很珍貴，政府若要積極解決臺灣缺水問題，應該從下列哪一項措施去執行？ (A)廣闢山坡地，蓋超大型水庫 (B)呼籲宣導節約用水，做好河川保育工作 (C)完全禁止農漁業和民生用水 (D)大量向國外進口瓶裝水。

《答案》B

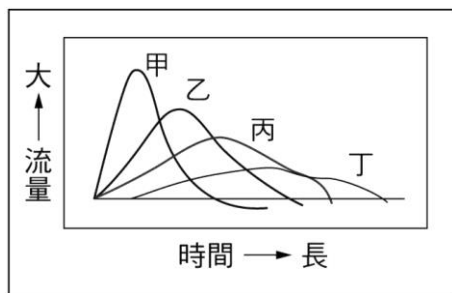
詳解：(A)此作法將會破壞生態環境，也無法永續利用水資源。(C)水資源可以利用，但是需要做好管理與保育，並且有效率且永續的利用水資源。(D)此並非治本的方法。

275. () 民主市爆發捷運興建的工程弊案，相關官員皆遭到司法機關的約談，若調查後發現貪瀆屬實，則都必須接受法律制裁。這符合民主政治的何種特色？ (A)甲乙 (B)甲丁 (C)乙丙 (D)丙丁。

- (甲)民意政治
- (乙)責任政治
- (丙)法治政治
- (丁)政黨政治

《答案》C

276. () 附圖為四條河川某次降水後的流量變化圖。請問：依據圖中資訊判斷，哪一條河川的上游地區欠缺完善的水土保持工程？ (A)甲 (B)乙 (C)丙 (D)丁。



《答案》A

277. () 由等高線地形圖轉繪成地形剖面圖的正確步驟為何？

- (A) 在剖面圖上點出截線上對應的高度 → 等高線上畫一截線 → 將座標點連成平滑曲線
- (B) 等高線上畫一截線 → 在剖面圖上點出截線上對應的高度 → 將座標點連成平滑曲線
- (C) 將座標點連成平滑曲線 → 等高線上畫一截線 → 在剖面圖上點出截線上對應的高度
- (D) 將座標點連成平滑曲線 → 在剖面圖上點出截線上對應的高度 → 等高線上畫一截線。

《答案》B

278. () 俗話說：「願賭服輸，欠債還錢。」這原是天經地義的事，但在我國，賭博輸錢的人可主張該法律行為無效；賭贏的人可能也無法經由法律途徑追討還錢。由此推測，賭輸的人最可能是基於下列何者而提出上述主張？ (A) 契約自由原則 (B) 誠實信用原則 (C) 不得違反公序良俗 (D) 並未訂立書面契約。

《答案》C

279. () 新冠肺炎疫情延燒，使佩琦經營的餐館面臨困境，在不得已的情況之下，她決定向銀行貸款，希望能暫時度過這段時間的危機。根據上文，下列敘述何者正確？ (A) 涉及《民法》的身分關係 (B) 佩琦是買受人，應依約還款 (C) 佩琦與銀行間應成立借貸契約 (D) 不涉及私人間的權利義務關係。

《答案》C

280. () 公民老師讓四位同學自由發表關於「違法」與「犯罪」的看法如下圖，請問誰的說法正確無誤？

(A)

·伶俐：

開車闖紅燈是犯罪行為。

(B)

·立翔：

違法的行為必然是犯罪行為。

(C)

·承彥：

犯罪的行為必然有違法。

(D)

·怡茹：

年輕人在捷運上占
用博愛座是違法的
行為。

《答案》C

281. () 以下是小華在準備報告資料時看到的報導——

海上平臺怒濤塔由一艘船和甲板改建而成，位於英國外海 6 哩，面積僅兩座網球場大，原是第二次世界大戰時的海上堡壘，後因戰爭結束被廢棄。英國前陸軍少校帕迪·貝茨(Paddy Roy Bates)於西元 1967 年占領此地並宣布獨立成「西蘭公國」(Principality of Sealand)，自封自己為公國的攝政王，原本他和家人居住於此，不過後來貝茨家族成員們就不再長住於此，僅派幾名全權代表的看守者留駐。其至今沒有獲得國際承認，所以貝茨家族的成員們只能以英國國民的身分進行國際旅行。

從上文敘述判斷，「西蘭公國」是一個國家嗎？ (A)是，充分具有國家構成的四個要素 (B)不是，政府是國家組成的唯一要素 (C)是，成員藉由統治權彰顯主權存在 (D)不是，政府權力無法等同國家主權。

《答案》D

詳解：國家擁有的是主權，政府僅擁有統治權，此兩項權力是不同的。

282. () 為健全長期照顧服務體系提供長期照顧服務，確保照顧及支持服務品質，發展普及、多元及可負擔之服務，保障接受服務者與照顧者之尊嚴及權益，特制定《長期照顧服務法》。上述文字說明了下列何種含義？ (A)政府須承擔一切照護人民的責任 (B)透過行政法落實人民權益保障 (C)藉由憲法來強化行政法的規定 (D)僅著重於保障照護者的尊嚴及權益。

《答案》B

283. () 以下是南美洲玻利維亞的第一位原住民總統的相關報導——

莫拉萊斯是南美洲玻利維亞的第一位原住民總統，曾經推動經濟起飛，以及重視原住民權益，獲得民眾愛戴。但他後來戀棧權力，想四度連任當萬年總統，不惜發動修憲公投，引發民眾投票反對；因此，他又動用最高法院，推翻此項公投結果，硬是參選第四任總統選舉，甚至在計票過程中造假舞弊來贏得勝選。最後，引起人民反感，全國爆發抗議，連軍人和警察也不力挺，他終於宣布辭職下臺。

從上述玻利維亞的反政府事件中，可以發現政府具有何種特性？ (A)政府是執行國家政策的機關 (B)政府僅是國家構成要素之一 (C)政府是短暫、可改變的組織 (D)政府相較國家管轄範圍較小。

《答案》C

詳解：政府的權力須經人民授權與同意，以人民利益為考量，才能獲得人民的支持。故政府是可改變的組織，會因選舉等事件而有更替的現象。

284. () 每年農曆年過後，新聞報導又出現請民眾節約用水的消息。附表為臺灣水庫水情資訊，請問：下列哪幾項敘述正確？ (甲)此一時期的降水類型主要受地形及風向影響 (乙)此表反映了北部區域的降水量大於南部區域 (丙)蓄水量高低主要受到該地區的用水量所影響 (丁)水庫蓄水量差異反映了降雨分布不均的現象 (戊)此表可說明北部區域每人平均可用的水較多 (A)甲乙丙 (B)乙丙丁 (C)丙丁戊 (D)甲乙丁。

名稱	水量(%)
翡翠水庫	83.2
德基水庫	44.5
日月潭水庫	82.7
曾文水庫	36.3

《答案》D

詳解：(丙)蓄水量高低主要受到該地區的「降水量」所影響。(戊)要判別每人平均可用水量，仍需各地區的總人數才可得知。

285. () 臺灣目前的重工業中心位於南部區域，下列哪一條河川因工業不當排放廢水，其水污染可能最為嚴重？ (A)高屏溪 (B)淡水河 (C)蘭陽溪 (D)大甲溪。

《答案》A

詳解：臺灣南部河川受降雨季節分布不平均影響，流量差異大，河川乾枯期易使污染物滯留河床。選項中，(A)位於南部，(B)(C)(D)位於北部。

286. () 在過去的社會，只有男性才能擁有選舉權利，女性則完全沒有參與政治的權利。直到十九世紀末期，紐西蘭成為世界上第一個全面性賦予女性投票權的國家，其他國家才陸續以法律規定性別平等的政治權利。國家基於性別因素限制人民的選舉權利，違反下列哪項選舉原則？ (A)普通 (B)平等 (C)直接 (D)無記名。

《答案》A

詳解：普通原則主要為不分性別、宗教、種族、階級、黨派等，皆有選舉權。

287. () 下列是公民老師發給學生的學習單。根據內容判斷，何人的作答最正確？

(A)

姓名：王大同

下列哪些屬於《憲法》

保障人民的受益權？

請勾選出來。

- 出國旅遊
- 受國民教育
- 向總統請願
- 申請災害救助
- 參加集會遊行
- 參與公民投票

(B)

姓名：李小明

下列哪些屬於《憲法》

保障人民的受益權？

請勾選出來。

- 出國旅遊
- 受國民教育
- 向總統請願
- 申請災害救助
- 參加集會遊行
- 參與公民投票

(C)

姓名：趙玲玲

下列哪些屬於《憲法》

保障人民的受益權？

請勾選出來。

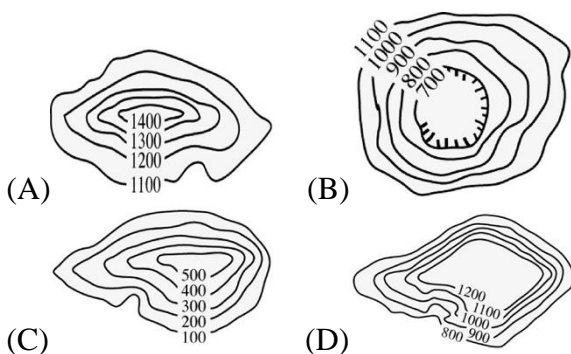
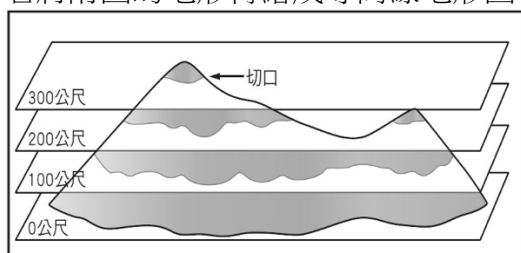
- 出國旅遊
- 受國民教育
- 向總統請願
- 申請災害救助
- 參加集會遊行
- 參與公民投票

(D)

姓名： 孫中慧
 下列哪些屬於《憲法》保障人民的受益權？請勾選出來。
 出國旅遊
 受國民教育
 向總統請願
 申請災害救助
 參加集會遊行
 參與公民投票

《答案》B

288. () 若將附圖的地形轉繪成等高線地形圖，其地形會與下列哪一幅等高線地形圖最相似？



《答案》C

詳解：圖為高度 300 公尺的丘陵。

289. () 文林苑都市更新爭議事件，始於王家不同意其擁有的兩塊土地和建物，被劃入政府核定的都市更新範圍。王家為此提出訴願但被駁回，後來再向行政法院提出訴訟，卻仍被判決敗訴，因此與其他都更社區不同意戶共同聲請釋憲，大法官做出以下解釋——

1. 現行規定，所有權人同意比率太低，難與尊重多數的民主精神相符。
2. 應由主管機關以公開方式舉辦聽證會，聽取全部意見後，做成核定。

針對此項爭議事件涉及基本權利的分析，下列何者正確？ (A) 爭議起因於王家爭取並維護自身的財產權 (B) 王家向政府爭取權利是人民自由權的展現 (C) 大法官解釋第 1 項在維護所有權人的參政權 (D) 大法官解釋第 2 項在落實居民間的實質平等。

《答案》A

290. () 公民老師請同學們發表有關「地方自治」優點的看法。下列何人的觀點錯誤？

(A)



地方自治是主權在民的根本，可以確保地方的主體性與自主性。

(B)

人民依法組織地方政府，自行管理地方上的公共事務，可培養民主法治素養。



(C)



地方政府擁有完全自主的職權，不需中央政府的監督，使得地方自治能發揮最大的效用，提升國家的發展。

(D)

地方自治可使政策更貼近地方人民需求，也是檢驗政府效能的重要機制。



《答案》C

291. () 當刑事案件發生後，人們經常根據媒體的報導，猜測凶手並予以撻伐。律師提醒，民眾若(甲)發現犯罪事實，應採取法律途徑處理，(乙)勿過於揭露案情。在檢方進行(丙)搜索羈押後，會將(丁)證據不足的嫌犯釋放。下列相關說明何者有誤？ (A)甲：可進行告發 (B)乙：是指應獨立審判 (C)丙：須事先由法院開立押票 (D)丁：做出不起訴處分。

《答案》B

292. () 鹿野高臺作為臺灣第一個熱氣球嘉年華的舉辦場地，每年都吸引了大量的遊客造訪。事實上，熱氣球的飛行限制非常多，並不是一年四季都能舉辦相關活動。夢想到臺東參加熱氣球嘉年華的小君，將熱氣球的飛行限制整理如附表，但她卻遺漏了最重要的時間，請依照「天氣」、「溫度」、「能見度」、「風速」來推測，熱氣球最適合施放的時間是在哪一個季節、以及一天之中的何時呢？ (A)冬初早春，早上 (B)夏初早秋，中午 (C)冬初早春，中午 (D)夏初早秋，早上。

熱氣球飛行限制	
天氣	下雨、起霧、打雷，需停飛
溫度	不得超過攝氏 35 度
能見度	大於 1.5 公里
風速	需低於 7 節(約每小時 13 公里)
時間	???

《答案》D

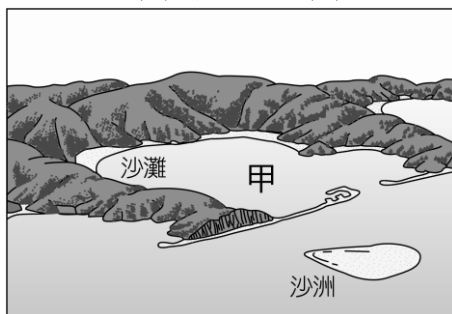
詳解：冬、春時東部迎東北季風易有雨且風速較強，不適合施放；夏初早秋為適合施放的季節，但溫度過高不宜施放，故選擇(D)。

293. () 某份研究報告記載：「為了預防○○，在容易發生○○的河段架設鋼索檢知器。當鋼索因○○的衝擊力而斷裂時，系統會自動發出鋼索斷裂的通知訊息。」請問：上述所說的環境問題，最可能為下列何者？ (A)土石流 (B)土壤汙染 (C)海岸侵蝕 (D)地層下陷。

《答案》A

詳解：鋼索檢知器可偵測土石流的衝擊力；當土石流發生時，土石流先端部即會衝擊檢知器連結鋼索，使鋼索因衝擊力而斷裂，進而記錄檢知器發生土石流發生之訊息。

294. () 依地理位置判斷，臺灣的哪一個港口最可能是利用附圖中「甲」的地形興建而成？ (A)基隆港 (B)蘇澳港 (C)高雄港 (D)花蓮港。



《答案》C

詳解：高雄港位於臺灣西部海岸。

295. () 農業廣義上來說指的是種植業、林業、畜牧業、漁業的總稱。近年來，政府與民間為提振傳統產業，致力產業加工與轉型，並加強扶植農業，以提升產業發展。請問：下列何項和農業轉型為智慧農業有關？ (A)無人機與智慧農業應用研討會 (B)農業物流區塊鏈平臺 (C)神經網路加速機器學習預測植物生長模式 (D)以上皆是。

《答案》D

詳解：以上方式都是以科技幫助農業生產。

296. () 龜山島為臺灣周邊島嶼，地勢陡峭，小康參加環島行程，過程中可以看見哪一種地理景觀？ (A)珊瑚礁洞穴 (B)濱海壯觀的鹽田 (C)玄武岩柱岩 (D)溫泉與硫氣孔。

《答案》D

詳解：龜山島為火山島，可以看到火山活動的地理景觀，如溫泉與硫氣孔。

297. () 下列對於經濟海域的描述，何者錯誤？ (A)由海岸線向外延伸 200 公里的海域 (B)其漁業、礦業資源可供開發利用 (C)兩國經濟海域有重疊時，常透過協議等方式劃分海域 (D)臺灣與菲律賓、日本經濟海域高度重疊，常有漁事糾紛。

《答案》A

詳解：應為 200「浬」而非公里。

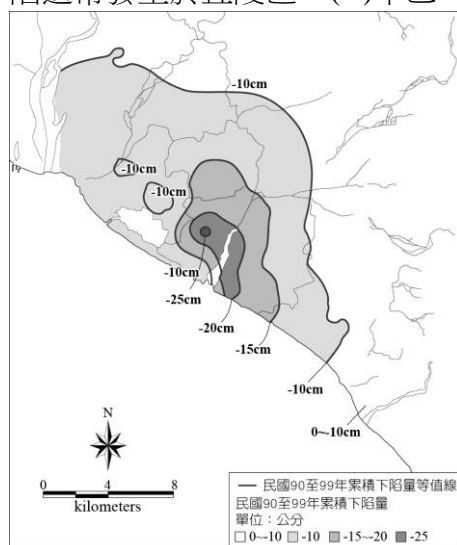
298. () 小風在捷運上看到一則新北市政府交通局的公告：

自即日起，搭乘本市市區公車請全程配戴口罩，未配戴口罩者得拒載，勸導不聽者依《傳染病防治法》第70條規定，最高處罰1萬5,000元。若有其他滋擾妨礙秩序之虞，依據《社會秩序維護法》送辦。

針對公告內容，下列何者說明正確？ (A)被罰款者是因為違反《刑法》 (B)新北市政府是中央政府 (C)《傳染病防治法》屬於行政法 (D)文中提到的兩種法規法律位階不同。

《答案》C

299. () 附圖為屏東地層下陷累積量等高線圖，請根據附圖判斷關於屏東地區地層下陷之敘述，下列何者正確？ (甲)沿海地區地層下陷的程度比內陸地區嚴重 (乙)淡水養殖漁業是造成當地地層下陷的主因 (丙)河川水質汙染將使得地層下陷的區域持續擴大 (丁)地層下陷通常發生於丘陵區 (A)甲乙 (B)乙丙 (C)丙丁 (D)甲丁。



《答案》A

詳解：(丙)河川水質汙染並不會使地層下陷區域擴大，但會導致地下水遭受汙染而影響生態、減少可用水資源；(丁)地層下陷常見於沿海平原區。

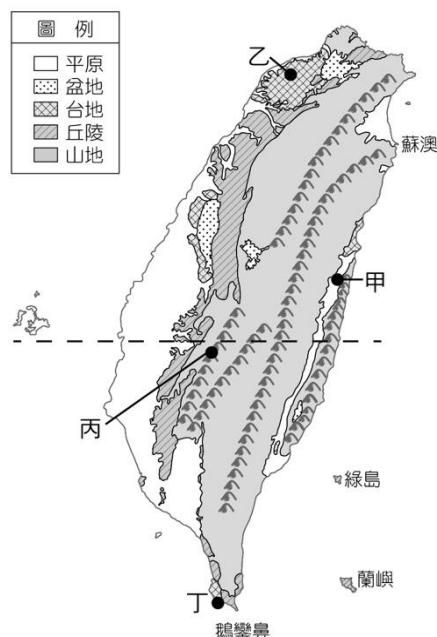
300. () 部分中醫診所發生違法開立硃砂等禁藥一事，衛生局依違反《醫師法》(甲)裁罰10萬元，針對醫師未詳細記載配置用藥內容於病歷，(乙)依違反《醫師法》裁罰2萬元，並停止門診業務一個月。衛福部中醫藥司(丙)要求各縣市衛生局限期清查轄內中醫診所、中藥房等，另與環保署毒物及化學物質局合作，(丁)對列管化學物質進行流向管理。有關上述政府處理方式，下列說明何者並不恰當？(A)甲：是違反行政法處以的罰鍰 (B)乙：藉由處罰限制政府權力的侵害 (C)丙：透過命令的形式來排除危害的行為 (D)丁：對違規者是處罰，對民眾是種保障。

《答案》B

301. () 阿仁想要看看臺灣真實的面貌，正在挑戰徒步環島中，請根據附表資料判斷阿仁目前位

於附圖中的何處？ (A)甲 (B)乙 (C)丙 (D)丁。

日期	民國 109 年 5 月 25 日
時間	12:00
高度	1,365 公尺
說明	現在太陽正在我頭頂上方，讓我的影子呈現一個點，但氣溫還算涼爽舒適。



《答案》C

詳解：判斷有二：一是接近夏至的正午 12 點，太陽幾乎直射北回歸線，因此「太陽在頭頂上方」；二是因為地勢為超過 1,000 公尺的山地地形，因此「氣溫還算涼爽」。

302. () 民主國家為了避免政府的權力太大，侵犯到人民的權利，政府的組織與職權的設計都以「分權制衡」的概念為基礎。下列何項敘述即顯示出上述概念？ (A) 行政院為我國最高行政機關 (B) 立法委員是由人民選舉產生 (C) 司法院設置大法官與各級法院 (D) 立法院對總統提名的官員行使同意權。

《答案》D

詳解：(A) 為行政院的設置。(B) 為立法委員的產生方式。(C) 為司法院組織。(D) 有提到總統、立法院之間的權力行使與制衡關係，所以較符合題意。

303. () 最能夠顯示地表高低起伏的地圖為地形剖面圖。以下為小芳整理的地形剖面圖繪製步驟，請問：哪一個步驟需要修正？(甲) 在等高線圖上畫一剖面線 (乙) 在剖面線下方繪製一個垂直軸為距離，水平軸為高度的高度表 (丙) 記錄剖面線通過等高線上各交會點的高度值，並將數值標示在下方高度表 (丁) 將這些標點連成一條平滑曲線 (A) 甲 (B) 乙 (C) 丙 (D) 丁。

《答案》B

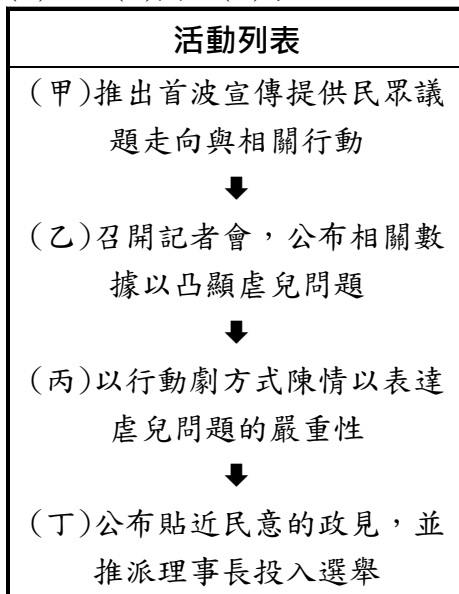
詳解：高度表的垂直軸為高度，水平軸為距離。

304. () 臺灣鄰近的哪一座島群因擁有世界級的珊瑚生態，因而被政府提報申請為「世界文化遺產」，並在當地設立臺灣第七座國家公園？ (A) 龜山島 (B) 馬祖列嶼 (C) 綠島 (D) 東沙島。

《答案》D

詳解：東沙島是一珊瑚環礁，民國 96 年成立東沙島環礁國家公園，也是臺灣第一座海洋國家公園。(A)、(C) 為火山島。(B) 為大陸島。

305. () 隨著社會及環境變遷，發生多起因照顧疏失而導致孩童被悶死、受傷，或是一連串的虐兒事件，相關民間團體擬採取下表的活動來吸引社會關注，促使能再次修正《兒童及少年福利與權益保障法》。在表中出現一筆被誤植的資料，請挑出是哪一個項目？ (A)甲 (B)乙 (C)丙 (D)丁。



《答案》D

詳解：(丁)提出政見參選非利益團體採取的方式。

306. () 下列何者不可能是一位生活在民國三十年代臺灣的民眾所經歷的事？ (A)在第二次世界大戰期間遭敵軍轟炸，僥倖大難不死 (B)為避免受二二八事件波及而逃到鄉下 (C)投票選舉首任民選的縣長 (D)在美麗島事件中遭到牽連而被逮捕。

《答案》D

307. () 以下是公民老師出的一道挑戰題，想要測驗班上同學的複習程度，內容如下：
 「政府依據《中華民國憲法》第 158 條的規定，(甲)由司法院三讀通過《國民教育法》，經總統公布後施行全國，(乙)考試院為了執行相關政策，依法訂定《國民教育法施行細則》，作為實施的依據。由此可知，(丙)憲法只就國家根本事項作原則性規定；而(丁)行政機關訂定的命令，並不具強制性。」
 文中有三個陷阱一個正解，請找出正確者為何？ (A)甲 (B)乙 (C)丙 (D)丁。

《答案》C

詳解：(甲)應是立法院三讀通過。(乙)國民教育政策由行政院負責執行，考試院負責掌理公務人員與專門職業技術人員的國家考試，以及公務人員的銓敘、退休等事宜。(丁)命令屬於廣義的法律，亦具有強制性。

308. () 喬姆斯基在《失敗的國家：濫用權力與侵犯民主》一書中指出，失敗的國家就是「政府無能或不願保護人民免於暴力甚或滅亡」，並「無視於國內或國際法規存在」的國家。這些國家雖然具備民主政體，卻有嚴重的「民主逆差」，民主制度有名無實，宛若空殼。文中國家「無視於國內或國際法規的存在」，顯示其未能遵守下列哪項法治觀念？ (A)重視人治精神 (B)政府依法行政 (C)強調主權在民 (D)人民遵守法律。

《答案》B

309. () 臺中市夜店發生大火，市長表示行政機關確有疏漏，未克盡職責；議員質詢時，要求一定要查明真相、嚴懲失職的官員。下列關於臺中市行政機關與立法機關的敘述，何者正確？ (A)行政機關為臺中市公所 (B)市議會負責監督行政機關的施政 (C)消防救災屬地方的經濟發展事務 (D)議員可對失職的官員提出彈劾案。

《答案》B

詳解：(A)臺中市政府。(C)屬安全衛生工作。(D)彈劾權屬於中央政府的權限。

310. () 收看氣象報告時，氣象主播經常會引用一些諺語。請問：下列諺語中，哪一句話所指的

是「對流雨」所產生的現象？ (A)西北雨落不過田埂 (B)立春落雨到清明 (C)春濛曝死鬼，夏濛作大水 (D)未吃五月粽，破裘不敢放。

《答案》A

詳解：對流雨的特點是雨時短、雨區小、強度大。

311. () 美國籍人士李察今年 40 歲，已經在臺北市居住 5 年，目前擔任某中學的英語教師。若現在要舉行臺北市市長選舉，李察是否具有投票權？ (A)有，因為他已經年滿 20 歲 (B)有，因為他已經在選舉區居住 4 個月以上 (C)沒有，因為他沒有中華民國國籍 (D)沒有，因為他在我國的地位不平等。

《答案》C

312. () 某男子與太太吵架，為洩憤而犯下震驚社會的隨機殺人案件，遭檢察官求處死刑。然該男子的辯護律師卻聲稱其患有精神疾病，請法官酌情考量判刑。請問：律師這樣說的原因最有可能為下列何者？ (A)精神病患得以教育矯治代替處罰 (B)在我國身心障礙者可以獲得減刑 (C)在我國身心障礙者得在醫院服刑 (D)被告的精神狀況會影響責任能力的判定。

《答案》D

詳解：我國《刑法》是以年齡、生理和心智狀態作為區分責任能力的標準，因此犯罪行為時因精神障礙、心智缺陷，以致不能或減低辨識其行為是否違法者，可能可以得到減刑，故答案選擇(D)。(A)、(B)不一定，需視其責任能力而定；(C)我國法律無此規定。

313. () 行政院統計，中央政府機關民國 108 年共審議 9,290 件訴願案，其中僅 724 件撤銷原處分，其餘超過 92% 都是駁回訴願請求。部分當事人不服訴願結果，繼續提起行政訴訟，108 年與 109 年法院選擇撤銷行政處分與原訴願決定的比例約為 8% 至 10%。下列相關敘述何者正確？ (A)訴願是透過司法院來更正不當的行政行為 (B)在我國大部分的訴願結果均讓民眾感到滿意 (C)行政訴訟是透過司法機關更正不法行政行為 (D)在我國大部分的行政訴訟結果讓民眾感到滿意。

《答案》C

詳解：行政訴訟是透過司法機關以更正不法行政行為。(A)訴願是透過行政機關內部來更正不當行政行為；(B)、(D)由題文資料統計顯示，大部分的訴願、行政訴訟結果不符合民眾期待(撤銷或變更原處分)。

314. () 學者陳之藩曾說：「民主不是一群會投票的驢。」其旨在說明民主政治的意義，並不只是盲目的投票，或被人驅使利用而投票；若缺乏人文修養的投票，則和驢沒有什麼分別。根據上述內容判斷，此句話對於「政治參與」有何意義？ (A)政治參與只限於選舉投票 (B)選舉投票是最重要且唯一的政治參與方式 (C)政治參與可從關心政治問題開始做起 (D)選舉投票對於人民的政治參與沒有任何幫助。

《答案》C

315. () 西元 2019 年 4 月，北非國家蘇丹傳出軍事政變，執政長達 30 年的巴席爾(Omar al-Bashir)在軍隊包圍總統府的狀況下，宣布請辭。這起政變後，蘇丹轉由軍政府暫時接管。上述事件代表下列何種意義？ (A)國家更換對內的主權 (B)人民授權更換新政府 (C)國家滅亡而主權消失 (D)政府的統治組織變更。

《答案》D

詳解：政府組織可能因革命或選舉而產生更替，這是指政府的統治組織變更，不代表主權變更或消失。

316. () 西元 2014 年桃園市觀音海邊設立藻礁群野生動物保護區，近期因政府拋出觀塘天然氣接收站環評過關，讓長期備受到關注的藻礁環保議題引發熱議。環保團體控訴，藻礁保育應求完整範圍，不認為官方提出的方案能完全迴避影響生態。下圖為各方的意見陳述：

- ★甲民眾表示，追求國家建設，談論藻礁似乎沒有太大意義。
- ★乙住戶說，我們為什麼那麼自私只為這一代的人想，做好環境保育才能把藻礁保存留給後代子孫欣賞啊！
- ★丙政黨人士也表示，這幾年地方居民意見和立場不斷在改變，政府應慎重考量政策的制訂與執行。

由上述各方意見，可以看出公共意見的哪些特性？ (A)甲 (B)乙 (C)丙 (D)丁。

特性	議題性	複雜性	影響性	變動性
(甲)	✓	✓	✓	✓
(乙)		✓	✓	✓
(丙)	✓		✓	✓
(丁)	✓	✓		✓

《答案》D

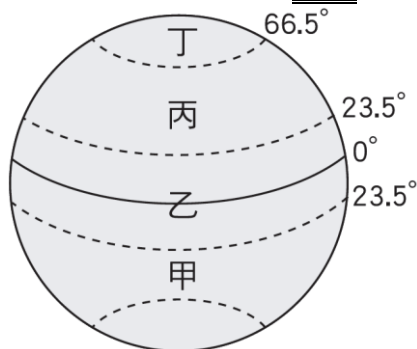
詳解：文中指出藻礁的環保議題受到關注是因為政府拋出的相關政策而起，並非為公共意見影響到政策的制訂與推動，所以不具有影響性。

317. () 烏來區是新北市面積最大的行政區，依照《地方制度法》，烏來區是直轄市山地原住民區，為地方自治團體，與新北市的其他市轄區的性質並不相同。下列有關「直轄市山地原住民區」與「直轄市下轄區」的比較，何者正確？ (A)其他市轄區為新北市政府的派出單位 (B)兩者皆設置了區民代表會 (C)兩者的區長皆由民選產生 (D)前者並無行政機關，後者則有。

《答案》A

詳解：(B)只有烏來區有設置區民代表會；(C)只有烏來區的區長由民選產生；(D)兩者皆設有區公所，只是烏來區區長由民選產生。

318. () 水循環的過程中，會因為地理環境不同而改變。請問：附圖中的哪一個地區難以發生水循環，是降水及蒸發最少的地方？ (A)甲 (B)乙 (C)丙 (D)丁。




《答案》D

詳解：丁的緯度最高，溫度最低，屬於終年低溫的寒帶地區，受到熱量少，蒸發微弱的影響，因此幾乎很少進行水循環的過程。

319. () 小宣打算與同學騎摩托車從新竹南下到苗栗遊玩。請根據臺灣的海岸特色與方位判斷，

其沿途最常見到的海陸景觀為下列何者？



《答案》A

詳解：新竹南下到苗栗，海洋在右側，所見景觀應為臺灣西部的沙岸地形，故選(A)。

320. () 家住在屏東恆春的漢文，想要開闢住家附近臨海的荒地，投資適合的產業。請問：他應該從事何種產業，才能適應當地環境，較容易投資成功？
(A)開設潛水公司 (B)發展養殖魚塢 (C)種植茶樹果樹 (D)開闢鹽田晒鹽。

《答案》A

詳解：恆春沿海為珊瑚礁海岸，不適宜開發為農地及魚塢鹽田，但擁有豐富生態，故開發成為潛水公司較適宜。

321. () 臺灣山坡地幅員較廣，農業部農村發展及水土保持署(原水土保持局)為了防止土地違法開發，提高衛星監測通報頻率，由兩個月一次提增至每月一次，藉此增加水土保持管理效率。請問：上述政策的轉變主要和衛星影像的哪一種特性最為相關？ (A)偵測位置高，涵蓋範圍廣 (B)信息資料數位化，方便處理 (C)資訊的獲得不受天氣變化影響 (D)更新快速且可比對不同時期資料。

《答案》D

詳解：透過衛星監測的快速更新以及前後比對，才能即時防止違法開發。

322. () 熱愛登山的小明預定在2月初前往玉山登山，為了避免意外的發生，出發前他準備了一隻具備氣壓計功能的登山錶，就在他正前往玉山南峰的路上，他的登山錶突然發出氣壓急速下降的警示。請問：上述代表小明接下來可能會遇到什麼狀況？ (甲)溫度可能變化 (乙)風力將會加強 (丙)高度急遽升高 (丁)可能將會降水 (戊)天氣趨向穩定 (A)甲乙丙 (B)甲乙丁 (C)乙丙戊 (D)甲丙戊。

《答案》B

詳解：一般登山速度不會發生急遽升高之情況；而氣壓下降應使天氣趨於不穩定，故正確的選項為(甲)、(乙)、(丁)。

323. () 在民主國家，憲法是「萬法之母」，是國家的根本大法。下列關於憲法特性的敘述，何者正確？ (A)憲法的修改程序較法律嚴格，主要是因為憲法具有最高性 (B)憲法條文通常簡明扼要，至於國家政策的擬定與執行，則由總統加以落實，這是因為憲法具有原則性 (C)法律和命令如果牴觸憲法，則法律和命令無效，因為憲法具有最高性 (D)憲法是國家及人民行為的最高準則，絕對不可以修改，所以憲法具有穩定性。

《答案》C

324. () 「這片海域介於沙洲跟陸地之間，是早期居民從事海上活動的重要據點，有『台江內海』之稱。」上文描述的是下列哪一個地形？ (A)岬角 (B)灣澳 (C)潟湖 (D)珊瑚礁。

《答案》C

詳解：台江內海即為潟湖。

325. () 中華郵政公司為介紹臺灣第一座海洋國家公園之美，發行郵票1套4枚，圖案取自福衛五號衛星拍攝的照片。中華郵政指出，該景點離高雄市西南方約450公里，面積約500平方公里，為造礁珊瑚歷經千萬年建構而成，橫帶唇魚為其常見的隆頭魚科魚類，又名東沙蘇眉。請問：該國家公園應該位於哪一個水域？ (A)臺灣海峽 (B)東海 (C)南海

(D)太平洋。

《答案》C

詳解：文中提及「臺灣第一座海洋國家公園」、「高雄市西南方」等，可推知意指位於南海水域的東沙環礁國家公園。

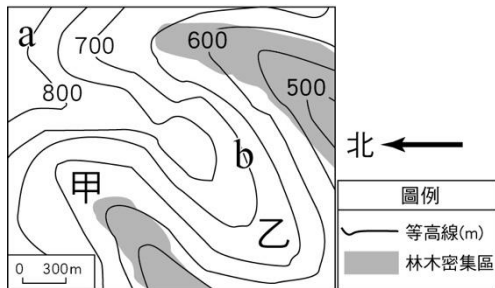
326. () 「訴願」與「行政訴訟」是兩種與人民權益相關的救濟程序，以下關於這兩者的敘述何者正確？ (A)「訴願」是人民伸張權益的途徑，「行政訴訟」是政府處分人民的方式 (B)人民欲提起「訴願」之前，必須經過「行政訴訟」的程序 (C)任何法院皆可受理人民提出的行政訴訟案 (D)訴願的目的，在於請求政府撤銷或變更原有的行政處分。

《答案》D

327. () 張斐因金錢糾紛殺害他人，如果之後與受害者家屬達成賠償金額的協議，他是否還會被起訴？ (A)會，因為不能免除其刑事責任 (B)會，因為這是屬於告訴乃論的案件 (C)不會，因為張斐已經對死者家屬做出賠償 (D)不會，因為死者家屬沒有對張斐提出訴訟。

《答案》A

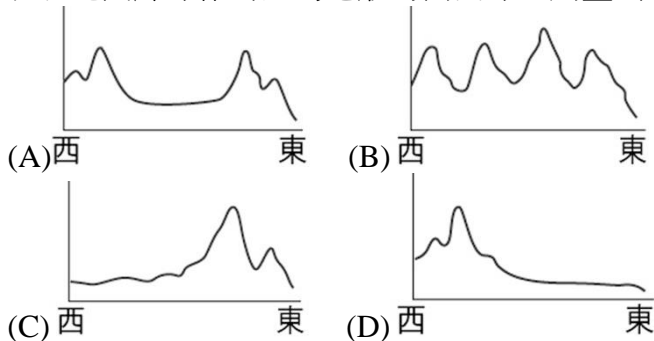
328. () 林木的生長與土壤、水分條件息息相關，故其常常集中分布在河水豐沛的谷地。附圖為某區域的林木密集區示意圖，根據圖中資訊判斷，下列描述何者正確？ (A)等高線數值 $a < b$ (B)若甲、乙為聚落，則乙地聚落取水比甲地方便 (C)該區的河川大多往東北方流去 (D)甲地的平均高度比乙地來得低。



《答案》D

詳解：圖中林木密集區等高線發生彎曲，可以判斷林木密集區可能位於河谷或山脊，而林木的生長與水分條件息息相關，可推知林木密集區為河谷，等高線尖端朝向地勢較高處，所以該區域左邊(北邊)較高。

329. () 若以北回歸線作為臺灣地形的剖面線，則畫出來的地形剖面圖，最接近下列哪一幅圖？



《答案》C

詳解：臺灣地勢東高西低，北回歸線通過東部花東縱谷，兩旁則是中央山脈和海岸山脈。

330. () 身為現代公民，應該對權利意識和法律知識有所了解，下列哪一個人的說法最為適當？ (A)小康 (B)小許 (C)小簡 (D)小方。

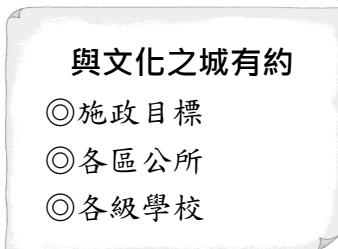
人物	說 法
小康	法律相關事情交給律師處理就好，我們不需要了解。
小許	採取自力救濟的手段比訴諸法律更能保障個人權利。
小簡	對法律有多一點了解，就能適時透過法律保障自身權益。
小方	個人權利要獲得保障，必須先與法官建立良好的關係。

《答案》C

331. () 老陳侵入鄰居家行竊，被鄰居發現，報警處理。老陳想透過和解來處理此項衝突，下列相關敘述，何者正確？ (A)老陳和鄰居可採訴訟上和解的方式 (B)須由鄰居提出告訴，國家才會追究老陳的犯罪 (C)竊盜罪屬非告訴乃論的刑事案件，不適用和解 (D)鄰居可聲請調解。

《答案》C

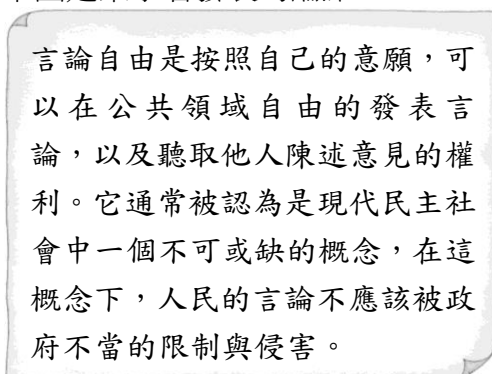
332. () 小丸子上網搜尋到以下某政府機關的網站：



根據內容判斷，該網站最有可能是下列哪一個政府組織？ (A)行政院 (B)金門縣政府 (C)臺北市議會 (D)基隆市政府。

《答案》D

333. () 下圖是某學者發表的論點：



由上述內容判斷，它在強調哪一方面的國家功能？ (A)保障基本人權 (B)維持社會秩序 (C)保衛國家安全 (D)發展社會福利。

《答案》A

詳解：國家必須制定各種法律、設置各種機構，並依法行政，以確保人民的各項基本權利不受國家本身或他人的非法侵害。

334. () 如果以海岸性質與形成作用力來判斷，則臺灣西部的海岸類型應屬於下列何者？ (A)岩岸、侵蝕 (B)岩岸、堆積 (C)沙岸、侵蝕 (D)沙岸、堆積。

《答案》D

詳解：由海水、河流堆積作用形成的沙質海岸，稱為沙岸。

335. () 新聞報導：「受到莫拉克颱風重創的南橫公路，歷經 13 年工程，無數開路英雄的血汗，跨越玉山、中央山脈，打通 15 個明隧道、23 座橋梁，終於完成這個『不可能的任務』！」請問：下列關於此種現象成因之討論，何者正確？ (A)小智：因為東部人口稀少，興建東西向高速公路不符合經濟成本，所以沒有蓋 (B)因為地震多，中部地質破碎形成許多活火山，開發不易 (C)因為南北向的中央山脈縱貫臺灣，使得開發困難 (D)因為臺灣河流多東西向，可以直接用河運方式取代高速公路。

《答案》C

詳解：中央山脈南北縱貫、高聳陡峭，增加橫貫公路的開發難度。

336. () 由於臺灣工業急速發展，造成農村凋敝、都市問題叢生，民國六十年代時，有不少本土作家因而開始關注農民、勞工等基層人民的遭遇。此種情況，除了經濟發展所造成，臺灣還面臨了什麼樣的問題？ (A)政府播遷來臺，人口增加過快 (B)退出聯合國，外交面臨空前危機 (C)開放大陸探親，相關問題接踵而來 (D)中華人民共和國炮擊金門，國安告急。

《答案》B

詳解：這時臺灣面臨內政、外交上的困境。(A)民國 38 年。(C)民國 76 年以後。(D)民國 47 年。

337. () 家族聚餐時，仁希和親戚聊起在西元 2022 年辦理的九合一地方公職人員選舉，他發現住在臺中市的舅舅、新竹市的阿姨、臺北市的外公等，恰好都領到相同張數的選票，只有表哥不一樣。根據上述，表哥最可能是在下列哪一個城市投票？ (A)苗栗市 (B)臺南市 (C)基隆市 (D)嘉義市。

《答案》A

詳解：因為分屬不同地方層級，除了直轄市山地原住民區，直轄市及新竹、嘉義、基隆三市僅選市長、市議員及里長，苗栗市居民則選苗栗縣縣長、縣議員、苗栗市市長、市民代表及里長。

338. () 澎湖用水量約為每日 3 萬噸，由於水資源受到地形及氣候特性限制，供水來源以海水淡化占約 50% 為主，其次為地下水及水井淡化、水庫。《澎湖紀略》一書中就記載了澎湖地區的用水狀況。請問：下列所記載的澎湖地區用水狀況，何者分析錯誤？ (A)「澎之人其需井而飲也，較諸他郡為獨亟焉」代表澎湖雨量稀少、蒸發散量大，因此水資源匱乏，需鑽井取水 (B)「然鑿井於澎，則更有難焉者。或地中多石……；或地脈無泉……」代表澎湖地層岩石較硬，造成鑽井困難，且較硬的岩層會阻止河水入滲形成地下水 (C)「澎湖一十三澳，澳各有井，未免俱帶鹵氣，水味略鹹」代表澎湖自古以來就有抽取海水進行海水淡化的風俗習慣，水味偏鹹 (D)「但亢旱則乾涸，婦女徹夜守井取水，截竹筩以汲之，嗷嗷渴待」代表旱季來臨時，地下水位會隨之下降，井中難以取水。

《答案》C

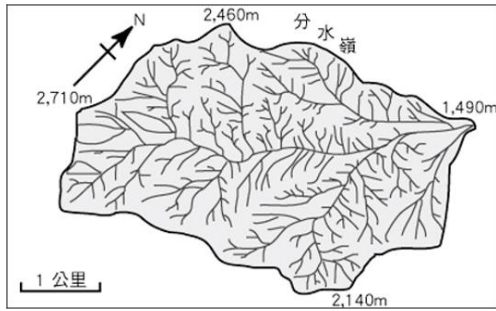
詳解：原文說明澎湖自古以來就有鑽井取水的習慣，而水位偏鹹可能是地下水層受海水入侵或過度使用地下水所造成，並非刻意抽取海水進行淡化。

339. () 冬季季風由陸地吹向海洋，主要是由於海陸氣壓系統產生下列哪一種變化？ (A)海洋溫度較高，氣壓高 (B)陸地溫度較低，氣壓高 (C)陸地溫度較高，氣壓低 (D)海洋溫度較低，氣壓低。

《答案》B

詳解：兩地氣壓不同，空氣會由氣壓高處往氣壓地處流動。冬季季風由陸地吹向海洋，表示陸地溫度較低，冷空氣下沉，氣壓較高。

340. () 附圖為一河川流域示意圖，請依圖中所提供的資料判斷，該河川的下游地區會在圖中哪一個方位？ (A)東北方 (B)東南方 (C)西北方 (D)西南方。



《答案》A

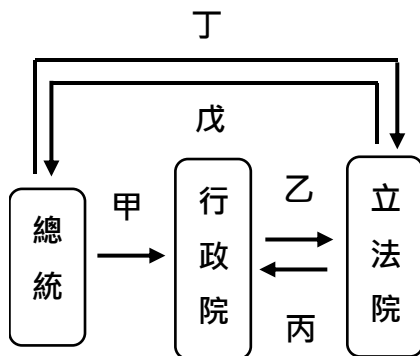
詳解：該河川的主流方向是西南向東北流，故下游地區會在東北方。

341. () 下列選項中的何種行為，可能會被行政主管機關依法處以行政罰？ (A)甲乙丙丁 (B)甲丙丁戊 (C)乙丙丁戊 (D)甲乙丁戊。

選項	行為
(甲)	劉先生在公共場所吞雲吐霧，造成周遭民眾的困擾。
(乙)	王小姐開車行經行人穿越道時，未禮讓行人通行。
(丙)	張先生與李先生兩人大打出手，導致雙方都身受重傷。
(丁)	張小弟的父親遲遲不讓他接受國小義務教育課程。
(戊)	為了減少財產的損失，曹小姐決定今年不履行繳稅義務。

《答案》D

342. () 阿忠上完公民課後，發現總統、行政院與立法院間的互動關係密切，因此他將重點整理成複習筆記，如下圖所示。針對各項箭頭處的行為，下列推論何者並不適當？ (A)甲是任命該院院長，戊是針對甲行使的人事同意權 (B)乙是該院去進行施政報告，丙是制衡此院的質詢權 (C)丙是提出不信任案，丁是針對此案通過後的解散權 (D)乙是該院彙編預算案，丙是針對此案進行的審查權。



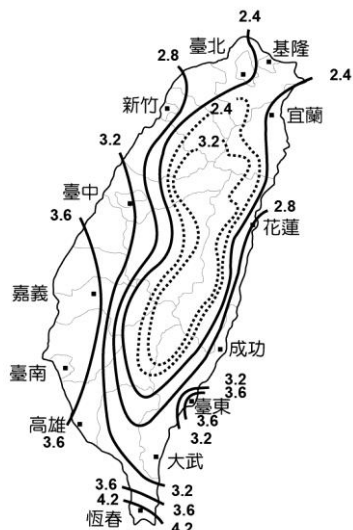
《答案》A

詳解：甲是總統任命行政院院長，但不須經立法院同意，立法院行使同意權是針對總統提出的司法院、考試院、監察院等官員。

343. () 太陽能發電受氣候、晝夜等因素影響較大，因此呈現各地日射量分布不均的狀況。附表為各地區不同季節平均日射量，附圖則為臺灣年平均日射量分布圖，請問：下列敘述何者正確？ (甲)西北季風使北部地區冬季日射量大幅下降 (乙)各季節平均日射量排序為夏>秋>春>冬 (丙)臺灣年平均日射量最少的地方可能為基隆 (丁)臺灣年平均日射量

最高的地區可能為恆春 (A)甲乙 (B)乙丙 (C)丙丁 (D)甲丁。

月分	3~5	6~8	9~11	12~2
北部	2.6	4.0	2.6	1.5
中部	3.2	3.7	2.9	2.3
南部	4.2	4.3	3.7	3.0
東部	3.3	4.7	3.2	2.1



《答案》C

詳解：(甲)應更正為「東北季風」會使北部地區冬季日射量大幅下降。(乙)各季節平均日射量排序為「夏>春>秋>冬」。

344. () 佳欣在課外讀物上看到附圖的一段文字：

清兵進占北京之前，為了易於辨識順逆，便強迫被征服或投效的漢人剃髮，西元 1636 年，統治者皇太極明令：「凡漢人官民男女，穿戴要全照滿洲式樣……有效他國衣冠、束髮、裹足者，重治其罪。」

請根據內容判斷，有關當時的社會制度規範，下列敘述何者正確？ (A)屬於「人治社會」，統治者的權力行使須遵守法律 (B)屬於「人治社會」，法律是統治者控制人民的工具 (C)屬於「法治社會」，統治者受法律約束須依法行政 (D)屬於「法治社會」，法律的目的是保障人民的權利。

《答案》B

詳解：文中提到滿清統治者規定人民要剃髮且穿戴都要服從規範，不符規定者即治罪，屬於人治社會，此社會的法律是用以控制人民。

345. () 紗夏在考前想為「政府與人民在行政法的角色」這一單元整理讀書筆記，請依我國狀況與法律規定判斷，下列敘述何者最適宜寫到筆記當中？ (A)行政法泛指許多規範行政權如何行使的法律，並非單一法典的名稱 (B)行政法是一部講述政府公權力如何運作與執行勤務的法典 (C)行政法的特性具有固定性，因此修改及擴充均有相當難度 (D)行政法可以確保政府的統治權力，同時穩固執政權與國家安全。

《答案》A

詳解：行政法泛指許多規範行政權如何行使的法律，包含《社會秩序維護法》、《所得稅法》等，並非單一法典的名稱。(B)行政法並非單指一部法典；(C)為憲法的特色；(D)應是規範政府的統治

權力，約束政府依法行政，避免侵害人民權利。

346. () 倒風內海位於古代的曾文溪和急水溪之間，台江內海的北方，範圍大致包括現在臺南市的麻豆、學甲、北門、下營、鹽水區。原來內海的位置現今已成平原，原先的河港轉變成鄉村集散中心，僅餘北門潟湖為其殘跡。請問：此處數百年來的景觀轉變和下列何者最有關聯？ (A)灣岬相間 (B)河川堆積 (C)板塊擠壓 (D)海面上升。

《答案》B

詳解：臺灣西南沙岸由於河川帶來大量泥沙堆積，海岸線不斷前進，以至於陸化。

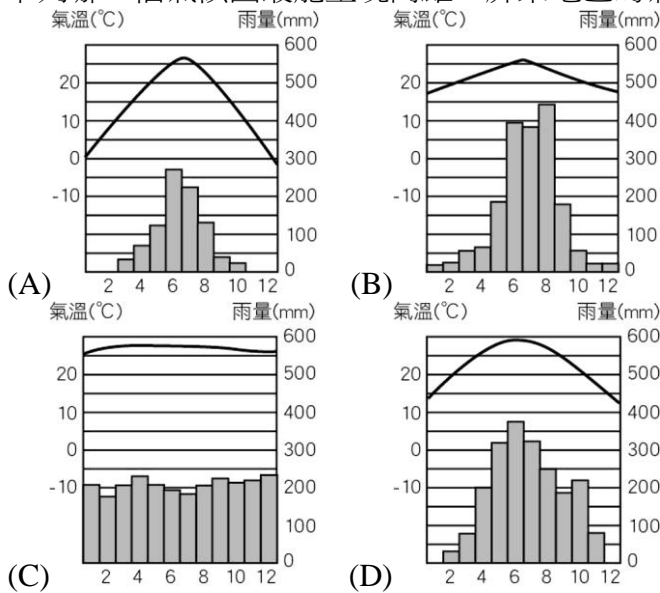
347. () 附圖為一則地方新聞報導：

某工會依法申請罷工抗議，爭取資方積欠的薪資、退休金與資遣費。參與罷工的員工企圖阻止資方將產品、設備運出廠外，地檢署認為此項行為已違法，因此警方強制驅散工會成員，造成多人受傷，有民眾認為警方執法過當。

報導內容反映出現代社會應重視哪項法治觀念？ (A)人民與政府都要守法 (B)法律保障部分特權人士 (C)修法可促進社會進步 (D)法律依一定程序制定。

《答案》A

348. () 下列哪一幅氣候圖最能呈現高雄、屏東地區的氣候特色？



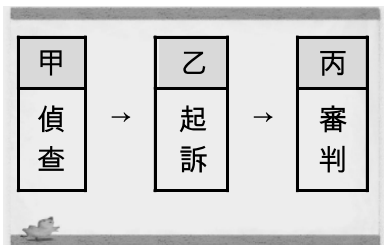
《答案》B

詳解：高屏地區位於臺灣南部，終年高溫，降水集中夏季，夏雨冬乾，故選(B)。

349. () (甲)發布戒嚴 (乙)選舉地方縣市議員 (丙)制定《動員戡亂時期臨時條款》 (丁)成立「臺灣省行政長官公署」。將以上史事依發生的先後順序排列，下列何者正確？ (A)甲乙丙丁 (B)甲丙乙丁 (C)丁甲乙丙 (D)丁丙甲乙。

《答案》D

350. () 以下是刑事偵查的流程——



下列關於甲、乙、丙的敘述，何者正確？ (A)甲：由法官負責 (B)乙：由警察向法院提起 (C)乙：由檢察官向法院提起告發 (D)丙：由法官負責，不受外力干涉。

《答案》D

詳解：甲、乙皆為檢察官之職權。(C)檢察官向法院提起公訴。

351. () 佩佩計畫用人生的第一筆薪水，帶爸媽坐郵輪到沖繩旅行，這天他們來到了基隆港搭乘郵輪，看到繁忙的基隆港港務，令妍妍不禁好奇其發展背景。請問：下列何者對基隆港的描述是正確的？ (A)用瀉湖地形改建而成 (B)為一天然的深水灣澳 (C)是填海造陸的人工港 (D)港區內多珊瑚礁地形。

《答案》B

詳解：基隆位處於北部岬灣海岸，為一天然深水灣澳。

352. () 附圖為緬甸的政治發展概況：

緬甸自西元 1962 年開始由軍人獨裁統治。西元 2007 年爆發反軍政府示威，是緬甸 20 年來規模最大的抗議遊行，此遊行本為抗議油價高漲，後轉為要求民主的示威遊行。西元 2011 年緬甸宣布解除 Facebook、Twitter、BBC、YouTube 等網站的封鎖，象徵進入網路自由時代。西元 2015 年緬甸舉行 25 年來首次大選，結束軍政府長達 54 年的統治。

請依據上文判斷下列推論何者正確？ (A)政治參與行動由西元 1962 年至今一直蓬勃發展 (B)因人民需求未獲滿足而引發大規模的抗議活動 (C)西元 2011 年起人民的政治參與行動大幅減少 (D)文中大選展現政府服務品質與效率的提升。

《答案》B

353. () 下列有關珊瑚礁的描述，何者錯誤？ (A)生長在清澈的水域 (B)多位於熱帶海域 (C)屬於岩岸地形 (D)主要分布於臺灣西部。

《答案》D

詳解：臺灣南部恆春半島。

354. () 新聞報導：「臺北文資環境守護聯盟到臺北市議會外陳情，希望儘快緊急修復陳悅記老師府和嘉禾新村古蹟，並檢討程序爭議，共創眷村公園。」下列關於「臺北文資環境守護聯盟」的敘述，何者正確？ (A)可稱為利益團體 (B)會提名候選人參選 (C)為地方立法機關 (D)負責審查臺北市政府預算。

《答案》A

詳解：(B)政黨會提名候選人參選。(C)、(D)臺北市議會為地方立法機關，負責審查臺北市政府預算。

355. () 西南部居民會在沿海地區掘土作池，成為引水養魚的水產養殖場。請問：在此區的海岸線，當地居民最不可能進行哪一種海岸利用？ (A)利用冬季少雨的日子晒鹽 (B)在沿海

淺灘之中架棚養蚵 (C)於岸邊沙灘開闢海水浴場 (D)開放遊客浮潛與欣賞珊瑚。

《答案》D

詳解：養殖漁業魚塭屬沙岸特色，沙源充足的地方，不利於珊瑚礁海岸生成。

356. () 臺中有全臺最大的火力發電廠，燃煤所排放的廢氣常使得該地區灰濛濛一片，使「空汙議題」意外成為選舉期間候選人相互攻防的焦點。附表為某年臺中大里測站 PM₁₀ 懸浮微粒濃度的月平均值。根據附表資料，下列敘述何者正確？ (A)可知大里地區夏季空氣品質最差 (B)空氣品質好壞受到氣溫變化影響 (C)因位於東北季風背風側，讓此地區空氣品質變差 (D)可從此表得知空氣汙染來自境外。

大里測站 PM ₁₀ (單位：μg/m ³)	
1月	47
2月	56
3月	63
4月	66
5月	47
6月	39
7月	40
8月	30
9月	44
10月	48
11月	51
12月	36

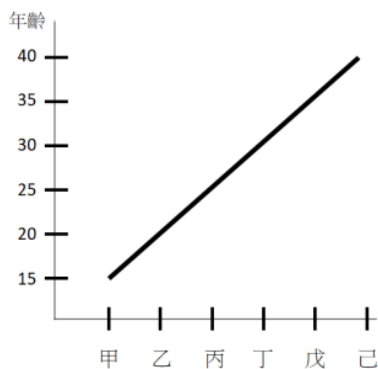
《答案》C

詳解：(A)由附表可知大里地區冬季空氣品質最差。(B)空氣品質的好壞主要受季節風向的影響。(D)此圖並無境外空氣汙染源的說明，故無法判斷。

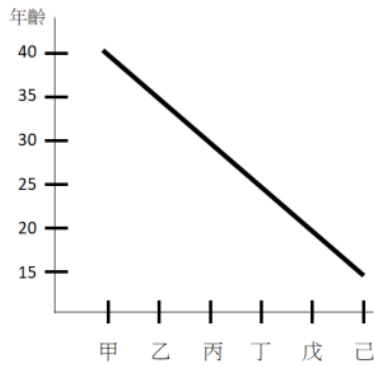
357. () 我國在公職人員選舉及公民投票上設有年齡限制，若依照下列甲～己各項最低年齡限制的規定，依序畫出的連接線，最接近下列何者？

- (甲)參選花蓮縣縣長
- (乙)參選頭城鎮鎮長
- (丙)參選三民里里長
- (丁)公民投票
- (戊)參選基隆市市長
- (己)參選總統、副總統。

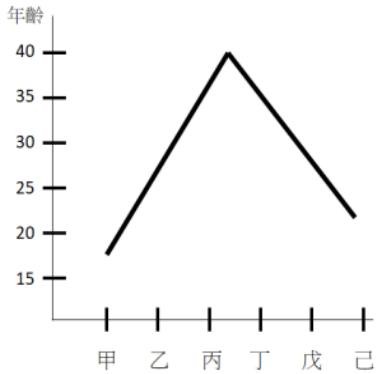
(A)



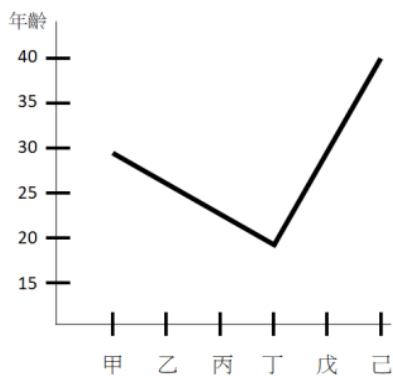
(B)



(C)



(D)



《答案》D

詳解：(甲)為 30 歲，(乙)為 26 歲，(丙)為 23 歲，(丁)為 18 歲，(戊)為 30 歲，(己)為 40 歲。

358. () 老師出示以下案例，請同學找出錯誤的地方，並加以說明——

阿壹與鄂爾兩人因
(甲)債務糾紛決定提出
民事訴訟，阿壹 (乙)
委託檢察官向地方法院
提出，(丙)法官受理後
開始調查、審理，最後
兩人在法官面前，達成
(丁)訴訟上和解。

根據內容判斷，下列何人的說明才是正確的？ (A)大松：「甲債務糾紛應提出刑事訴訟。」 (B)小樹：「乙應委託律師向法院提出訴訟。」 (C)花花：「丙應由檢察官調查，法官審理。」 (D)阿草：「丁一旦提起訴訟就不能進行和解。」

《答案》B

詳解：(甲)無錯誤，債務糾紛為私人間財產上的糾紛。(丙)民事訴訟中無檢察官，而是由雙方當事人提出有利自己的證據，法官負責審理、裁判。(丁)無錯誤，民事事件提起訴訟後，仍可在法官面前達成和解。

359. () 下表為天龍國的兩家報社，分別針對「是否應開放日本核災地區的食品進口」議題所做的民意調查結果：

	支持	沒有意見	反對
甲報社	13 %	50 %	37 %
乙報社	20 %	45 %	35 %

單位：%

關於此一民調結果的分析，下列敘述何者正確？ (A)該國民眾對此一議題的了解程度很高 (B)兩家報社的調查結果對政府有強制力 (C)對此議題的支持者與反對者分別各半 (D)政府可對比兩個民調結果作為決策依據。

《答案》D

詳解：沒有意見的人很多，顯示該國民眾對此一議題的了解程度不高。

360. () 地理老師在複習臺灣離島時，繪製了附圖，並請同學比較甲島和乙丙丁三島的特色。請問：下列何人的敘述正確？ (A)承忠：甲為大陸島，乙、丙、丁為火山島 (B)美芳：甲為火山島，乙、丙、丁為珊瑚礁島 (C)謝豪：甲是四島嶼中，唯一位於臺灣海峽的島 (D)玉凡：甲是四大島嶼中，唯一擁有雅美(達悟)族文化的島。



《答案》C

詳解：甲、乙、丙、丁皆為火山島，其中僅有甲位於臺灣海峽，其餘皆位於太平洋。(D)擁有雅美(達悟)族文化的島為乙(蘭嶼)。

361. () 近年來科學家研發太陽能電池，將太陽能轉為電能。但是太陽能電池需要夠長的日照，才能持續發電，達到實用的目的。若只單純考量年平均日照時數，下列何地比較適合開發太陽能發電？ (A)蘭陽平原 (B)恆春半島 (C)臺北盆地 (D)林口台地。

《答案》B

詳解：臺灣南部日照時間長，終年高溫。

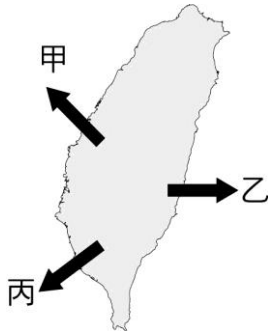
362. () 下列關於地方自治的敘述，哪些選項是正確的？ (A)甲乙丙丁 (B)甲乙丙戊 (C)乙丙丁戊 (D)甲乙丙丁戊。

- (甲)自治範圍在國家法律規範內
- (乙)自己選舉自治官員
- (丙)自己管理該地區的公共事務
- (丁)不受中央政府的監督
- (戊)自己制定地方法規

《答案》B

詳解：(乙)地方自治的精神在於由地方上人民依法組成地方政府，以管理地方事務，亦即地方政府首長及民意代表都由地方的人民直接選舉產生；(戊)地方政府依地方需求擬定政策，制定自治法規，進而推動實施。

363. () 地理現象的分布往往具有一定的趨勢或邏輯可循。請問：臺灣的離島在甲乙丙三個方位的分布中，分別依序主要以哪一種島嶼為主？ (A)火山島、大陸島、珊瑚礁島 (B)火山島、珊瑚礁島、大陸島 (C)大陸島、火山島、珊瑚礁島 (D)大陸島、珊瑚礁島、火山島



《答案》C

詳解：金門馬祖位於臺灣西北方，地近大陸，地質與大陸相連，屬大陸島；火山島需靠近板塊交界帶，故除了澎湖外，皆位於臺灣東部；珊瑚礁島由珊瑚礁構成，多生成於熱帶海域，故多位於臺灣西南方。

364. () 一則有關行政訴訟的新聞報導如附圖：

一名男子開車時遇救護車鳴笛卻沒讓路，遭警方開罰 3,600 元，男子不服提起行政訴訟，拿出重度聽障身心障礙證明(僅能聽到 100 分貝以上聲音)，表示自己是依身心障礙相關法規考取駕照，但在窗戶密閉的車子裡，確實聽不見救護車鳴笛聲(車內鳴笛聲會小於 100 分貝)。法官認定男子並非故意不禮讓救護車而無違法，因此撤銷罰單。

- 下列相關敘述何者正確？ (A)警方依刑事類法規對男子開罰 (B)政府的行為亦須符合法律的規定 (C)顯示人民的權利凌駕於法律之上 (D)男子依據民事類法規考取駕照。

《答案》B

詳解：(A)由警方直接開罰，應為行政法規；(C)顯示無論是人民還是政府都應該遵守法律，不能凌駕於法律之上；(D)應為行政法規。

365. () 來自臺北的攤販阿來欲前往高雄的愛河擺攤，到了高雄之後，發現高雄的氣候和臺北有很大的不同，請問：下列何者最可能是阿來在高雄所遭遇的狀況？ (A)受東北季風影響，連冬季也潮溼多雨 (B)南部夏季炎熱且多雨，常見騎樓建築 (C)夏季受地形影響，比臺北更炎熱悶溼 (D)冬季常受到颱風侵襲影響而造成災害。

《答案》B

詳解：(A)高雄冬季為乾季。(C)臺北受地形影響，夏季比高雄更炎熱悶溼。(D)颱風較常在夏秋兩季發生。

366. () 《刑法》第 274 條修法說明如下圖，請問，從圖中說明可看出《刑法》的何種內涵？ (A)違法行為不一定是犯罪行為 (B)避免人們透過私刑冤冤相報 (C)界定國家執行刑罰權的範圍 (D)可以有效解決社會紛爭。

《刑法》第 274 條原本規定：「母於生產時或甫生產後，殺其子女者，處六月以上五年以下有期徒刑。」是考量到母親在子女剛出生時的精神狀態而減輕刑度，但若殺害非嬰兒子女，就是犯了普通殺人罪，要處死刑、無期徒刑或十年以上有期徒刑。然而，為了避免對出生嬰兒的生命保護流於輕率，西元 2019 年又修法增加「因不得已之事由」要件，如是否遭性侵害而受孕、是否生產後才發現嬰兒有嚴重身心缺陷障礙等，並交由司法審酌判斷，以避免該條寬恕規定被隨意引用。

《答案》C

367. () 根據環境部的統計資料，全臺 50 條主要河川中，有四分之一的河段被認定屬於中、重度汙染，不宜飲用、灌溉，長度達 763.9 公里。因此，減少汙染物進入民眾的日常用水中，已成為刻不容緩的問題。附圖為臺灣某河川流域的水質監測圖，請問：下列關於此河川之敘述哪些正確？ (甲)上游地區的水質一定會比下游地區更好 (乙)河川汙染程度差異與人口密集程度有關 (丙)該條河川流域的地勢大致上為東高西低 (丁)河川汙染物可能來自於上游的土石沖刷 (A)甲乙 (B)乙丙 (C)丙丁 (D)甲丁。



《答案》B

詳解：(甲)上游水質通常比下游地區好，但仍可能因各地開發情況不同而有所差異。(丁)河川汙染物若是來自土石沖刷，在中上游地區應呈現汙染情形，但從圖判別中下游人口密集區汙染較為嚴重，故河川汙染應與土石沖刷關係較小。

368. () 《民法》是規範私人間權利義務關係的法律。請問：下列關於《民法》的敘述，何者正確？ (A)主要規範內容為各種私人間的犯罪行為和身分關係 (B)必須符合《憲法》對於基本權利的規定 (C)《民法》的法律位階高於《憲法》 (D)結婚只要雙方意思一致、口頭答應即有效。

《答案》B

369. () 人民權利遭受不法侵害時，可依法定程序提起救濟，下列何者不屬之？ (A)同學借錢不還，自行拿走他的東西來抵債 (B)發生買賣糾紛，向調解委員會聲請調解 (C)機車被偷報案尋車，警察逮捕嫌疑犯移送法辦 (D)顧客欠繳手機通話費，通訊業者依法追訴。

《答案》A

370. () 在傳統的君主封建時代中，「人治」是國家運作的核心，代表國家的統治以掌權者的意志為依歸。隨著社會變遷，現代民主國家開始重視「法治」精神。關於「法治精神」在民主社會中的定位，下列敘述何者正確？

(A)

由人組成的社會終究要以「人治」為原則，「法治」則作為輔助的工具

(B)

「法治」意味著法律可自行妥善運作，法治社會中可以完全杜絕「人」的影響力

(C)

在法治社會中，法律由統治者制定，作為管理國家與人民的強力工具

(D)

「人治」的效果往往因人而異，「法治」才可以建立穩定而客觀的標準

《答案》D

詳解：法治較人治標準而客觀，法治社會中的法律應由人民選出的代表所共同制定。然則徒法不能自行，因此其制定與施行不可能完全不受人的因素影響。

371. () 附圖為交通部臺鐵南港至花蓮提速改善計畫(北宜新線鐵路)，希望北宜新線鐵路與宜蘭線鐵路形成路網，促進區域發展。請問：關於目前規畫的兩種方案及其所經過的區域，下列何者正確？ (A)方案二的起點(南港)屬於淡水河流域 (B)方案二連結了淡水河與卑南溪流範圍 (C)方案一穿越翡翠水庫集水區是屬於蘭陽溪上游 (D)方案一的路線穿越水庫集水區，但距離較短，應該優先選擇此方案。



《答案》A

詳解：北宜新鐵方案主要連結臺北至宜蘭，以南港為起點至宜蘭頭城，此計畫尚未包含花蓮，其中方案一穿越的翡翠水庫是淡水河流域，但經過水庫集水區可能破壞生態。

372. () 大型重機團體發起陳情，認為根據《道路交通管理處罰條例》，大型重機得依交通部公告的路段及時段行駛於國道，而目前卻僅有國 3 甲及臺 64 線快速道路開放行駛。交通部高速公路局表示，民調顯示反對意見居多，尤其大型車輛更在意開放重機上國道後的國道行車秩序，所以至今遲遲未全面開放。針對上文內容的敘述，下列何者正確？ (A) 立法院未能制定可保障人民權益的法律 (B) 重機團體爭取法律已授權下的行政行為 (C) 開放大型重機上國道缺乏法律作為依據 (D) 大型車輛關注行政命令與憲法位階關係。

《答案》B

373. () 小雪全家利用寒假時開車去環臺旅行。出發的那天，清晨時雨勢滂沱，經過丘陵山區，來到平原後，天際雲氣消散，天空放晴。若依據臺灣緯度與氣候的關係研判，小雪全家出發當天的行程最可能為下列何者？ (A) 從北部至中部 (B) 從南部至中部 (C) 從中部至南部 (D) 從西部至東部。

《答案》A

詳解：寒假屬冬季，臺灣北部多雨，三義山區以南的中、南部通常乾晴。

374. () 附圖為臺灣部分主要河川分布圖，下列有關於卑南溪的敘述，哪些是正確的？ (甲) 卑南溪與高屏溪的分水嶺應該是中央山脈 (乙) 卑南溪水質乾淨是因為少人為、工業汙染 (丙) 卑南溪的流域面積為全臺灣排名第一 (丁) 卑南溪主流流向北方，最後則注入太平洋 (A) 甲乙 (B) 乙丙 (C) 丙丁 (D) 甲丁。



《答案》A

詳解：(丙) 全臺灣流域面積排名第一為高屏溪。(丁) 卑南溪主流流向東南方，最後注入太平洋。

375. () 阿德要寫公民報告，他在網路上搜尋相關資料，圖為他在某一個政府組織的「所屬機關」中看到的網頁。該網站應是下列哪一政府組織？ (A) 行政院 (B) 縣政府 (C) 市政府 (D) 縣議會。



《答案》B

詳解：依我國地方政府組織，縣政府之下設鄉(鎮、市)公所，圖中顯示有鄉鎮市公所網站，故可知是屬於縣政府的網站。

376. () (甲)地面天氣圖 (乙)天氣預報圖 (丙)衛星雲圖。我們每天從電視、報紙等傳播媒體，獲得天氣變化趨勢的預測訊息，這些天氣資料製圖處理的順序應該為何？ (A)甲+乙→丙 (B)乙+丙→甲 (C)甲+丙→乙 (D)甲→丙→乙。

《答案》C

詳解：由各地氣象測站蒐集到的氣象資料，繪製成地面天氣圖(甲)，輔以衛星雲圖(丙)，就能進一步預報天氣(乙)。

377. () 小綸在內政部的網站看到下列公告，這份公告的目的應為下列何者？ (A)說明數位身分證的推動遵循依法行政原則 (B)內政部的行政行為必須由內政部長來授權 (C)行政法為原則性的規定須藉由憲法來補充 (D)國民身分證的格式、內容由立法機關定之。

內政部指出，《戶籍法》第52條規定國民身分證的格式、內容、製發由中央主管機關定之。將現行紙本國民身分證改為PC晶片卡的數位身分證，屬於國民身分證格式的變更，並未逾越《戶籍法》的授權範圍，且目前正依據該法條的授權，研修國民身分證及戶口名簿製發相片影像檔建置管理辦法，使數位身分證的規範更加完善。

《答案》A

378. () 鎮德出國旅遊時，家中遭歹徒闖空門，回國後他立刻報警處理。警察向里長調閱監視器，認為鄰居均宜的嫌疑重大，故決定向地方法院檢察官提起告訴。在此案件中，下列何者有權向法院提起公訴？ (A)法官 (B)警察 (C)里長 (D)檢察官。

《答案》D

379. () 下圖是某民間團體開會的發言——



阿福：從數據來看，外籍家庭看護工平均每天約工作13小時，但平均每月工資只有1萬7千元，也沒有七休一和加班費等保障。

小娟：看來移工在從事家庭看護工上享有的喘息機會仍未受到重視！



志強


近期我們規畫的
(甲) 可以將此併
入，要求政府改善移
工權益！

請依據發言內容判斷，下列哪一項敘述與該團體有關？ (A)由一群具有相同政治理念者所組成 (B)於服務選民時可完成上述數據調查 (C)甲的方式可影響到政府政策的制訂 (D)甲可採用遊說、示威及參選等方式。

《答案》C

詳解：從上文開會內容可判斷出是利益團體在爭取外籍移工相關福利。

380. () 每到颱風季，決定是否放颱風假一直是各地縣市長難以抉擇的課題，根據我國的相關規定，發生各種天災時，只要符合相關標準的參考基準值，就可以宣布停班停課。附圖為某次颱風全臺各縣市停班停課的指標。依據這張圖表，下列敘述何者正確？ (甲)風、雨的大小是縣市首長決定放颱風假的唯一標準 (乙)颱風的路徑無法完全預測，會受到多種因素的影響 (丙)風、雨未達標準，不代表颱風不會對當地造成災害 (丁)氣象署的風雨預報誤差過大，不適合做為放假依據 (A)甲乙 (B)乙丙 (C)丙丁 (D)甲丁。



《答案》B

詳解：(甲)除了風、雨大小之外，是否影響安全也是判斷標準之一。(丁)由於颱風的風雨及路徑難以預測，即便氣象署的預報可能有誤差，但仍可當作重要的放假參考標準及依據。

381. () 下列是住在世界各個不同地區的人民的地理位置，何者的居住環境氣溫最低，尤其在冬季需要厚重的保暖衣物？ (A)北緯 10 度、高度 10 公尺 (B)北緯 10 度、高度 500 公尺 (C)南緯 50 度、高度 10 公尺 (D)南緯 50 度、高度 500 公尺。

《答案》D

詳解：緯度高、高度高的地方則氣溫較低。

382. () 芮芮到馬公市參觀青灣仙人掌公園，並品嚐當地名產仙人掌冰，老闆說澎湖氣候乾燥、降水不足，特別適合仙人掌生長。請問：造成當地降水量稀少的主因為何？ (A)缺乏天然植物 (B)位於冬季季風背風側 (C)緯度較低，蒸發旺盛 (D)地勢低平，難以抬升水氣。

《答案》D

詳解：因地勢低平，水氣無法隨山勢抬升而成雲致雨，故降水量稀少。

383. () 有關颱風的敘述何者正確？ (A)當颱風中心靠近臺灣，氣壓會逐漸升高 (B)颱風和梅雨是臺灣水資源的主要供應者 (C)目前的氣象科技已可精準預測颱風移動路徑 (D)颱風侵臺時常與東北季風共同影響臺灣天氣。

《答案》B

詳解：(A)颱風是強烈的低氣壓中心。(C)影響颱風移動路徑的變數複雜，尚無法精準預測。(D)東北季風發生在冬季。

384. () 「靜靜的平日，卑南溪是瘦瘦的河；暴雨以後，如熔熔的奔火。」這首詩是節錄自詩人賈虹所寫的〈卑南溪〉。請問：詩中所描述的是臺灣河川的哪一項特徵？ (A)河川普遍短小 (B)流量變化大 (C)河川東西分流 (D)河川輸砂量高。

《答案》B

詳解：詩中描述卑南溪因降雨季節分布不均，使乾、雨季流量變化大。

385. () 附表為臺灣區域發展指標的區域差異，請問由表中可看出下列哪一項意義？ (A)區域間發展並不均衡 (B)東部區域的生活品質最高 (C)臺灣的產業結構不斷的轉變 (D)北部區域多數的指標皆較其他地區差。

項目 區域	公用事業	
	自來水普及率(%)	平均每人每年用電量(度)
北部	95.2	2,409
中部	87.2	2,047
南部	87.5	2,004
東部	78.7	1,786
平均值	90.5	2,061

項目 區域	教育文化		
	15歲以上教育程度在高中以上(%)	每千人書報雜誌份數(份)	每千人彩色電視機數量(臺)
北部	63.8	220.1	480.9
中部	53.0	154.1	394.1
南部	55.7	155.4	420.6
東部	43.8	152.5	414.1
平均值	58.2	183.0	439.8

《答案》A

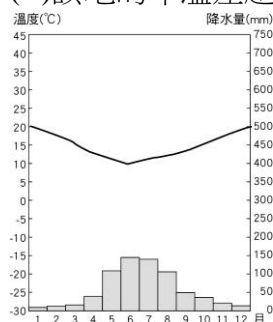
詳解：由表中可看出區域間發展並不均衡，東部區域相對發展較遲緩。

386. () 下列有關水循環的敘述，何者正確？ (A)雨水落至地面後，全部形成地表逕流，直接匯流入海 (B)降水的過程中，並不會產生蒸發作用 (C)空氣中的水氣，主要來自河、湖、海洋的蒸發及植物的蒸散作用 (D)水氣蒸發(散)後，即會降水。

《答案》C

詳解：(A)一部分會滲入地下，形成地下水；(B)會產生蒸發作用；(D)水氣經過凝結現象才能轉為液態。

387. () 附圖為某地區的氣候圖，關於此圖的說明，下列何者正確？ (A)夏季為主要的降雨季節 (B)該地的年溫差超過 20°C (C)圖中無法得知年降水量 (D)此地點應該位在南半球。



《答案》D

詳解：(A)該地雨季為整年中最低溫，故雨季為冬季。(B)最高溫約為 20°C，最低溫約為 7°C，年溫差約為 13°C。(C)圖中長條圖為月降水量，加總後可得知年降水量。

388. () 以下是和解與調解的比較——

項目	和解		調解
	訴訟外	訴訟上	
機關	無	乙	丙
法律效力	甲	同法院 確定判決	丁

根據內容判斷，上述甲、乙、丙、丁依序應填入下列何者？ (A)無、法院、法院、契約效力 (B)無、法院、調解委員會、契約效力 (C)契約效力、法院、調解委員會、同法院確定判決 (D)契約效力、警察局、市(縣)政府、同法院確定判決。

《答案》C

389. () 臺灣的兩個離島——花瓶嶼(25.4°N,121.9°E)、棉花嶼(25.5°N,122.1°E)，過去因長期軍事管制，沒有受到太多人為破壞，因能保存較完整的海島火山地形，在民國 85 年時成立野生動物保護區。請問：此一野生動物保護區主要位在哪一個海域？ (A)南海 (B)東海 (C)巴士海峽 (D)臺灣海峽。

《答案》B

詳解：從經緯度可判斷位於臺灣本島東北方，位於東海海域。

390. () 爸爸對小智說：「當你明年成為限制責任能力人時，我也剛好符合總統參選人的年齡資格了！」由此可知，小智與爸爸的年齡應相差幾歲？ (A)21 歲 (B)22 歲 (C)26 歲 (D)28 歲。

《答案》C

詳解：明年小智滿 14 歲，爸爸滿 40 歲，兩人相差 26 歲。

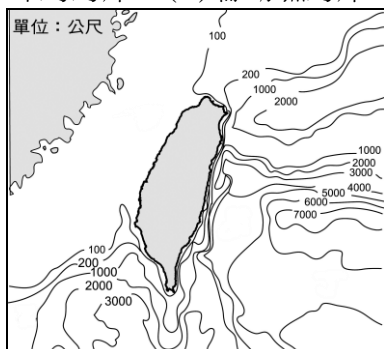
391. () 民事訴訟是處理私人間糾紛的訴訟制度。下列關於民事訴訟制度的規定，哪些是正確的？ (A)甲乙丙 (B)甲乙丁 (C)甲丙丁 (D)乙丙丁。

甲	當私人權益受侵害，當事人可以向法院提出民事訴訟。
乙	雙方當事人須自行提出有利自己的證據。
丙	雙方都必須向法官陳述，並與對方進行辯論。
丁	法官根據個人的偏好、主張及辯論內容進行判決。

《答案》A

詳解：在民事訴訟中，法官根據當事人雙方的證據、主張及辯論內容進行判決。

392. () 附圖是臺灣沿海地區的海底地形，圖中之等值線為海底深度相同處連結成的「等深線」。依據圖中等深線所示，海底坡度最陡處，與臺灣哪一類海岸地形最靠近？ (A)沙岸 (B)岬灣海岸 (C)珊瑚礁海岸 (D)斷層海岸。



《答案》D

詳解：由圖可判斷東部海岸的海底坡度最陡，此處屬於斷層海岸。

393. () 從事電視劇製作的小可拿到電視劇「樂天少女李姍姍」的拍攝工作排程，其分集劇情腳本如附圖。根據劇情腳本，哪些集數的行為與行政法相關？ (A)1、3、4 (B)3、4、5、7 (C)2、3、5、6、7 (D)1、2、3、4、5、6。

第 1 集
李姍姍父母死於「縱火案」
第 2 集
李姍姍被錢偉「收養」
第 3 集
李姍姍「從藝術學校畢業」
第 4 集
李姍姍繳納人生第一次「所得稅」
第 5 集
李姍姍男友「闖紅燈」追愛
第 6 集
李姍姍答應男友「求婚」
第 7 集
李姍姍為錢偉「申請長照」

《答案》B

詳解：「畢業、繳納所得稅、闖紅燈和申請長照」皆涉及行政法。「縱火案」涉及《刑法》公共危險罪、「收養」規範於《民法》、「求婚」與行政行為無關。

394. () 和解可分為訴訟外和解與訴訟上和解，關於兩者間的差異，哪一項敘述是正確的？ (A)法律上的效力不同 (B)審判的方式不同 (C)訴訟的對象不同 (D)判決的結果不同。

《答案》A

詳解：訴訟外和解無強制效力；訴訟上和解成立後做成和解筆錄，與確定判決有相同的效力。

395. () 小安在宜蘭念書的期間，發現當地沿海地區的農人，為了防止強勁的季風影響農作物，多會在農田的四周栽植防風林；依據當地盛行風的方向判斷，小安所見到的防風林，種植方向應多為何？ (A)西北——東南向 (B)東北——西南向 (C)東——西向 (D)南——北向。

《答案》A

詳解：季風為「東北——西南向」，必須以「西北——東南」向阻擋侵襲。

396. () 櫻花是溫帶植物，適合高冷的地方生長，開花時間受氣溫影響。臺灣原生種櫻花包含了平地常見的紅花瓣山櫻花、中高海拔的白花霧社櫻以及阿里山櫻等三種，在低海拔地區種植常出現生長勢弱、開花數少、病蟲害多等問題。依照櫻花生長的特性，下列哪些選項可能是造成花期開始時間差異的主要原因？ (甲)臺灣南北緯度的差異 (乙)各地地勢高低的不同 (丙)受東北風吹拂影響 (丁)受西南風吹拂影響 (戊)冬季北部降水量較高 (A)甲乙 (B)乙丙 (C)丙丁 (D)丁戊。

《答案》A

詳解：櫻花開花主要受到溫度變化影響，故影響因素應為緯度及地勢高低。

397. () 地狹人稠又多山的臺灣，順著地形整理，形成一階階的梯田。坪林、石碇山區一路到東北角貢寮一帶的水梯田，有平臺階梯蓄水處理，可以延緩降雨洪峰到達時間，並減少地表逕流的形成，進而防止○○。請問：上文中的「○○」應該填入下列哪一種環境問題？ (A)地層下陷 (B)海水倒灌 (C)颱風侵襲 (D)水土流失。

《答案》D

詳解：在山坡地沿等高線開闢梯田，能增加耕種面積，也能減少開發所造成的水土流失。

398. () 地理老師講解海岸地形與地名由來的相關性，提及海岸地形中，常會出現有「角」或「鼻」

等地名，舉例如「富貴角」、「三貂角」、「鼻頭角」。請問：這些地名常出現在臺灣哪一段海岸？ (A)東北角岩岸 (B)西南部沿海 (C)東部斷層海岸 (D)西北部沿海。

《答案》A

詳解：臺灣西南沿海為沙岸、東部為平直的斷層海岸，而臺灣南端恆春半島也有岬角分布，如「鵝鑾鼻」與「貓鼻頭」。

399. () 「氣壓」看不見也不易感覺出來，但對天氣影響很大，下列關於氣壓的敘述，何者不正確？ (A)單位是百帕 hPa (B)低氣壓通常帶來不下雨的好天氣 (C)H 是指高氣壓 (D)單位面積上的空氣重量就是氣壓。

《答案》B

詳解：低氣壓多是陰天或雨天，甚至有雷雨。

400. () 附圖是「注意斷崖」的警告標誌，依據臺灣海岸線的分布特性，在下列哪一段海岸的公路駕駛時，最容易看到附圖標誌？ (A)西部海岸，北上方向 (B)西部海岸，南下方向 (C)東部海岸，北上方向 (D)東部海岸，南下方向。



左側斷崖

《答案》D

詳解：臺灣東部多斷層海岸，且由斷崖位於左側可知行車方向應為由南向北的「北上方向」。